



FICHA DE LECTURA Nº 1



OBSERVO Y CONTESTO:

1. ¿Cuál es el precio de la lata de ATÚN en aceite vegetal?
2. ¿Cuál es la fecha límite de consumo?
3. ¿Qué ingredientes tiene el contenido de la lata?
4. ¿Cuál es la capacidad de la lata?
5. ¿Cuántas proteínas tiene por 100 gr. de producto?
6. ¿Quién es el dueño de la fábrica?



FICHA DE LECTURA Nº 2

A

B

Vocabulario y ortografía

A. Lorena se acurrucó entre las sábanas para seguir durmiendo.

B. Era un día estupendo, de esos en los que no hay colegio.

C. Sonó el teléfono. La niña se desperezó en la cama, mientras su madre lo atendía.

D. Su mamá tenía que ir, de forma urgente, a un sitio donde los niños no pueden entrar.

E. ¿Sabrás vestirte y desayunar sola? –le preguntó su mamá, algo preocupada.

F. En un ratito vendrá Inés a cuidarte.

G. Claro que sí –contestó Lorena contenta de poder demostrar que se había hecho mayor.

H. Inés era una chica muy simpática que la llevaba al colegio por la mañana.

I. Lorena sólo tuvo que calentar el desayuno que le había dejado su madre.

J. Oculto en la servilleta encontró un bombón.

1. Estiró

2. Intranquila

3. Manifestar

4. Encogió

5. Encantadora

6. Maravilloso

7. Escondido

8. Momentito

9. Apresurada

10. Preparado

OBSERVO Y CONTESTO:

- En el recuadro **A** tienes unas frases del texto en las que aparecen subrayadas algunas palabras.
- En el recuadro **B** hay palabras que deberás relacionar con la subrayadas en el **A** según su significado.



FICHA DE LECTURA Nº 3



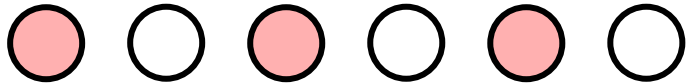
OBSERVO Y CONTESTO:

1. Una viñeta no corresponde a la historia, ¿qué viñeta es?





FICHA DE LECTURA Nº 4



OBSERVO Y CONTESTO:

1. Escribe los diálogos que te sugieran las imágenes.





FICHA DE LECTURA Nº 5

No te pedimos que hagas un esfuerzo más por cuidar el medio ambiente. Esta vez, deja que lo haga tu coche.

Lo único que te pedimos es justo lo que estás haciendo. Leer estas 17 líneas.

Sabemos que cuatro contenedores en lugar de uno ocupan espacio en cualquier cocina; que ir al container que hay a dos manzanas de tu casa, en lugar del que tienes justo enfrente, roba tiempo. Que casi todo lo que es ecológico es más caro y ¿dónde se depositan los tetrabriks: en el azul, el verde o el amarillo?

Ser responsable con el medio ambiente a veces cuesta. Pero cuando dejas que sea el Honda Civic Hybrid el que lo haga por ti, no. Sus dos motores, uno de gasolina y otro eléctrico, se combinan de tal forma que consumen y emiten menos proporcionándote el máximo rendimiento a la vez. Así, mientras tú disfrutas de la conducción, acelerando de 0 a 100 en 12,1 segundos, él sólo emite 109 g/km de CO₂. Y mientras tú aprovechas su completo equipamiento, él recorre más de 1.000 km sin repostar. Te conviertes en alguien cuidadoso con tu entorno sin renunciar a nada y con la total tranquilidad de disponer de 5 años de garantía.

Si has llegado a leer hasta aquí, casi estás. Sólo nos falta invitarte a probar el Honda Civic Hybrid en cualquiera de nuestros Concesionarios.

HONDA
The Power of Dreams



Honda Civic Hybrid desde 23.500 €. Exento del Impuesto de Matriculación.

PPP recomendado para Civic Hybrid 1.5 i-VTEC 134 CVT en Península y Baleares incluyendo IVA y transporte. 5 años de garantía, sin límite de km, a través de la Red de Concesionarios Oficiales de venta de automóviles HONDA. Consumo mixto (l/100 km): 4,6. Emisiones CO₂ (g/km): 109. Imagen mostrada con Accesorios Originales Honda. Información y solicitud de prueba: 902 42 46 46. www.honda.es

HONDA
Honda Finance Suite

CIVIC
HYBRID



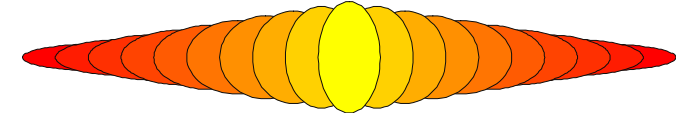
OBSERVO Y CONTESTO:

1. ¿De qué marca es este coche?
2. ¿Y el modelo?
3. ¿Cuál es el precio de este flamante vehículo?
4. ¿Qué tiempo tarda en pasar de 0 a 100 km/h?
5. ¿Cuántos km podemos recorrer con el depósito lleno?
6. Hay una característica de este coche que no la encontramos en ningún otro, ¿de cuál se trata?






FICHA DE LECTURA Nº 6




OBSERVO Y CONTESTO:

1. ¿Cuál es la marca de este producto?
2. Sabemos que está fabricado por COVAP, pero ¿qué significan estas siglas?
3. ¿Cuál es la fecha de caducidad de este producto?
4. ¿Qué capacidad tiene este recipiente?
5. ¿Cuáles son sus dos principales componentes?
6. ¿Qué vitaminas contiene?
7. Si deseo hacer una consulta, ¿a qué teléfono llamaré?





FICHA DE LECTURA Nº 7



OBSERVO Y CONTESTO:

1. ¿De dónde viene el agua mineral de Lanjarón?
2. ¿En qué ciudad está embasada el agua?
3. ¿Qué capacidad o contenido tiene el envase?
4. ¿Quién ha declarado su origen como reserva natural de la biosfera?

SERVICIO DE ATENCIÓN AL CONSUMIDOR: 902 100 334
www.lanjaron.com
Embotado por:
Aguas Font Vella y Lanjarón, S.A.
Urjell, 240 - 08036
Barcelona
Una Sociedad
del Grupo Danone.
R.S. Nº 27.916R

Manantial Salud (Lanjarón - Granada)
AGUA MINERAL NATURAL

Lanjarón
AGUA DE SIERRA NEVADA

1,5L

ANÁLISIS QUÍMICO (mg/L):
BICARBONATOS 105
SULFATOS 17,3
CALCIO 27,2 - MAGNESIO 8,8
SODIO 4,8
CONDUCTIVIDAD (µS/cm) 204
Centro Nacional de Tecnología
y Seguridad Alimentaria. (CNTA-2005)

ORIGEN
*Un entorno privilegiado:
el agua de Lanjarón
nace en el Parque Nacional
de Sierra Nevada, declarado reserva
de la biosfera por la UNESCO.*

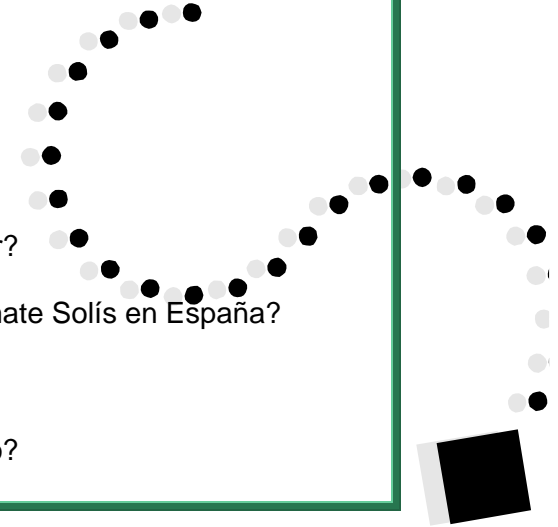


FICHA DE LECTURA Nº 8




OBSERVO Y CONTESTO:

1. ¿La lata qué contiene tomate frito o crudo?
2. ¿Qué peso neto tiene el producto?
3. ¿Entre sus ingredientes se encuentra el azúcar?
4. ¿Cómo se llama la industria que elabora el tomate Solís en España?
5. ¿Cuántos hidratos de carbono tiene?
6. ¿En qué provincia está fabricado el tomate frito?





FICHA DE LECTURA Nº 9




OBSERVO Y CONTESTO:

1. ¿Qué día se celebra la procesión?
2. ¿Cómo se denomina la Hermandad?
3. ¿A qué hora (aproximadamente) será la salida del templo?
4. ¿A qué hora entrará la Cruz de Guía en la carrera oficial?
5. ¿En el recorrido pasará por la calle Mayor?
6. ¿De qué color es la túnica de los nazarenos?
7. ¿El paso de la Virgen estrena algún componente?

Viernes Santo
Hdad. de Ntra. Sra. de la Soledad

La Soledad

Parroquia de San Sebastián



- Hora salida del templo: 22'00
- Hora entrada en el Templo: 01'55
- Hora entrada Cruz de Guía en C.O.: 23'10
- Hora salida último paso de C.O.: 00'30

• Itinerario:
San Sebastián, Santa Rita, Plaza del Cerro, Fernández Franco, Cronista Sepúlveda, CARRERA OFICIAL, Jacinto Benavente, José Estévez, Doctor Fleming, Jesús, Plaza de la Constitución, Ayuntamiento, Cronista Sepúlveda, Feria y San Sebastián.

• Túnicas:
Para las nazarenas negra, al igual que las sandalias. Cordón pasado por el cuello y atado a la cintura, calcetines blancos. Escudo de la Hermandad bordado en la solapa. Para los nazarenos túnica y calcetines blancos, cordón negro colgando por la parte de la izquierda hasta abajo, cubrerrostro, escapulario, guantes y sandalias negros.

• Música:
Banda de Cornetas y Tambores de la Hermandad tras el paso de Santo Sudario.
Agrupación Nuestra Señora de la Soledad tras el paso de palio.

• Estrenos:
8 ánforas de flores del paso de la Virgen.
2 bastones pertigueros.



FICHA DE LECTURA Nº 10

OBSERVO Y CONTESTO:

1. ¿De qué marca es este portátil?
2. ¿Cuál es su precio?
3. ¿Qué capacidad tiene de disco duro?
4. ¿En qué tienda podemos encontrarlo?
5. Para llamar la atención, ¿qué dice el anunciante?

www.mediamarkt.es

¡¡¡EL MEJOR PRECIO DE EUROPA!!!

WIFI

Procesador Intel®
Celeron® M530
(1 MB de Cache L2, 1.73 GHz, 533 MHz FSB)

512 MB
de memoria RAM

Disco duro de **80 GB**

Pantalla **Cristalbright**

Windows Vista

acer

399 €

Preço anterior **499€**
Te ahorras **100€**

20% de descuento

acer AS 4310-400508MI

Procesador Intel® Celeron® M530 (1 MB de Cache L2, 1.73 GHz, 533 MHz FSB), 512 MB de memoria RAM, disco duro de 80 GB, pantalla de 12.1" Widescreen, teclado, ratón y auriculares. Incluye Windows Vista y Microsoft Office 2007. Peso: 2,6 kg. Material: Widescreen Vista normal. Precio: 8.000 el modelo a 15.1" notebook.

intel
Celeron
inside

www.mediamarkt.es

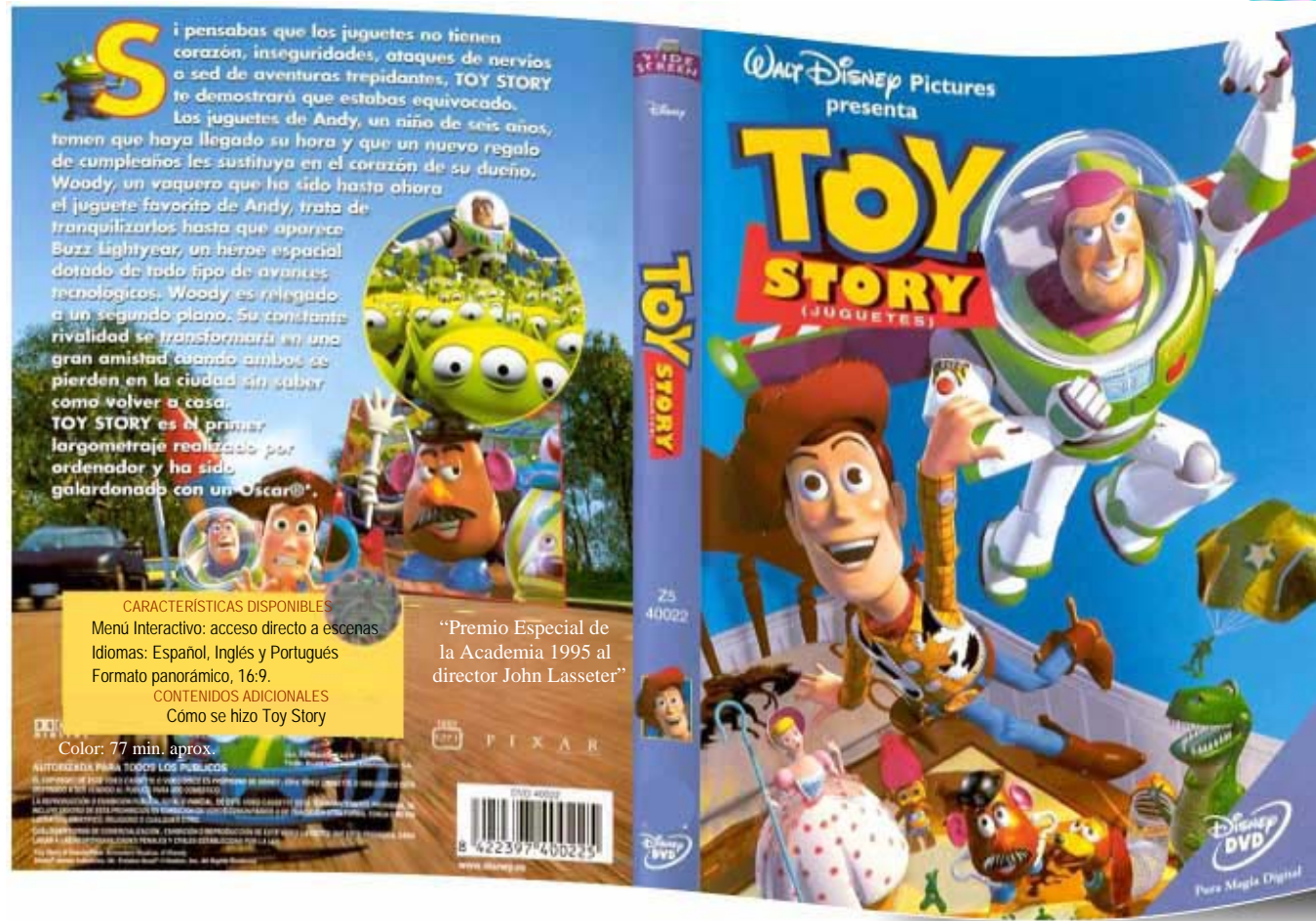
Oferta válida del 13 al 23 de Octubre del 2007. Todos los precios incluyen IVA y GAE. Excluido de los operativos domésticos y electrónicos.

Horario de Lunes a Sábado
10:00 - 22:00

MediaMarkt
Yo no soy tonto



FICHA DE LECTURA Nº 11




OBSERVO Y CONTESTO:

1. ¿Cuál es el título de la película?
2. ¿Qué premios ha recibido?
3. Aproximadamente ¿cuánto crees que dura?
4. ¿En cuántos idiomas está publicada?
5. ¿Cuál es su formato?
6. ¿Y su contenido adicional?



FICHA DE LECTURA Nº 12



OBSERVO Y CONTESTO:

1. ¿Cuál es el teléfono de ALAMEIDA VIAJES?
2. ¿A qué agencia de viajes corresponde este teléfono: 902 108 108 ?
3. Si marco el 957 470 694, ¿a dónde llamaré?
4. ¿Cuál es el teléfono de Viajes Aquasur?



Villa del Río
Afilados Alme 957 177 628

AGENCIAS DE VIAJES

Véase también

Turismo: información y servicios
Turismo rural

CÓRDOBA

Activa Congress 957 277 012

AGENCIA COSTA ESTE DE TURISMO

Almogávares, 64 957 768 696
SMS: Z06RJ

ALMEIDA VIAJES

Av. Viñuelas, 25 bajo 957 764 034
PLANO 6: B-1 SMS: ZTM3T

Almogávares-Tours 957 450 221
Asamba Tour S.L. 957 235 178
Betica Rural 957 292 523
Bonanza 957 498 412
Bonitour 957 239 052

CALIFAL VIAJES



TODO TIPO DE VIAJES

Pº de la Victoria, 1


☎ 957 490 083

www.viajescalifal.com

SMS: 2N146

Córdoba Tour 957 478 580

CÓRDOBA TOUR CRISOL



957 470 570

14002 CÓRDOBA
Plaza San Miguel, s/n
www.cordobatour.com
cordobatour@viajescrisol.com

SMS: HXLDV

RUTAS Y OCIO S.L.

San Ignacio de Loyola, 2 957 470 694

PLANO 4: G-3 SMS: HTQ8J

Savia Amadeus S.A. 957 282 556

..... 957 473 401

..... 957 272 752

SYR VIAJES S.A.



A. nº C.I.AN-14489-2

Servicio a empresas y profesionales

Conde de Cardenas, 16 1º-2

☎ 957 485 848 Fax: 957 485 849

www.viajessyr.com

informacion@viajessyr.com

PLANO 4: H-3 SMS: G2556

Tempo-Tours 957 484 883

Tour Ocio 2016 957 825 123

Turisevilla Viajes 2004 S.L. 957 437 512

Turiviajes 957 438 112

VIACOR



AGENCIA DE VIAJES, S.L.

C/ San Álvaro, 1 - 14003 CÓRDOBA

☎ 957 497 584 Fax: 957 497 621

PLANO 4: H-3 SMS: GFFTY

VIAJES AQUASUR

14900 LUCENA

Juan Jiménez Cuenca, 37 ☎ 957 500 165

www.viajesaquasur.com

SMS: G98TK

Viajes Arques S.A. 957 451 499

Viajes Bonilla 957 326 864

VIAJES ECUADOR

Todo tipo de viajes

14850 BAENA - General Morales, 1

☎ 957 665 208 Fax: 957 665 209

SMS: H3BL9

Viajes Ecuador 957 768 012

Viajes el Corte Inglés 957 478 534

..... 957 477 346

..... 957 498 330

..... 957 204 859

Viajes el Monte 957 476 494

Viajes Escolares Sinta's Española 957 297 003

..... 957 295 157

VIAJES ESTIVALTOUR

Diego Serrano, 25 957 761 538

SMS: 2N3V

VIAJES ESTIVALTOUR

Poeta Emilio Prados, s/n,

(C.C Le Sierra, Loc. B-25) 957 403 092

SMS: GD9ZF

Viajes Fahtima 957 252 972

Viajes Galan Córdoba 957 485 260

Viajes Halcon 957 456 859

VIAJES IBERIA



Especialistas en viajes de empresa,
incentivos, colectivos y congresos.

☎ 902 108 108 - 902 228 022

www.viajesiberia.com

www.viajesiberiabusiness.com

Viajes Iberia S.A. 957 496 722

..... 957 764 969

VIAJES MARIN



Autocares-minibuses 16, 26, 55 pl.

CÓRDOBA - Córdoba de Veracruz, 1

☎ 957 486 199 Fax: 957 483 368

viajesmarin@viajesmarin.com

PLANO 4: G-3 SMS: HZLC2

Viajes Marsans 957 432 000

..... 957 474 619

..... 957 478 220

..... 957 401 190

VIAJES MEZQUITA S.L.

Ronda de los Tejares, 3 957 476 164

PLANO 4: H-2 SMS: HWTND



FICHA DE LECTURA Nº 13

1. AGENCIAS DE LA PROPIEDAD INMOBILIARIA



1.1 ALQUILERES

CONCEPCIÓN. Alquileres amueblados, sin amueblar. Todas las zonas. 9 5 7 - 4 8 . 7 0 . 4 2 .
www.apiconcepcion.com.

2. INMUEBLES

PARTICULAR. Avenida América, 3 dormitorios, solarium, trastero, cochera, piscina. Lujo. 86.000.000 pts. 656-49.64.74.

SANTUARIO. Vendo piso reformado 70 m², tres dormitorios, salón, un baño. Abstenerse inmobiliarias. 607-80.40.94.

VENDO chalet zona Castillo Albaida. Dos viviendas 2000 metros parcela permutaría. 676-94.92.86.

2.4 TRASPASOS

ZONA Zoco. Local totalmente instalado. Con licencia apertura de bar con cocina. 638-42.04.35.

SE traspasa bar (Zoco). 150.000 euros. Tlf: 620-263.334.

SE traspasa cafetería en pleno funcionamiento. Zona Santa Rosa. Interésados llamar al 661-90.77.05.

SANZ
Promotora Inmobiliaria

Casas prefabricadas de hormigón




Desde **11.440 €**
* IVA no incluido

Casas de rápida construcción

Oficina Exposición de Casas en Ctra. Aeropuerto Km 4 Junto Gasolinera.
TLFNO. 636 961 517

CASAS ADOSADAS
URBANIZACIÓN "EL HUERTO" LA VICTORIA

168.000€
ENTREGA 3 TRIMESTRE 2009



Nueva Urbanización de 100 viviendas con zonas verdes y centros docentes.
De la Primera Fase sólo quedan tres Casas al mejor precio del mercado.

- Dos Plantas.
- 133 M².
- 3 dormitorios.
- 3 cuartos baño.
- Patio.
- Cochera.
- Piscina opcional.

Materiales 1ª Calidad. Suelo Tarima Flotante. Placas Solares. Bañera Hidromasaje. Amplia Cochera.

PROMOCIONES Rinconcillo
957 301 051
630 971 325
615 303 988

OBSERVO Y CONTESTO:

1. ¿Cuánto tendré que pagar si quiero comprar un apartamento en 1ª línea de playa?
2. Si llamo al teléfono 607-80.40.94, ¿qué es lo que pienso comprarme?
3. Si me quiero comprar una casa prefabricada de hormigón, ¿a qué teléfono móvil puedo llamar?

Compra-Venta de Fincas Rústicas

FINCAS
PROVINCIA DE CÓRDOBA

www.**InmoCampo.com**

Disponemos de una gran variedad de Fincas. ¡CONSULTENOS!

VALLE DEL GUADIATO
500 hectáreas, finca mista de monte, encinar y siembra. Terreno ondulado con pequeño pantano, nave y gran cortijo para rehabilitar. A 30 minutos de Córdoba. 8.400€ por hectárea

VILLAVICIOSA
Preciosa finca de 30 hectáreas. Dos casas, piscina, luz y agua abundante. Pazo de zorzáles. Monte mediterráneo, olivos, piñar, almendrales, etc. y muy bien cuidada. Ideal para recreo. 420.000€

Info@inmocampo.com 957 77 19 76
GANADERAS - AGRÍCOLAS - CINEGÉTICAS - RECREO

BRILLANTE
Chalet exclusivo.

A estrenar. 1.236 m² parcela. 374 m² construidos. Salón con chimenea. 4 dormitorios. 4 baños. Climatizado. Garaje. Piscina. Jardín.

Inmobiliaria Preciados
Ronda de los Tajares, 32 - 2ª
Telfs. 957 477460

¡Magníficas calidades!
REF. 1096 Q3



¡AQUÍ TIENES TU CASA!

O G E S A
Inmobiliaria

¡YA! ¡EDIFICIO PLAYA!

En el Morche, edificio en 1ª línea de playa con apartamentos de 1 y 2 dormitorios con trastero, baño, cocina abierta al salón, orientación Sur, primeras calidades, precios para inversión, venta directa de la promotora. ¡FACILIDADES DE PAGO!

PRECIO DESDE: 119.000 € (19.799.934 ptas.)

¡CHOLLAZO!

En Nerja, parcela de 220 m², 104 m² de superficie útil, para construir chalet adosado, 4 dormitorios, 2 baños, garaje, piscina y jardín. Con estupendas vistas al mar y a la montaña.

PRECIO: 99.000 € (16.472.214 ptas.)



FICHA DE LECTURA Nº 14



OBSERVO Y CONTESTO:

1. ¿Qué día es la manifestación?
2. ¿Dónde?
3. ¿A qué hora?
4. ¿Quiénes promueven la manifestación?
5. ¿Cuál es el lema de la manifestación?





FICHA DE LECTURA Nº 15

OBSERVO Y CONTESTO:

1. ¿En qué localidad se celebra el festival flamenco?
2. ¿Sabrías decir en qué fecha?
3. ¿Quién patrocina el festival?
4. ¿Cómo se llaman los guitarristas?
5. Conchi Maya ¿cantará o bailará?
6. ¿A qué hora se celebra el festival?
7. El festival rinde homenaje a un artista, ¿cómo se llama?



XVII FESTIVAL FLAMENCO DE HUÉTOR-VEGA
VIERNES, 2 DE JULIO DE 2004, A LAS 22.30 horas. JARDINES DE HUERTA CERCADA
HOMENAJE AL ARTISTA-PINTOR DAVID ZAAFRA

"SUITE ZAAFRA"
PRESENTACIÓN EN ESPAÑA DE
LA OBRA MUSICAL FLAMENCA DEL
COMPOSITOR Y GUITARRISTA
CHILEÑO
CARLOS LEDERMANN

FELIX GRANDE
(PREGONERO DEL FESTIVAL)

CARMEN LINARES
(CANTAORA DE FLAMENCO)

"EL ZAHOREÑO"
MANOLO OSUNA

CANTE
"EL ZAHOREÑO"
MANOLO OSUNA

GUITARRA
CARLOS LEDERMANN
PACO CORTÉS
RAMÓN DEL PASO

BAILE
CONCHI MAYA Y SU GRUPO DE BAILE
PIA VILLAR

PRESENTA
CARLOS ARBELOS

PATROCINA: EXCMA. DIPUTACIÓN DE GRANADA. ÁREA DE CULTURA
EXCMO. AYUNTAMIENTO DE HUÉTOR-VEGA.

ORGANIZA: PEÑA LA PARRA FLAMENCA

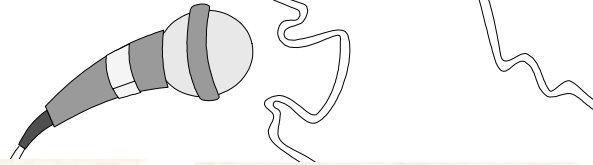
COLABORAN:



FICHA DE LECTURA Nº 16

MÚSICA _■

EN VIVO _____



Joan Manuel Serrat

CANCIÓN

Joan Manuel Serrat. Plaza de toros. Santander. Día 4.

Paco Ibáñez. Teatro romano de Mérida. Día 2.

Amancio Prada. Plaza de toros. Almería. Día 2. Teatro romano. Mérida. Día 5.

Lorenzo González. Aquasol, Cullera (Valencia). Día 1.

María Dolores Pradera. Aquasol, Cullera (Valencia). Día 2.

FLAMENCO

Tomatito. Parque del Retiro. Madrid. Día 1.

Naranjito de Triana, Diego Clavel, Curro de Utrera, Tina Pavón, Pepe Galán, Curro Vázquez, Quiqui de Castiblanco, Valentín de María, José Joaquín... Campo Municipal de Deportes. Castilblanco de los Arroyos (Sevilla). Día 1.

El Cabrero, Calixto Sánchez, José Mercé, José de la Tomasa, Curro Malena, Beni de Cádiz... Plaza del Fuerte. Las Gabias (Granada). Día 1.

Curro Malena, El Cabrero, Niño Colchón, El Silverio y Juan J. Escudero. Patio del antiguo instituto de bachillerato. El Viso del Alcor (Sevilla). Día 2.

José de la Tomasa, Luís de Córdoba, Ana Reverte, Joaquina Moreno, Angelita... Caseta de Feria de la Peña. El Viso de los Pedroches (Córdoba). Día 2.

José Menese, Fernanda y Bernarda de Utrera, Chocolate, Agujetas, Diego Clavel, Juanito Villar. Parque Municipal. Pegalajar (Jaén). Día 2.

“POP ROCK”

Comité Cisne y Presuntos Implicados. Gata de Gorgos (Alicante). Día 1.

Ramoncín, Lunes de Hierro y Pantaix. Campo de Deportes de Alzira (Valencia). Día 2.

Joaquín Sabina. Plaza de Toros de Huesca. Día 2. Caseta Municipal. Ceuta. Día 5. Plaza de Toros. Gijón. Día 8.

Lobos Negros. Komite. Silva, 6. Madrid. Días 6, 7 y 8.



Joaquín Sabina




José Menese

OBSERVO Y CONTESTO:

1. ¿En la Plaza de Toros de qué ciudad actuará el día 4 Joan Manuel Serrat?
2. ¿En qué ciudad actuará José de la Tomasa?
3. ¿Dónde actuará Joaquín Sabina el día 8?
4. ¿Quiénes actuarán con José Menese en Pegalajara (Jaén) el día 2.
5. ¿Dónde actuará Paco Ibáñez el día 2?



FICHA DE LECTURA Nº 17



OBSERVO Y CONTESTO:

1. Si llamo al teléfono 637.44.62.66, ¿qué trabajo me ofrecen?
2. Mi hermana quiere trabajar en una tienda de automóviles, ¿a qué teléfono tendrá que llamar?
3. Si quiero prepararme para Auxiliar de biblioteca, ¿qué puedo hacer?

4. TRABAJO

41 OFERTAS

EMPRESA de telecomunicaciones, necesita personal para diferentes puestos, excelentes condiciones económicas, alta en Seguridad Social. Interesados llamar 957-76.07.91.

SE necesita chica para tienda automóviles con conocimientos informática. 654-158.786.

SE necesita administrativa, nivel alto de francés para departamento de exportación en polígono Las Quemadas. Interesadas llamar al 957-32.63.11.

EMPRESA DEL SECTOR DEL RADIODIAGNÓSTICO
Precisa:

COMERCIALES

Se requiere:

- Experiencia en el sector, no inferior a 3 años.
- Carnet de conducir.
- Dedicación plena.
- Edad entre 30 y 50 años.
- Conocimientos de inglés.

Se ofrece:

- Incorporación inmediata.
- Contrato y alta en S.S.
- Incentivos y dietas.

Interesados: llamar al teléfono:

957 32 63 83

NECESITO señora, interna, cuidado de enferma y limpieza hogar. 659-28.68.65.

TRABAJE desde casa ratos libres, proporcionamos materiales recogemos producción. 902-83.00.53.

SE necesita dependienta entre 16-20 años para tienda de confección. 669-45.98.37.

SE necesita chicas para administración y ventas. A partir de 27 años. Vehículo propio. Zona Carretera del Aeropuerto. 607-81.35.33.

SE necesita cocinero/a para restaurante en Córdoba, abstenerse no profesionales. Entregar currículum de 12 a 16:30 y de 19:30 a 11:30. C/ Velázquez Bosco, 5. (Junto calleja Las Flores).

Empresa de maquinaria para la **CONSTRUCCIÓN** necesita

VENDEDORES

Condiciones: Sueldo fijo, comisiones. Coche empresa. Móvil empresa y Cartera de clientes.

Teléfono **637.44.62.66**
(Sr. Trenas)

COCINERA sudamericana en situación legal. Jornada completa. Llamar teléfono 687-92.75.14.



CADA MINUTO
UNA MUJER
SUFRE
EXPLOTACION
EN ASIA

Manos Unidas
ONGD CÁDIZ DE VOLUNTARIOS
EL FUTURO DEL MUNDO ES COMPROMISO DE TODOS
manosunidas.org | 902 40 07 07

Consigue un puesto de Auxiliar Administrativo

Sin experiencia previa
Sueldo estable
Puesto fijo en la Administración Pública

900 308 308
Prepárate
con
nosotros

PROFESOR DE AUTOESCUELA

Profesión con futuro
Consigue el Título y Trabaja
Preparación Garantizada

900 308 308
Infórmate
Llamada
Gratuita

EXCELENTES condiciones laborales. Policía Nacional. Trabaja de funcionario. Infórmate y prepárate con nosotros para conseguir el aprobado. Llama gratis. 900-31.53.15.

CONSIGUE un puesto de trabajo de forma rápida: te formamos para los puestos vacantes en el Sector de la Energía Solar y Eólica. Preparación intensiva y Bolsa de Trabajo. Garantizada. Infórmate gratis: 900-25.35.45.

PUESTOS libres en gran número de empresas como Técnico en Mantenimiento y reparación de ordenadores. Te formamos para que accedas a uno de ellos. Información 900-25.35.45. Llamada gratuita.

¿BUSCAS seguridad laboral? Trabaja de funcionario: trabajo fijo, buenos horarios, buenos sueldos. Infórmate tu puesto. Sistema de preparación garantizada hasta el aprobado. Infórmate: 900-31.53.15. Llamada gratuita.

¿ERES diplomado en trabajo social? Hay cientos de plazas libres. ¡A que esperas! Prepárate y accede a un puesto como funcionario. Infórmate 900-23.32.33. Llamada gratuita.

BOMBEROS: plazas libres. Preparación gasantizada. Información gratuita. 900-31.53.15.

PROFESOR de autoescuela. 1.500 euros mensuales. Requisito Título Oficial DGT. Consíguelo fácilmente y trabaja, nosotros te formamos. Infórmate 900-31.53.15. Llamada gratuita.

EXCELENTES condiciones laborales, policía nacional. Hazte funcionario con nuestra preparación. Infórmate 900-23.32.33. Llamada gratuita.

TRABAJA como policía local. Miles de plazas libres cada año, disponemos un sistema exclusivo para que consigas tu puesto. Infórmate. Llama de forma gratuita. 900-31.53.15.

AGENTE forestal. Haz de tu vocación un trabajo seguro y estable, formate con nosotros y consigue un buen sueldo para toda la vida. Próximos ingresos 900-23.32.33. Llamada gratuita.

¿CANSADO de buscar trabajo? Hazte Auxiliar de biblioteca y trabaja en poco tiempo. Buen sueldo y trabajo cómodo. Prepárate con nosotros y consigue tu plaza. Información gratuita. 900-50.51.00.

AUXILIARES Administrativos para tu ayuntamiento. Sueldo aprox. 1200 Euros/mes. Desde graduado escolar. Próximas incorporaciones. Prepárate 900.31.53.15. Llamada gratuita.

CELADORES. Empleo estable con sólo el certificado de escolaridad. Preparación garantizada. Infórmate: 900-50.51.00. Llamada gratuita.

INGRESA en el cuerpo de bomberos. Excelentes condiciones laborales. ¡Plazas libres! Infórmate y prepárate con garantías. Infórmate. 900-23.32.33. Llamada gratuita.

SI quieres trabajar necesitas el graduado escolar. Obténlo en tiempo récord. Infórmate y prepárate con nosotros. 900-23.32.33. Llamada gratuita.

ENFERMEROS/AS y ATS para servicio de salud. Excelentes retribuciones. Obtén con nuestro sistema de preparación una plaza fija. Infórmate 900-31.53.15. Llamada gratuita.



FICHA DE LECTURA Nº 18

CINES

CÓRDOBA. Salas

CINESUR ALKÁZAR

Calle Reyes Católicos, 15

6 salas. Teléfono: 957.47.89.92. Venta de entradas: en el teléfono 902.50.41.50 y en www.cinesur.com. Sesiones numeradas todos los días. Madrugadas (viernes, sábados y visperas de festivo). De lunes a domingo: día del espectador.

Jumper	18.30 y 20.30
En un mundo libre...	22.30
27 vestidos	17.45, 20.00 y 22.15
El último justo	18.00, 20.10 y 22.20
En el valle de Elah	17.30, 19.45 y 22.00
This is enganld V.O.S.E.	18.00, 20.00 y 22.00
En el punto de mira	18.15, 20.15 y 22.15

CINESUR EL TABLERO

Centro de ocio El Tablero

15 salas. Teléfono: 957.40.52.59. Venta de entradas: en el teléfono 902.22.16.22 y en www.cinesur.com. Sesiones numeradas todos los días. De lunes a jueves: día del espectador (excepto festivos y visperas de festivos). Sesiones matinales: sábados, domingos y festivos. Sesiones de madrugada: viernes, sábados y visperas de festivos. Precios especiales para la tercera edad, carnet joven y carnet de estudiante. (Ofertas no acumulables).

Astérix en los juegos olímpicos	12.15, 16.15, 18.45 y 21.30
Jumper	12.00, 16.00, 18.00, 18.30, 20.00, 20.30, 22.00 y 22.30
Juno	12.15, 15.50, 18.00, 20.10 y 22.20
No es país para viejos	12.00, 16.30, 19.00 y 21.30
Franklin y el tesoro del lago	12.15, 15.50 y 17.45
Ahora o nunca	19.45 y 21.45
Sweeney Told. El barbero diabólico en la calle Fleet	12.00, 16.30, 19.00 y 21.30

La guerra de Charlie Wilson	12.00, 16.00, 18.05, 20.10 y 22.15
Rise. Cazadora de sangre	12.15, 16.10, 18.15, 20.20 y 22.25
En el punto de mira	12.00, 12.30, 16.00, 16.30, 18.00, 18.30, 20.00, 20.30, 22.00 y 22.30
Wax	12.30, 15.50, 17.45, 19.45 y 21.45
Las hermanas Bolena	12.30, 16.30, 19.00 y 21.30
27 vestidos	12.30, 15.50, 18.00, 20.10 y 22.20
Parking 2	12.30, 15.50 y 20.10
Los crímenes de Oxford	18.00 y 22.20
Mortadelo y Filemón 2	12.30 y 16.30

MULTICINES ARCÁNGEL

Centro comercial El Arcángel

10 salas. Teléfono: 957.75.00.90. Venta de entradas: en el teléfono 902.22.16.22 y en www.entradas.com. Precios: 5,50 euros viernes, sábados, domingos y visperas de festivos y festivos. 4,20 euros de lunes a jueves no festivos ni visperas, matinales, golfas y entrada dorada (carnet estudiante, mayores 55 años, carnet joven, menores 9 años inclusive).

Jumper	12.15, 16.30, 18.30, 20.30 y 22.30
Franklin y el tesoro del lago	12.15, 16.00, 17.40 y 19.10
En un mundo libre	20.40 y 22.30
Km 31	22.00
Wax	12.15, 16.00, 18.00, 20.00 y 22.00
30 días de oscuridad	20.00 y 22.05
Caramel	18.15 y 22.30
Asterix en los juegos olímpicos	12.00, 16.00, 18.10, 20.20 y 22.15
27 vestidos	12.00, 16.00, 18.05, 20.10 y 22.15
La soledad	12.00, 16.00 y 20.00
El niño de Marte	22.30
En el punto de mira	12.15, 16.30, 18.30, 20.30 y 22.30
Mortadelo y Filemón 2	12.00, 16.00, 18.00 y 20.00
El último justo	12.15, 16.15, 18.15, 20.15 y 22.15


El óscar	12.00, 16.00 y 18.00
-----------------	----------------------

MULTICINES GUADALQUIVIR

Parque comercial Guadalquivir

10 salas. Teléfono: 957.42.13.26. Venta de entradas: en el teléfono 902.22.16.22 y en www.entradas.com. Precios: 5,50 euros viernes, sábados, domingos y visperas de festivos y festivos. 4,20 euros de lunes a jueves no festivos ni visperas, matinales, golfas y entrada dorada (carnet estudiante, mayores 55 años, carnet joven, menores 9 años inclusive).

En el punto de mira	12.15, 16.30, 18.30, 20.30 y 22.30
Las hermanas Bolena	12.00, 16.00, 18.05, 20.15 y 22.20
27 vestidos	12.00, 16.00, 18.10, 20.20 y 22.30
Rise. Cazadores de sangre	12.00, 16.00, 18.05, 20.15 y 22.20
Sweeney Todd. El barbero diabólico de la calle Fleet	22.20
Jumper	12.15, 16.45, 17.40, 18.30, 19.20, 20.15, 21.10 y 22.00
No es país para viejos	12.00, 16.00, 18.05, 20.15 y 22.20
Astérix en los juegos olímpicos	12.00, 16.00, 18.05 y 20.15
Pozos de ambición	12.00, 16.00 y 19.00
30 días de oscuridad	22.00
La guerra de Charlie Wilson	12.15, 18.00 y 22.00



► Fotograma de *La soledad*.

OBSERVO Y CONTESTO:

1. ¿A qué cine tendré que ir si quiero ver la película "La soledad"?
2. ¿A qué horas proyectan la película "Parking 2"?



LA 1

LA 2

ANTENA 3

FICHA DE LECTURA Nº 19

OBSERVO Y CONTESTO:

1. Si quiero ver el partido Bayern de Munich – Getafe, ¿a qué hora podré verlo y en qué cadena?
2. Si conecto la TV a las 18.25 por la 1, ¿qué programa veré?
3. ¿Quién presenta el concurso “Saber y ganar”?
4. ¿Cuántos minutos dura el programa “Grandes documentales”?
5. ¿Qué concurso hay en ANTENA 3?



22.00 LA SEÑORA. Serie.
Ángel pide ayuda a Victoria.

06.00 Noticias 24 horas
07.00 Telediario matinal
09.00 Los desayunos de TVE
10.15 Saber vivir. *Divulgativo.*
11.30 Esta mañana. *Magazine.*
13.00 La lista. *Concurso.*
14.00 Informativo territorial
14.30 Corazón de invierno
15.00 Telediario 1. *Informativo.*
15.55 El tiempo. *Informativo.*
16.00 Amar en tiempos revueltos
NOVELA Camilo pide disculpas a Sole por haber adaptado para la radio la historia del asesino de mujeres. La fotógrafa se asusta al quedarse sola por la noche, pensando que anda suelto un criminal.

17.20 Marina
NOVELA Laura llega al piso de Verónica para vivir con ella. Las dos mujeres se sinceran y deciden que cada una peleará por el amor de Ricardo. Pero éste, después de hablar con Marina, la besa apasionadamente.

18.25 España directo
20.00 Gente. *Magazine.*
21.00 Telediario 2. *Informativo.*
21.55 El tiempo. *Informativo.*
22.00 La señora
SERIE Intérpretes: Adriana Ugarte, Rodolfo Sancho, Carmen Conesa, Anna Turpin. Salvador está en la cárcel. Ángel pide ayuda a Victoria, que no duda en recurrir a la dueña del burdel para que medie



20.35 SMALLVILLE. Serie
Kristin Kreun da vida a Lana Lang.

06.00 Teled deporte. *Deporte.*
06.30 That's English. *Divulgativo.*
Curso de inglés.
07.00 Leonart. *Divulgativo.*
07.30 Los Lunnis. *Infantil.*
Incluye las series de dibujos animados: Los Lunnis, la serie, Clifford el gran perro rojo, Caillou, Pocoyó y Alex y Alexis.
09.30 Aquí hay trabajo. *Magazine.*
10.00 La aventura del saber
11.15 Un país en la mochila
12.30 Teled deporte 2. *Deportivo.*
13.30 Comecaminos. *Infantil.*
15.30 Saber y ganar. *Concurso.*
Presenta: Jordi Hurtado.
16.00 Grandes documentales
18.00 Gomaespuminglish. *Humor.*
18.05 Las chicas Gilmore. *Serie.*
19.00 Gomaespuminglish. *Humor.*
19.05 One Tree Hill
SERIE Después de sufrir un infarto, Lucas tiene un sueño en el cual el espíritu de Keith le visita y le muestra cómo una sola vida puede afectar a las demás.

19.55 La 2 Noticias Expres
Avance informativo.
20.00 La guerra en casa
SERIE Toda la familia intenta adaptarse al nuevo ritmo de vida de Vicky.

20.35 Smallville
SERIE Intérprete: Tom Welling.
21.30 Sorteo Lotería Primitiva v Lotería Nacional



20.30 BAYERN DE MÚNICH-GETAFE C.F. Copa de la UEFA.

06.00 Las noticias de la mañana. *Informativo.*
09.00 Espejo público. *Magazine.*
12.30 La ruleta de la suerte
14.00 Los Simpson. *Dibujos.*
Jacques, el rompecorazones.
Es el cumpleaños de Marge y Homer le regala una bola de bolos a pesar de que ella nunca ha jugado a ese deporte. Enfadada con el regalo, decide aprender y para ello cuenta con la ayuda de Jacques, un seductor francés.
Homer se va de juerga.
Usando su recién adquirida cámara espía, Bart toma una instantánea de la danza de Homer con una sensual bailarina.
15.00 Noticias. *Informativo.*
16.00 Las tontas no van al cielo
NOVELA A pesar de los intentos de Patriocio de convencer a Alicia para que tengan un hijo, ésta se muestra esquiva en el tema. Mientras, Marissa recibe muy sensual a Santiago.

17.00 Pura sangre
NOVELA Después de enterarse de la infidelidad de su esposo, Susana decide no contárselo y tener un hijo con otra persona.

18.30 ¿Quién quiere ser millonario? *Concurso.*
19.15 El diario de Patricia
20.30 Bayern de Múnich- Getafe. *Fútbol.*



FICHA DE LECTURA Nº 20

PARA RÁPIDO ALIVIO DE:

Trastornos estomacales – Hiperacidez gástrica – Excesos de comida y bebida – Dolores de cabeza – Neuralgias – Fatiga y dolores musculares – Síntomas de resfriado

INSTRUCCIONES

Vía oral.

ALKA-SELTZER debe tomarse siempre disuelto en agua.

ADULTOS: 1 ó 2 comprimidos disueltos en agua hasta un máximo de 10 comprimidos al día.

NIÑOS: la mitad de la dosis. Para niños menores de 3 años consultar a su médico.

Cada comprimido contiene

Ácido Acetilsalicílico	0,32 gr.
Fosfato Monocálcico	0,20 gr.
Bicarbonato de Sodio	1,90 gr.
Ácido Cítrico	1,05 gr.

ALKA – SELTZER disuelto en agua se transforma en:

Acetilsalicilato Sódico
Fosfato Sódico Cálcico
Bicarbonato de Sodio
Citrato Sódico

Registrado en la D G F M con el nº E N 40876
Fabricado en España por:
BAYER



Cad.: ENE 2008

Lote: V – 008/ 2



OBSERVO Y CONTESTO:

1. ¿Cuándo se debe tomar este medicamento?

Dolores de cabeza – Mala visión – Estreñimiento – Anemia – Picazón de la piel – Diarrea – Estado nervioso

2. Un niño de 9 años, ¿cuántos comprimidos puede tomar al día?

3. ¿Cuál es la fecha de caducidad del medicamento?

4. ¿El día 18 de Marzo de 2008 podré tomarme este medicamento? ¿Por qué?

5. ¿Cómo podré tomarme este medicamento?



FICHA DE LECTURA Nº 21

SEDOFARIN® SPRAY

COMPOSICIÓN

Cada ml contiene: Cloruro de decalinio (DCI).....	1,00 mg
Tirotricina (DCI)	0,50 mg
Dexametasona (DCI)	0,20 mg
Benzocaína (DCI)	10,00 mg
Excipientes: sacarina sódica, etanol (96% v/v) y esencia c.s.	



Cada aplicación contiene:

Cloruro de decalinio (DCI).....	0,170 mg
Tirotricina (DCI)	0,085 mg
Dexametasona (DCI)	0,034 mg
Benzocaína (DCI)	1,700 mg
Excipientes: sacarina sódica, etanol (96% v/v) y esencia c.s.	

INDICACIONES

Tratamiento preventivo y curativo de los procesos patológicos de la garganta y cavidad bucal, producidos por gérmenes sensibles a los componentes de esta especialidad. Faringitis agudas y crónicas, amigdalitis y poriamigdalitis, gingivitis, estomatitis, aftas.

POSOLOGIA

Una aplicación cada dos o tres horas.

NORMAS PARA LA CORRECTA ADMINISTRACIÓN

Abrir la boca y dirigir la boquilla inhaladora hacia la zona afectada (garganta, boca, lengua, etc.), y presionar a fondo la parte superior de la cápsula.

CONTRAINDICACIONES

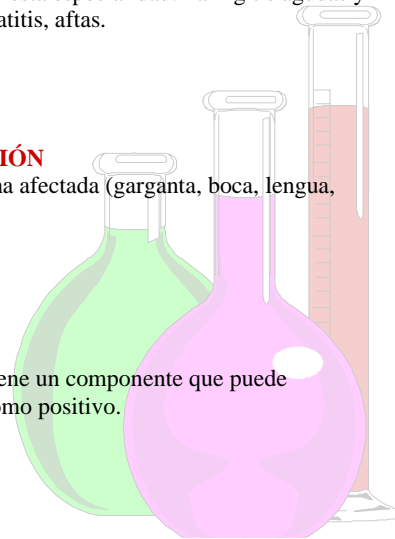
No se han descrito.

ADVERTENCIA

Se informa a los deportistas que este medicamento contiene un componente que puede establecer un resultado analítico de control del dopaje como positivo.

INTERACCIONES

No se han descrito.



EFECTOS SECUNDARIOS

No se han descrito

PRECAUCIONES

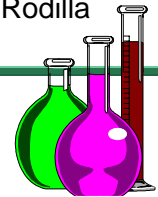
Por contener etanol como excipiente, puede ser causa de riesgo en pacientes con enfermedad hepática, alcoholismo, epilepsia y en mujeres embarazadas y niños.

INTOXICACIÓN Y SU TRATAMIENTO

Es prácticamente imposible que se produzcan intoxicaciones. En caso de sobredosis o ingestión accidental, consultar al Servicio de Información Toxicológica. Teléfono 91 562 04 20

OBSERVO Y CONTESTO:

1. ¿Cómo se llama el medicamento cuyo producto tienes delante?
2. ¿Qué contraindicaciones tiene?
3. ¿Para qué enfermedades es recomendable su uso? (Rodea lo correcto):
Diarreas – Vómitos – Hepatitis – Faringitis – Amigdalitis – Úlcera – Estomatitis – Reuma – Estrés.
4. ¿Cada cuánto tiempo puede aplicarse el spray?
5. ¿Dónde se aplica el spray? (Rodea lo correcto):
Oído – Nariz – Ojo – Garganta – Boca – Lengua – Rodilla







FICHA DE LECTURA Nº 22

OBSERVO Y CONTESTO:

1. A simple vista, ¿qué dos ingredientes son los más importantes de esta receta?
2. ¿Por dónde cortaremos los tomates?
3. La leche, ¿para qué la utilizaremos?
4. ¿Se come fría o caliente?
5. ¿Cómo adornaremos al finalizar la preparación?
6. ¿Qué temporada recomienda el autor para saborear este apetitoso plato?



Karlosnet.com

La Cocina barata, sana y divertida en Internet

Tomates rellenos de arroz



Ingredientes:

4 tomates
200 g de atún en aceite
4 cucharadas de arroz cocido
3 dientes de ajo
4 cebolletas
1 cebolla
1 vaso de leche
1 cucharada de harina
Pimienta negra
Aceite
Sal

Elaboración:

Corta los tomates por la parte superior, vacíalos, pica la carne y reserva.

Pica las cebolletas y los dientes de ajo y saltéalos en una sartén. Agrega la carne del tomate, el atún desmigado, el arroz y sala.

Para hacer la bechamel pon 3 cucharadas de aceite en una cazuela, añade la harina removiendo y por último echa la leche poco a poco mezclando bien. Agrega pimienta negra y sal.

Rellena los tomates vacíos con lo que tenemos en la sartén. Cubre con la bechamel y mete al horno que está a 180 grados durante 10-15 minutos.

Corta la cebolla en aros, pasa por harina y fríelos.

En una fuente grande coloca los tomates acompañados con los aros de cebolla.

Temporada: Otoño Bebida: Rosado



FICHA DE LECTURA Nº 23

NIÑA:		NIÑO:	
Camisetas con distintos estampados,	7,20 €	Camisetas de manga corta en varios estampados	7,20 €
Pantalón largo de loneta,	12,00 €	Pantalón corto de loneta,	10,60 €
Camisa de manga corta estampada,	6,30 €	Camisas de manga corta, lisas y en diferentes estampados,	6,30 €
Bañador en lisos y estampados,	10,50 €	Bañador de tela, estampado,	10,20 €
Vestidos en diferentes estampados,	15,00 €		
NIÑA/NIÑO			
Pantalón largo vaquero lavado, desde	13,90 €	Playeros de lona, desde	9,20 €

OBSERVO Y CONTESTO:

1. Clara y Eugenio van a unos almacenes a comprarse ropa. Ella, Clara, se quiere comprar una camiseta estampada, un pantalón vaquero lavado y unas playeras de lona; él, Eugenio, se quiere comprar una camisa de manga corta estampada, un pantalón corto de lona, un bañador de tela estampado y unas playeras de lona. Llevan 80 € (50 € + 20 € + 10 €) para comprarse ropas. ¿Tendrán bastante dinero?





FICHA DE LECTURA Nº 24



NICARAGUA

COLOMBIA ?

ISRAEL

SALVADOR


El cardenal de Santiago pide una mayor investigación sobre el caso de los quemados

El cardenal de Santiago, Juan Francisco Fresno, emplazó ayer a la Corte Suprema, para que realice una profunda y acuciosa investigación en el caso de los dos jóvenes quemados.

“El prestigio del Ejército de Chile y de los tribunales de justicia, instituciones y fundamentales del Estado, están en juego en este proceso, lo que acentúa la obligación de realizar una profunda y acuciosa investigación”, expresó el cardenal.

“Nuestra misión pastoral nos obliga a expresar nuestra profunda preocupación ante el grave deterioro moral que se aprecia en el caso de los dos jóvenes quemados y la inquietud que ha provocado el texto de la resolución del señor ministro al respecto”, agregó el prelado en una declaración dada ayer a la publicidad. *“Es fácil percibir que la explicación ha resultado claramente insuficiente para toda la inquietud que en la comunidad nacional estos hechos han provocado”,* añadió monseñor Fresno.

ESPAÑA



USA ?

ALEMANIA

CHILE

INDIA



OBSERVO Y CONTESTO:

1. Colorea de rojo el nombre del país donde sucede la noticia.
2. ¿Qué es lo que quiere el cardenal de Santiago?



FICHA DE LECTURA Nº 25



d) Red Nacional de
Ferrocarriles Españoles



c) Instituto Nacional
de Industria

f) Asociación de Clubs
de Baloncesto



a) Federación Española de Fútbol

g) Sociedad Española de Automóviles y Turismo

h) Organización de las Naciones Unidas

b) Organización de Trabajo
del Atlántico Norte

e) Boletín Oficial del Estado

OBSERVO Y CONTESTO:

1. ¿A qué nombre designa cada sigla? FORMA LAS PAREJAS LETRA-CIFRA





FICHA DE LECTURA

Nº 26

Desaparecido un joven bañista al que buscan sin éxito en una playa de Telde

Un joven bañista fue dado por desaparecido esta tarde en aguas de la Playa de Ojos de Garza del municipio gran-canario de Telde, donde le han buscado sin éxito durante horas efectivos del 112, de Cruz Roja y de Salvamento Marítimo, informaron a Efe fuentes de esta sociedad estatal.

Dos helicópteros, uno del 112 (Centro Coordinador de Emergencias y Seguridad regional) y otro de Salvamento Marítimo, así como una embarcación de rescate de la sociedad estatal y personal de Cruz Roja que rastreó desde tierra, participaron en las tareas de búsqueda, suspendidas por falta de visibilidad al caer la noche y que se prevé reanudar con el nuevo día.

Las fuentes de Salvamento Marítimo precisaron que el bañista, de unos 25 años, fue dado por desaparecido poco antes de las cuatro de la tarde, cuando se alertó al 112 y éste movilizó los medios referidos.



Atentados del 7 de julio de 2005 en Londres

El jueves 7 de julio de 2005, cuatro explosiones paralizaron el sistema de transporte público de Londres en plena hora punta matinal. A las 8.50, explotaron tres bombas con una diferencia de 50 s entre sí en tres vagones del metro de Londres. Una cuarta bomba explotó en un autobús a las 9.47 en la Plaza Tavistock. Las bombas provocaron una interrupción severa en el transporte de la ciudad y la infraestructura de telecomunicaciones.

Fallecieron cincuenta y seis personas en los ataques, incluidos los cuatro terroristas sospechosos, y 700 heridos. Este atentado fue el acto de terrorismo más sangriento en el Reino Unido desde que murieran 270 personas en el atentado de Lockerbie (Escocia) en 1988, y el atentado más mortífero en Londres desde la Segunda Guerra Mundial.

Campeonatos del mundo equipos Guangzhou 2008

Durante los días 24 de Febrero al 2 de Marzo de 2008, tendrán lugar en Guangzhou (R. P. China), los Campeonatos del Mundo por Equipos, al que acudirán las selecciones españolas absolutas masculina y femenina. A propuesta del Seleccionador Nacional, Mr. Zhang Dongping, han sido seleccionados los siguientes jugadores/as:

Equipo Masculino	Equipo Femenino
He Zhiwen	Zhu Fang
Carlos Machado	Sara Ramírez
Alfredo Carneros	Galia Dvorak
Marc Durán	Anna Badosa
Víctor Sánchez	

Previamente, los jugadores y entrenadores citados realizarán una concentración en Guangzhou, Centro de Alto Rendimiento de Cantón, en la que participarán sparrings y jugadores de alto nivel de otras selecciones, con objeto de lograr su mejor preparación.

Margaret Thatcher sale del hospital

La ex primera ministra del Reino Unido Margaret Thatcher fue dada de alta el sábado de un hospital del sur de Londres, dijo su portavoz.

Cadenas de televisión mostraron a Thatcher, de 82 años, saludando desde su hogar de Belgravia, en el centro de Londres, luego de abandonar el hospital St. Thomas, donde fue sometida a exámenes preventivos.

Thatcher fue llevada el viernes a un hospital al sur de Londres después de haberse sentido mal durante una cena en la Cámara de los Lores.

"Ella se estaba sintiendo un poco débil y mareada, y cuando salió a tomar aire, sus piernas se le doblaron", dijo la portavoz.

"Decidimos que era mejor prevenir que curar. Ella se está sintiendo bien y contenta de haber regresado a casa", agregó.



OBSERVO Y CONTESTO:

1. ¿Cuántos helicópteros participaron en la búsqueda del joven bañista?
2. ¿Cuándo se celebrarán los Campeonatos de tenis de mesa?
3. ¿Por qué fue llevada Thatcher al hospital?
4. ¿Cuántas personas fallecieron en los atentados de Londres?
5. ¿A qué noticias crees que corresponden las dos fotografías?



FICHA DE LECTURA

Nº 27

1 Roberto Mancini abandonará el Inter a final de temporada



A EUROSPOORT- 12/03/2008
Iker Casillas, portero del Real Madrid, recuerda que el Barça ya ha sido capaz de recortar a su equipo siete puntos hace unas jornadas, por lo que aún no da por sentenciada la Liga, pese a los actuales ocho puntos que separan a ambos equipos. Casillas asegura que su equipo no da nada por ganado pese a su ventaja actual: "Después de lo que pasó hace un mes, cuando teníamos una ventaja de nueve puntos y el Barcelona nos recortó a dos, nos hemos dado cuenta de lo que nos estamos jugando y no podemos descuidar la Liga".

2 Desertan siete jugadores de la selección cubana de fútbol sub-23


B EUROSPOORT- 05/03/2008
Marco Caneira, defensa del Valencia, cree que la lesión del barcelonista Lionel Messi, quien se perderá el partido de vuelta de la semifinal de Copa del Rey que enfrenta a ambos equipos, supone "una ventaja" para el club valenciano. A juicio del internacional portugués, el argentino "es uno de los mejores del mundo y, si un elemento tan fuerte como Messi no juega, puede ser una ventaja para nosotros". No obstante, ha considerado que la lesión del delantero es "problema del Barcelona", mientras que el Valencia ha de "centrarse en recuperar" a sus lesionados. "Tenemos que centrarnos en estar fuertes como grupo y unidos también", ha añadido.

3 Copa del Rey - Caneira ve una "pequeña ventaja"



C ELPAÍS - Miami - 13/03/2008
Siete jugadores de la selección cubana sub-23 de fútbol desertaron horas después de disputar el martes pasado en Tampa, Florida, un partido contra la selección de Estados Unidos durante la fase de participación del Preolímpico de la Concacaf, ha informado la prensa local de Miami. El diario de Miami *El Nuevo Herald* asegura en su edición digital que los cinco integrantes del equipo cubano huyeron cuando viajaban hacia California. Fue el propio entrenador del equipo antillano, Raúl González, quien comunicó la ausencia del portero José Manuel Miranda, y de los jugadores Erlys García Baró, Yenier Bermúdez, Yordany Álvarez, Loanni Cartaya Prieto, Yendry Díaz y Eder Roldán.

4 Casillas no se fía de la distancia



D EFE - Milán - 12/03/2008
El técnico del Inter de Milán, Roberto Mancini, ha anunciado tras la eliminación de su equipo en Liga de Campeones ante el Liverpool, con el que perdió 0-1 en San Siro, que al final de la temporada dejará el equipo italiano. Mancini ha explicado en rueda de prensa tras el encuentro que los próximos dos meses y medio serán los últimos en el banquillo "interista" pero no ha especificado que hará en el futuro. El entrenador italiano, que llegó al Inter en 2004 procedente del Lazio, ha asegurado que la decisión la había tomado antes de este encuentro, sin contar con el resultado final del partido. Con esta resolución, Mancini cambia de pleno su contrato, cuya alianza le ataba al club transalpino hasta 2012.

OBSERVO Y CONTESTO:

1. Une cada titular con su artículo.
2. ¿Qué noticias son nacionales? (suceden en España)
3. ¿Qué noticias son extranjeras?





FICHA DE LECTURA Nº 28

1 ATLETISMO



A Triunfo sin brillo

El Sevilla se puso ayer mucho más cerca de los puestos que se cree merecer, aunque ésa fuera la única alegría para un equipo increpado por el público por pasar demasiado partido en el alambre y para un club que ha optado por inventarse contubernios antes que intentar solucionar los problemas de un conjunto que se pensó y se pagó para ejecutar un fútbol muy distinto del que es capaz en la actualidad.

El Sevilla sufrió ayer muchísimo hasta escuchar el pitido del árbitro que daba por finalizado el encuentro y aseguraba los tres puntos. Fue el anfitrión y conjunto cansado y frustrado tras la larga y dolorosa eliminación en la Liga de Campeones del pasado martes y penante aún por sus dudas defensivas.

2 BALONCESTO

B Lorenzo deslumbra en Qatar en su debut en MotoGP

Jorge Lorenzo, que en la foto recibe las felicitaciones de su equipo, debutó ayer en MotoGP, la máxima categoría del motociclismo mundial, a los 20 años. Y lo hizo a lo grande, subiendo al podio en el GP de Qatar, el primero nocturno de la historia. Lorenzo logró la segunda plaza, sólo por detrás del intratable Casey Stoner, el vigente campeón. Tras el mallorquín se clasificó Dani Pedrosa en una jornada inolvidable. Desde 2004 nunca dos españoles habían coincidido en el podio de la máxima categoría. Entonces lo hicieron Sete Gibernau, que ganó, y Rubén Xaus (tercero) también en Qatar. Lorenzo logró igualar la marca de Pedrosa, que también fue segundo en su debut con los más grandes, hace dos años en Jerez. Valentino Rossi tuvo que conformarse con la quinta plaza. Pero la fiesta española no se limitó a MotoGP. Sergio Gadea venció en los 125cc, por delante de Joan Olivé, y Héctor Barberá fue segundo en los 250cc, en los que mandó el italiano Matia Pasini.

OBSERVO Y CONTESTO:

1. Une cada noticia con el deporte que le corresponda. (Relaciona cada letra con su número)

3 MOTOCICLISMO

C Marc Gasol, primer español en lograr siete MVP en un año

Los 43 puntos de valoración logrados por Marc Gasol en la jornada 24 de la ACB permiten al pívot del Akasvayu convertirse en el primer español que se convierte siete veces en el jugador más valorado (MVP) de la jornada en una misma temporada. Sus 18 puntos, 13 rebotes, 3 asistencias y 3 tapones en la victoria del Akasvayu (71-62) ante el Iurbentia Bilbao fueron para Gasol su segunda mejor valoración en la ACB, sólo por detrás de los 44 de la jornada 19. El pívot ya suma ocho MVPs en la ACB.

El récord de Marc, a sus 24 años, asusta; ya sólo Arvydas Sabonis se le resiste (el lituano fue 10 jornadas el más valorado en el curso 1994-95). El resto de sus números clarifican el nivel alcanzado por Marc Gasol. Es máximo reboteador con 7,88 rechaces por partido -los 13 del sábado fueron el tope de esta Liga-; tercer mayor anotador con 16,2 puntos de media; y líder de valoración con 26,8 puntos por encuentro.

4 FÚTBOL



D Montaner luchará por las medallas

Los mundiales de pista cubierta que se celebran en Valencia sirven a los atletas para prepararse para los Juegos de Pekín.

La valenciana Montaner, que arrancó los aplausos de todo el pabellón, hizo un concurso de menos a más (6,31, 6,45 y 6,64) para superar el corte de 6,60 en su tercer intento y pasar a una final en la que estarán las ocho mejores y donde la portuguesa Naide Gomes llega como favorita (6,72).



FICHA DE LECTURA Nº 29



1

Juan Carlos I y su esposa Sofía, reyes de España.

a

f



3

La mezquita es un edificio destinado por los musulmanes a la oración. La mezquita de Córdoba se empezó a construir hacia el año 780 d. de C.



2

Bécquer, escritor español nacido en Sevilla en 1.863 y muerto en Madrid en 1.870. Huérfano a los 10 años, durante su infancia y adolescencia vivió en Sevilla. Más tarde se trasladó a Madrid. Su obra más famosa es "Rimas y Leyendas".

k

OBSERVO Y CONTESTO:

1. Coloca a cada número (sello) la letra (texto) que le corresponda.

1 →

2 →

3 →

4 →

Es el rey de todos los españoles desde el año 1.975.

r



4



FICHA DE LECTURA Nº 30

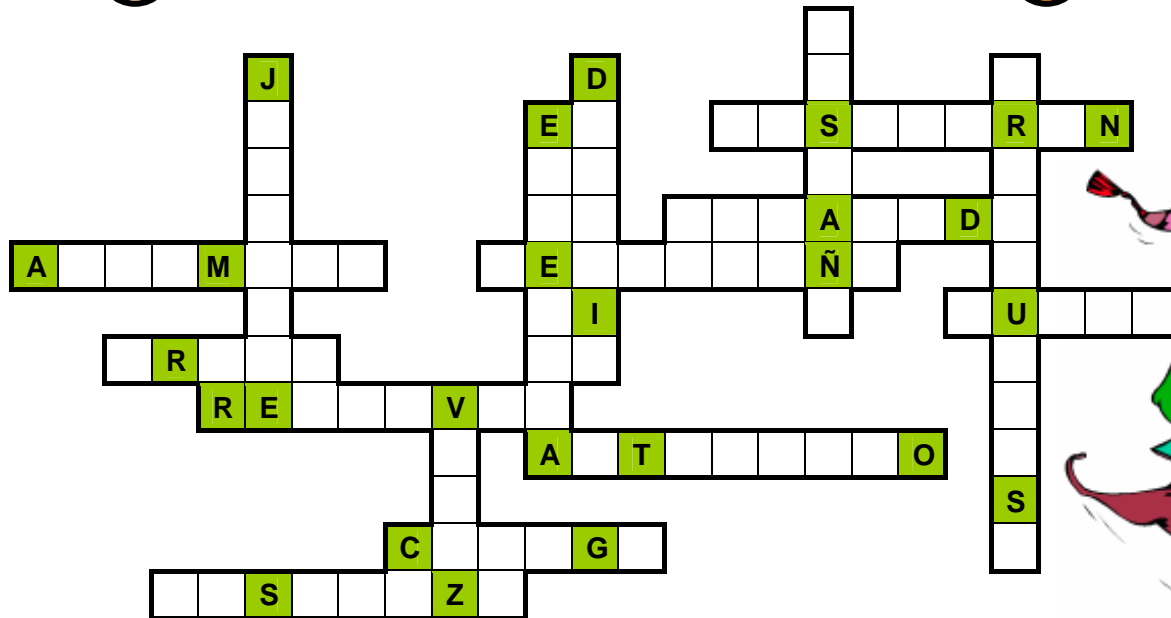
Encadenado

Refunfuñó	Preocuparse	Pasadizo	Descubran
Aclamado	Auténtico	Jadeante	Espesura
Resolver	Desafío	Engañado	Justo
Colega	Veloz	Treta	Castaño



OBSERVO Y CONTESTO:

- En el siguiente encadenado debes colocar las palabras del recuadro, colocando una letra en cada casilla.
- Van en sentido HORIZONTAL (de izquierda a derecha) y VERTICAL (de arriba abajo).





FICHA DE LECTURA Nº 31



JOYCE, JAMES “EL GATO Y EL DIABLO”

Los habitantes de una ciudad querían un puente para cruzar el río, pero no tenían dinero. “Ni una sola moneda” dijo el diablo. Lo único que le pide es que le pertenezca la primera persona que lo cruce.

A partir de los 4 años para la lectura de imágenes y escuchar.

ROSS, TONY “RODOLFO Y LA MANZANA MÁGICA”


Rodolfo se encuentra con una bruja que está aterrizada en un árbol y no puede bajar. Rodolfo la ayuda y la bruja le regala una manzana mágica.

A partir de los 6 años, para niños y niñas que aprenden a leer.

DAHL, ROALD “LAS BRUJAS”

Un niño inglés, huérfano de padres tras un accidente de automóvil, y su abuela se encuentran a la terrible Asociación de Brujas Inglesas.


A partir de los 10 años.



BROGER, ACHIM “PIZZA Y ÓSCAR”


Pizza es una niña que tiene la cara redondita y le gusta mucho comer pizzas.

A partir de los 8 años.



OBSERVO Y CONTESTO:

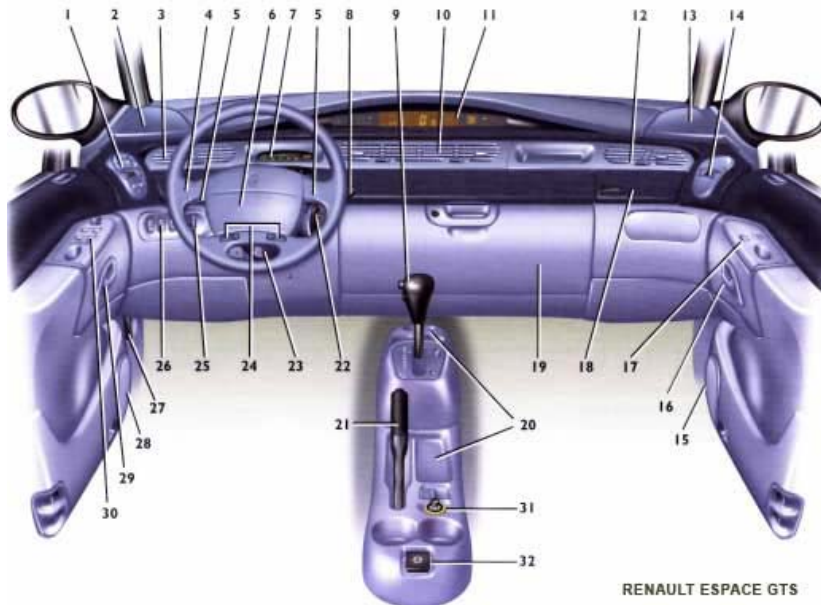
1. ¿Cuál es el título del libro de Roald Dahl?
2. ¿Qué libro está escrito por Tony Ross?
3. ¿Qué libro regalarías a un niño que no supiese leer?
4. ¿Qué libro se puede leer a partir de los 8 años?





FICHA DE LECTURA Nº 32

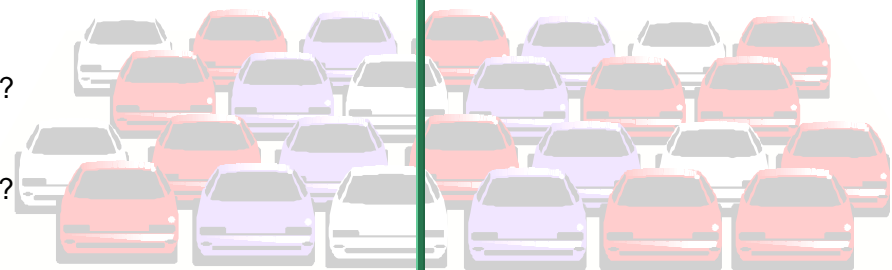
PUESTO DE CONDUCCIÓN



- | | | |
|---|--|---|
| 1 Mando conductor calefacción ventilación, aire acondicionado | 11 Aparatos de control | 24 Reglaje regulador de velocidad |
| 2 Emplazamiento para altavoz | 12 Aireador lateral derecho | 25 Rueda de reglaje eléctrico de la altura de los faros |
| 3 Aireador lateral izquierdo | 13 Emplazamiento para altavoz | 26 Interruptores:
• deshielo/desempañado de la luneta trasera y de los retrovisores térmicos eléctricos |
| 4 Manecilla de:
• luces indicadoras de dirección
• bocina
• iluminación exterior
• luces delanteras de niebla
• luces traseras de niebla | 14 Mando pasajero de temperatura | 27 Palanca apertura del capot |
| 5 Chivatos sonoros | 15 Emplazamiento para altavoz | 28 Emplazamiento para altavoz |
| 6 Emplazamiento airbag conductor | 16 Palanca de apertura puerta pasajero | 29 Palanca de apertura de la puerta del conductor |
| 7 Cuentavueltas o aforador GPL | 17 Contactor elevavinas pasajero | 30 Contactores de mandos de:
• elevavinas eléctricos delanteros
• elevavinas eléctricos traseros
• retrovisores eléctricos |
| 8 Manecilla de limpia-lavacristales y de la luneta trasera | 18 Emplazamiento airbag pasajero | 31 Encendedor |
| 9 Palanca de velocidades | 19 Cofre de bordo | 32 Toma de accesorios |
| 10 Aireadores centrales de aire | 20 Portavasos y guantera | |
| | 21 Freno de mano | |
| | 22 Contactor de arranque | |
| | 23 Reglaje de la altura del volante | |

OBSERVO Y CONTESTO:

1. ¿A qué modelo de vehículo corresponde este manual de utilización?
2. ¿El mando 8 para qué se utiliza?
3. ¿La palanca de apertura del capot por qué número está representada?
4. ¿El número 9 a qué hace referencia?





FICHA DE LECTURA Nº 33

La calefacción

Consejos prácticos

Para ahorrar energía y dinero en calefacción

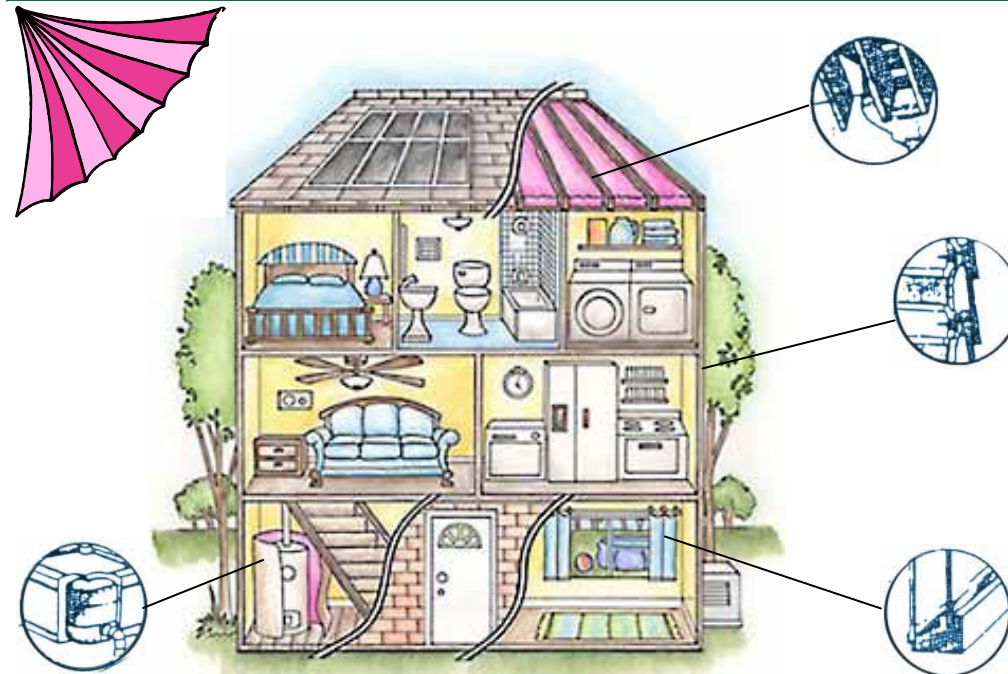
- Una temperatura de 20° C es suficiente para mantener el confort en una vivienda. En los dormitorios se puede rebajar la temperatura entre 3 y 5° C.
- Apague la calefacción por la noche y por la mañana no la encienda hasta después de haber ventilado la casa y haber cerrado las ventanas.
- Las válvulas termostáticas en radiadores y los termostatos programables son soluciones asequibles, fáciles de colocar y que pueden amortizarse rápidamente por los importantes ahorros de energía (entre un 8 y un 13%).
- Si se ausenta por unas horas, reduzca la posición del termostato a 15° C (la posición “economía” de algunos modelos corresponde a esta temperatura).
- No espere a que se estropee el equipo: un mantenimiento adecuado de nuestra caldera individual le ahorrará hasta un 15% de energía.
- El aire contenido en el interior de los radiadores dificulta la transmisión de calor desde el agua caliente al exterior. Es conveniente purgar este aire al menos una vez al año, al inicio de la temporada de calefacción. En el momento que deje de salir aire y comience a salir sólo agua, habrá terminado la purga.
- No cubra ni coloque ningún objeto al lado de los radiadores. Ello dificulta la adecuada difusión del aire caliente.
- Para ventilar completamente una habitación es suficiente con abrir las ventanas alrededor de 10 minutos: no se necesita más tiempo para renovar el aire.
- Cierre las persianas y cortinas por la noche: evitará importantes pérdidas de calor.
- Recuerda: un buen aislamiento exterior reduce el consumo de energía.

OBSERVO Y CONTESTO:

1. ¿De qué habla el artículo que tienes delante?
2. ¿Si nos ausentamos de la vivienda, cómo actuaremos?
3. ¿Qué debemos hacer para ahorrar energía? (Rodea lo correcto)


Apagar la calefacción por la noche – Cubrir los radiadores

Abrigarse – Aislar mejor la casa del exterior





FICHA DE LECTURA Nº 34



OBSERVO Y CONTESTO:

1. ¿A quién va dirigido el telegrama?
(destinatario)
2. ¿Qué dirección tiene el destinatario?
3. ¿Quién envía el telegrama? (expedidor)
4. ¿Qué domicilio tiene el expedidor?
5. ¿Cuál es el segundo mes del año?
6. En el telegrama hay 36 palabras en total. Si cada palabra vale 10 céntimos de €, ¿Cuánto se gastó el expedidor en el telegrama?

 **Correos y Telégrafos**

EL EXPEDIDOR DEBE RELLENAR ESTE IMPRESO EXCEPTO LOS RECUADROS EN TINTA AZUL
SE RUEGA ESCRIBA CON LETRAS MAYÚSCULAS O CARACTERES DE IMPENTA

NÚMERO DE MARCACIÓN	SERIAL	Nº DE ORDEN	TELEGRAMA			INDICADORES TRANSMISIÓN	
LÍNEA PILOTO						CIF: Q-2112005-F	
OFICINA DE ORIGEN	PALABRAS	DÍA				HORA	IMPORTE EN €
	36	27/02/08	12 h.				
INDICACIONES	DESTINATARIO	PILAR ACOSTA GÓNZALEZ					
	SEÑAS	PLAZA DEL CALLAO, 27 - 2º Izqda.					
	TELÉFONO	TÉLEX			FAX		
	DESTINO	MADRID					
TEXTO: EL JUEVES LLEGO EN EL TREN DE LAS 10 H. DE LA MAÑANA BESOS Y ABRAZOS.							
EVARISTO							
SEÑAS DEL EXPEDIDOR	NOMBRE	EVARISTO ACEBO GUTIERREZ			TFNO	91 850 582	
	DOMICILIO	C/ LA POLAMA, 23			POBLACIÓN	MORÓN	





FICHA DE LECTURA Nº 35

OBSERVO Y CONTESTO:

1. ¿Qué día se celebra el sorteo?

2. El billete costó:

3 € 6 € 10 € 20 €


3. El billete es de:

Lotería Cupón de ciegos Rifa Tómbola

4. ¿En qué ciudad se compró el billete?

5. El premio especial es de:

12.000 € 600.000 € 2.940.000 € 60 €





FICHA DE LECTURA Nº 36



LOTERÍAS Y APUESTAS DEL ESTADO 126

Este boleto sirve únicamente para la lectura de apuestas por un terminal en línea con un ordenador central

La Primitiva

1	10	X	30	40	2	10	20	30	40	3	10	20	30	40	4	10	20	30	40	5	10	20	30	40	6	10	20	30	40	7	10	20	30	40	8	10	20	30	40
X	11	21	31	41	1	11	21	X	41	1	11	21	31	41	1	11	21	31	41	1	11	21	31	41	1	11	21	31	41	1	11	21	31	41	1	11	21	31	41
2	12	22	32	X	2	12	22	32	42	2	12	22	32	42	2	12	22	32	42	2	12	22	32	42	2	12	22	32	42	2	12	22	32	42	2	12	22	32	42
3	13	23	33	43	X	3	13	23	33	X	3	13	23	33	3	13	23	33	43	3	13	23	33	43	3	13	23	33	43	3	13	23	33	43					
4	14	24	34	44	4	14	24	X	44	4	X	24	34	44	4	14	24	34	44	4	14	24	34	44	4	14	24	34	44	4	14	24	34	44					
5	15	X	35	45	5	15	25	35	45	5	15	25	35	45	5	15	25	35	45	5	15	25	35	45	5	15	25	35	45	5	15	25	35	45					
6	X	26	36	46	6	X	26	36	46	6	16	X	36	46	6	16	26	36	46	6	16	26	36	46	6	16	26	36	46	6	16	26	36	46					
7	17	27	37	X	7	17	27	37	47	7	17	27	37	47	7	17	27	37	47	7	17	27	37	47	7	17	27	37	47	7	17	27	37	47					
8	18	28	38	48	8	18	28	38	X	X	18	28	X	X	8	18	28	38	48	8	18	28	38	48	8	18	28	38	48	8	18	28	38	48					
9	19	29	39	49	9	X	29	39	49	9	19	29	39	49	9	19	29	39	49	9	19	29	39	49	9	19	29	39	49	9	19	29	39	49					

Los pronosticos en bloque 1 y las apuestas en su casilla

44
7
28
34
210
462

MÚLTIPLES
MARQUE CON X, EN AZUL O NEGRO, LOS NÚMEROS ELEGIDOS

BIEN
MAL

Si desea jugar más veces las mismas apuestas no doble, arrugue ni rompa este boleto

OBSERVO Y CONTESTO:

Los números que han salido en el bombo son:

8 - 16 - 23 - 31 - 42 - 48

1. ¿Cuántos números tiene acertados en el:

Bloque 1: Bloque 2: Bloque 3:

2. Cada bloque cuesta 1 €, ¿cuánto dinero se gastó el señor?

3. ¿En qué fecha se realizó el sorteo?

4. ¿Cuántos bloques se han quedado en blanco?





FICHA DE LECTURA

Nº 37

OBSERVO Y CONTESTO:

1. ¿Qué día se celebró el sorteo del que tienes delante la lista de premios?
2. ¿Hasta qué día podrán cobrarse los premios?
3. ¿Qué número se ha llevado el primer premio de 2.000.000 €?
4. ¿Qué cantidad de dinero ha recibido el 2º premio?
5. ¿Con qué número jugamos si poseemos este billete de lotería?

 LOTERÍA NACIONAL		SORTEO DEL DÍA 6 DE ENERO DE 2008 <small>Cincuenta y cinco series de 100.000 billetes cada una</small>				SORTEO 2 08	Lista acumulada de las cantidades que han correspondido a los números premiados, clasificados por su cifra final Estos premios podrán cobrarse hasta el día 7 de abril de 2008, INCLUSIVE				 44553 <small>LOTERÍA NACIONAL</small> <small>Sorteo del día 6 de enero de 2008</small> <small>38€</small> <small>10€</small> <small>20€</small> <small>5102510038>0645795768</small>
0	1	2	3	4	5	6	7	8	9		
Números	Euros/Billete	Números	Euros/Billete	Números	Euros/Billete	Números	Euros/Billete	Números	Euros/Billete		
01030 14.000						47156 14.000		28318 14.200 47798 14.200 50028 14.200 50698 14.200 64958 14.200	21579 14.000		
71000 1.000	71001 1.000	71002 1.200	71003 1.400	71004 1.000	71005 1.000	71006 1.000	71007 1.200	71008 1.800	71009 1.000		
71010 1.000	71011 1.000	71012 1.200	71013 1.000	71014 1.000	71015 1.000	71016 1.000	71017 1.200	71018 1.200	71019 1.000		
71020 1.000	71021 1.000	71022 1.200	71023 1.000	71024 1.000	71025 1.000	71026 1.000	71027 1.200	71028 1.200	71029 1.000		
71030 1.000	71031 1.000	71032 1.200	71033 1.000	71034 1.000	71035 1.000	71036 1.000	71037 1.200	71038 1.200	71039 1.000		
71040 1.000	71041 1.000	71042 1.200	71043 1.000	71044 1.000	71045 1.000	71046 1.000	71047 1.200	71048 1.200	71049 1.000		
71050 1.000	71051 1.000	71052 1.200	71053 1.000	71054 1.000	71055 1.000	71056 1.000	71057 2.200	71058 1.200	71059 1.400		
71060 1.000	71061 1.000	71062 1.200	71063 1.000	71064 1.000	71065 1.000	71066 1.000	71067 1.200	71068 1.200	71069 1.000		
71070 1.000	71071 1.000	71072 1.800	71073 1.000	71074 1.000	71075 1.000	71076 1.000	71077 1.200	71078 1.200	71079 1.000		
71080 1.000	71081 1.000	71082 1.200	71083 1.400	71084 1.000	71085 1.000	71086 1.000	71087 1.200	71088 1.200	71089 1.000		
71090 1.000	71091 1.000	71092 1.200	71093 1.000	71094 1.000	71095 1.000	71096 1.000	71097 7.200	71098 1.000.200	71099 7.000		
			73593 14.000 73973 14.000								
87600 1.000	87601 1.000	87602 1.200	87603 2.400	87604 1.000	87605 1.000	87606 1.000	87607 1.200	87608 1.800	87609 1.000		
87610 1.000	87611 1.000	87612 1.200	87613 1.000	87614 1.000	87615 1.000	87616 1.000	87617 1.200	87618 1.200	87619 1.000		
87620 1.000	87621 1.000	87622 1.200	87623 1.000	87624 1.000	87625 1.000	87626 1.000	87627 1.200	87628 1.200	87629 1.000		
87630 1.000	87631 1.000	87632 1.200	87633 1.000	87634 1.000	87635 1.000	87636 1.000	87637 1.200	87638 1.200	87639 1.000		
87640 1.000	87641 1.000	87642 1.200	87643 1.000	87644 1.000	87645 1.000	87646 1.000	87647 1.200	87648 1.200	87649 1.000		
87650 1.000	87651 1.000	87652 1.200	87653 1.000	87654 1.000	87655 1.000	87656 13.800	87657 2.000.000	87658 13.800	87659 1.400		
87660 1.000	87661 1.000	87662 1.200	87663 1.000	87664 1.000	87665 1.000	87666 1.000	87667 1.200	87668 1.200	87669 1.000		
87670 1.000	87671 1.000	87672 1.800	87673 1.000	87674 1.000	87675 1.000	87676 1.000	87677 1.200	87678 1.200	87679 1.000		
87680 1.000	87681 1.000	87682 1.200	87683 1.400	87684 1.000	87685 1.000	87686 1.000	87687 1.200	87688 1.200	87689 1.000		
87690 1.000	87691 1.000	87692 1.200	87693 1.000	87694 1.000	87695 1.000	87696 1.000	87697 1.200	87698 1.200	87699 1.000		
	90611 14.000						91917 14.200				





FICHA DE LECTURA Nº 38

CajaSur		INGRESO EN EFECTIVO	
FECHA	NUMERO DE CUENTA (C.C.C.)	IMPORTE	
08/04/2008	2024.0054.22.3022056720	***** 140,00 EUR	
TITULAR			
ROBERTO SÁNCHEZ ÁLVAREZ			
INGRESO EFECTUADO POR			
VICTORIA GUERRERO GARCÍA			
CONCEPTO			
PAGO FACTURA DE LIBROS			
FIRMA DEL QUE REALIZA LA ENTREGA		N.I.F.	
		C.A. y M.P. de Córdoba, Cajasur	
16 KDK6 08/04/08 09:43 302.0054.056720		***** 140,00 EUR	
EQUIVALENTE A...: VALIDACION		***** 23.294 PTS	

COPIA

Stamp: CajaSur - 8 ABR 2008 - No. Firma - POZOBLANCO - 2024.0054.2

Caja de Ahorros y Monte de Piedad de Córdoba, Ronda de los Tejares, 18-24. CORDOBA. Inscr. R. M. de Córdoba, Tomo 565, Folio 1, Hoja CO-2.423, Inscr. 1ª. N.I.F. G- 1400485

Mod. 70.0295 (09/05)

A LOS EFECTOS DE SU VALIDEZ, ESTE RESGUARDO PRECISARA DE IMPRESION MECANICA O SELLO Y FIRMA Y, EN CUALQUIER CASO, NO PRESENTAR ENMIENDAS O RASPADURAS



OBSERVO Y CONTESTO:

1. ¿Cuánto dinero ha ingresado D^a Victoria en la cuenta de D. Alberto?
2. ¿En qué banco se realizó el ingreso?
3. ¿Quién hizo el ingreso?
4. ¿Quién cobrará ese dinero?
5. ¿En que fecha se realizó la operación?
6. ¿En qué concepto se realiza el ingreso?




FICHA DE LECTURA Nº 39



OBSERVO Y CONTESTO:

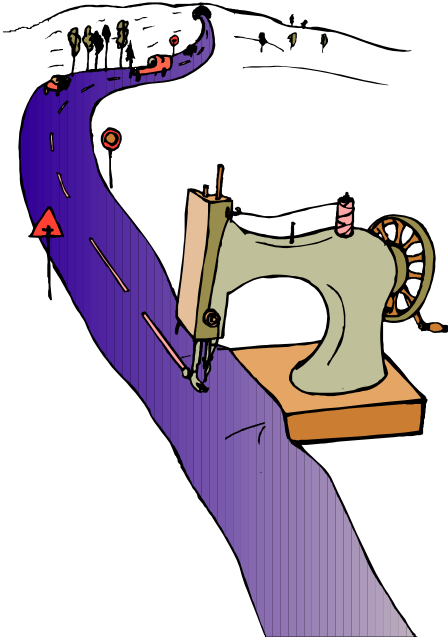
1. ¿A cuánto corresponde el total de la factura?
2. ¿Y cuánto pagaremos de IVA?
3. ¿Qué electrodoméstico hemos comprado?
4. ¿En qué tienda lo hemos adquirido?
5. ¿Quién es el comprador?
6. Si tuviera que reclamar, ¿a qué teléfono llamaríamos?


idea		Pozoblanco			
IDEA GALVEZ, S.L. C. I. F. B-14606198 Maestro Francisco Redondo Guillén, n.º 2 - Local Teléfono: 957 77 26 49 14400 POZOBLANCO, Córdoba		7500 RAFAEL GONZALEZ MORENO C/ VIRGEN DE LOURDES N° 21 POZOBLANCO (14400-CORDOBA)			
CODIGO	CANTIDAD	CONCEPTO		Precio unitario	IMPORTE
221001001	1,00	Factura 15.620 Fecha 09/12/2004 CONJ.GENERAL ELECTRIC HORNO + VITRO B		469,8	469,83
 Estando el cliente conforme con el artículo y teniendo conocimiento de sus características técnicas. En el lugar y fecha arriba indicado:					
BASE IMPONIBLE	%	I.V.A. IMPORTE	%	REC. EQUIV. IMPORTE	TOTAL FACTURA
469,83	16	75,17			Euros 545,00






FICHA DE LECTURA Nº 40



 NACIONAL SUIZA SEGUROS Domicilio Social: Aragón, 390-394 Teléfono: 93 344 24 00 08013 BARCELONA	<u>Nº Recibo</u> 1235727 <u>Emisión</u> BARCELONA, 1-08-2007	<u>Nº Póliza</u> 1400201A183782	<u>Importe Total Recibo</u> 406,34 <u>Período de cobertura</u> Del 1-08-2007 al 1-08-2008
OBJETO DEL SEGURO : RENAULT ESPACE GTS. Matricula : 4479-BWG COBERTURAS : R.C.SUSCRIPCION OBLIGATORIA, RESP.CIVIL Y FIANZAS CIVILES, DEFENSA PENAL, RECLAMACION DE DAÑOS, ROTURA DE LUNAS, OCUPANTES.			
<u>PRIMA(*)</u> 365,56	<u>CONSORCIO</u> 18,76	<u>IMPUESTOS</u> 22,02	<u>TOTAL</u> 406,34
(*) PRIMA BONIFICADA.			
NOMBRE Y DOMICILIO DEL PAGADOR GONZALEZ MORENO, RAFAEL VIRGEN DE LOURDES, 21 14400 - POZOBLANCO CORDOBA)			
RECIBIMOS, POR NACIONAL SUIZA CIA. DE SEGUROS Y REASEGUROS, S.A. Director General			
<u>RECURSO DE MULTAS : "MONDIAL ASSISTANCE". Llamar a 902.34.42.60.</u> 2-ORG:1302 (1 de 1) El pago de este recibo no presupone el pago de los anteriores.			

OBSERVO Y CONTESTO:

1. ¿Cómo se llama la compañía aseguradora?
2. ¿Cómo se llama el asegurado?
3. ¿Qué matrícula tiene el coche del asegurado?
4. ¿Qué cantidad tuvo que pagar el asegurado por el seguro de su coche?
5. ¿Qué fecha (tiempo) cubre el seguro del asegurado?





FICHA DE LECTURA Nº 41

CÓDIGOS DE DESCUENTOS

CÓDIGOS	CONCEPTOS
01	I.R.P.F
02	PASIVOS
03	CUOTA OBRERA 4 ANTICIPOS
05	PRÉSTAMOS MUFACE
10	RETENCIÓN HABERES
80	M.U.F.A.C.E.
84	HIGIENE Y SEGURIDAD SOCIAL

CÓDIGOS DE CONCEPTOS RETRIBUTIVO

CÓDIGOS	CONCEPTOS
11	SUELDO
12	TRIENIOS
13	PAGA EXTRAORDINARIA
15	COMPLEMENTO PERSONAL
52	COMPLEMENTO DE DESITNO (DOCENTE)
54	COMPLEMENTO ESPECÍFICO (DOCENTE)
57	CLÁUSULA DE REVISIÓN SALARIAL
59	COMP. ESPECÍFICO COMPO. PERIÓDICO
65	COMPLEMENTO NIVELADOR

OBSERVO Y CONTESTO:

- ¿Cuál es la Entidad Pagadora?
- ¿A qué mes corresponde esta nómina?
- La sucursal bancaria ¿en qué localidad se encuentra?
- ¿El código 11 a qué concepto hace referencia?
- ¿Qué sueldo bruto se refleja?
- ¿A qué concepto se refiere la cantidad de 378,45 €?
- ¿A cuánto ascienden los descuentos?
- ¿Cuál será la cantidad que recibiremos?

JUNTA DE ANDALUCIA				CONSEJERÍA DE EDUCACIÓN Y CIENCIA			
AVDA, DOCTOR CORNEJO S/N DOS TORRES							
C. DESTINO 14003381 C.E.I.P. NTRA. SRA. DE LORETO							
APELLIDOS Y NOMBRE MARTÍN ARENAS, JULIO							
LIQUIDACION DE HABERES AL MES DE: MARZO 2008 PAG.: 2444							
CENTRO PAGADOR: CONSEJERÍA DE EDUCACIÓN Y CIENCIA							
ENTIDAD PAGADORA: 2024 CAJA DE AHORROS Y M.P. DE CÓRDOBA						C/C: 3045025385	
SUCURSAL: 0054 DR. FLEMING, 1						POZOBLANCO	
COD.	IMPORTE	ATRASOS	ANTICIPOS				
11	890,00						
12	225,68						
52	449,91						
54	378,45						
59	218,70						
2.162,74							
A		B		C			
				CATEG. PROF.	N° HJOS	%	N° AFILIADO A LA B.S.
						12	
				GRUPO TARIFA	EPIGRAFE ACCIDTE.	PRORRATA PAGAS EXTR.	NUMERO PATRONAL
				COD.	DESCUENTOS	COMPENSACIONES	
				01	259,53		
				02	71,16		
				80	31,16		
				361,85			
				D		E	
				BASE COTIZ. TOTAL	IMPORTE	%	TOTAL
				COTIZ. POR AT EP Y FP	IMPORTE	%	TOTAL
				PLURIEMPLEO MÁX.	MIN.	DESEMPEÑO	
				LIQUIDO A PERCIBIR = (A + B - C - D + E)			1.800,89
				N.R.P. AEC 214329			
				NIF: 74321138M			



FICHA DE LECTURA Nº 42

71 NºR 0458533 BILLETE + RESERVA EL 0007 BPPV0338
CONSERVESE PARA LA VUELTA 00000000 5644
VALIDEZ DE REGRESO: 60 DIAS 20/02/01 18:42

GRANDES LINEAS RENFE
CIP 681605153663 86118

PROHIBIDO FUMAR FUERA DE LA ZONA RESERVADA
CONSERVESE HASTA EL FINAL DEL VIAJE

DE	→	A	CLASE	FECHA	HORA SALIDA	TIPO DE TREN	CONDICIONES	Nº PLAZA	DEPARTAMENTO	Nº TREN
PTA. ATICHA		VALENCIA N	T	22.02	09.00	ALARIS	2 CLIMATIZ.	8A	NO FUMADOR	1094
HORA DE LLEGADA-->: 12.29										
CIERRE DEL ACCESO AL TREN 2 MINUTOS ANTES DE LA SALIDA										

Tarifa 016 IDA Y VUELTA
Forma de pago METALICO

EUR:***84,86
Pesetas ****5800ee


OBSERVO Y CONTESTO:

1. ¿A qué ciudad se dirigía el pasajero?
2. ¿Qué día hacía el viaje?, ¿a qué hora salía el tren?
3. ¿Sabrías decir si el departamento era de fumador o no fumador?
4. ¿Cuánto costó el billete de tren?
5. ¿Qué nº de plaza correspondía al pasajero?





FICHA DE LECTURA Nº 43



OBSERVO Y CONTESTO:

1. ¿A qué dirección tengo que mandar este boletín de pedido?
2. ¿Cómo se llama el señor que ha hecho el pedido?
3. ¿Cuántos libros desea?
4. De los libros que ha pedido, ¿cuál es el más caro?
5. ¿Qué libro de Michel Ende ha pedido?
6. ¿Cuánto le van a costar los tres libros?
7. ¿Cuál es la forma de pago?

Pedido Nro. 21

Fecha del pedido: 19/03/2008

Comprador:

JOAQUÍN RAMOS GARCÍA

Dirección de entrega:

C/ Rojas Marcos, 12
41530 - Morón de la Frontera
SEVILLA

Medio de pago:

Contra reembolso

Estado del pedido: espera existencias

Fecha envío: Ref:

Producto	REF.	Precio	IVA	Unid.	Imp.IVA	Total
MOMO (Michel Ende)	263	4,50 €	4%	1	0,18 €	4,68 €
CUENTOS POR TELÉFONO (G. Rodari)	437	8,20 €	4%	1	0,33 €	8,53 €
MAFALDA - Tomo 7 (Quino)	68	3,90 €	4%	1	0,16 €	4,06 €
Total compra:		16,6 €			0,67 €	17,27 €

Rellene, recorte y envíe este boletín en un sobre a LIBRERÍA RUBINOS. Alcalá, 98 - 28009-Madrid

GASTOS DE ENVÍO:

Los gastos para el extranjero ascienden a 3 €. En pedidos superiores a 30 €, el 10 % del importe del pedido.

FORMA DE ENVÍO. ESPAÑA Y EXTRANJERO:

Por correo certificado vía terrestre o marítima, viajando los paquetes por cuenta y riesgo el comprador.



FICHA DE LECTURA Nº 44



RIFA "APA CAPELLANIA" Nº 31.018

El poseedor de la papeleta cuyas cifras coincidan con las cuatro últimas cifras respectivamente del primer y segundo premio del sorteo de LOTERIA NACIONAL del jueves 22 marzo 2.007, será acreedores a los siguientes premios:

1er premio: **Estancia para cuatro personas a "Port Aventura"**
(Alojamiento y desayuno tres adultos y un niño, temporada d y e).
Colabora en este premio: COSTA ESTE DE TURISMO. C.C. Capellania.

2º premio: **Lector MP-4 de 1GB capacidad.**
(radio fm, lector MP-3, WMA, DAM, AMV y JPEG)

El premio caduca a los tres meses.
No se aceptarán papeletas rotas, rasgadas o modificadas.
Más información: <http://www.apa-capellania.com.es>

PRECIO: 2,00€ (dos euros)

OBSERVO Y CONTESTO:

1. ¿Quién organiza la rifa?
2. ¿Qué día se celebra el sorteo?
3. ¿Qué precio tiene la papeleta?
4. ¿Qué número tiene que salir premiado en la Lotería Nacional para que me toque algún premio?
5. ¿Qué regalo me llevaré si sale el primer premio?
6. ¿Si me toca un lector MP-4 qué premio habrá tocado por la lotería?
7. En caso de que toque, ¿hasta qué día podrá recoger el premio?





FICHA DE LECTURA Nº 45

A

Tengo hojas sin ser árbol, te hablo sin tener voz, si me abres no me quejo, adivina quién soy yo.



B

En dos castañuelas voy encerrado y al sacarme del mar me pongo colorado.



Almacén de historias rotas dicen muchos que yo soy y en colegios y oficinas por los rincones estoy.

C





Chiquitín y danzarín, pasa las noches rondando con lanza y con cornetín.

D

E
No soy estación del metro ni soy estación del tren, pero soy una estación donde mil flores se ven.

OBSERVO Y CONTESTO:

1. Relaciona cada adivinanza con la imagen que la representa.





FICHA DE LECTURA Nº 46




1

RELACIONA CADA OBRA CON SU AUTOR:

- Goya: "Los fusilamientos"
- Dalí: "Galatea de esferas"
- Miró: Litografía "Escultor Italy"
- Murillo: "Los mendigos"
- Tapes: "Cara i dors"

2



3



4



5





FICHA DE LECTURA Nº 47



A



B



C



D



E

1. Lugar de encuentro
2. Alquiler de coches
3. Oficina de objetos perdidos
4. Agua
5. Puesto de socorro
6. Teléfono público
7. Bar / cafetería
8. Correos
9. Para minusválidos
10. Restaurante

F



G



H



I



J



OBSERVO Y CONTESTO:

1. ¿Qué significa cada panel? Haz corresponder cada panel con su definición.

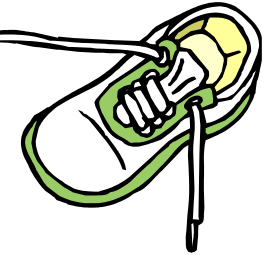


FICHA DE LECTURA Nº 48

- 1 
- 2 
- 3 
- 4 
- 5 
- 6 
- 7 
- 8 
- 9 
- 10 



- A ESGRIMA
- B TENIS
- C HÍPICA
- D VOLEIBOL
- E FÚTBOL
- F PING-PONG
- G BALONCESTO
- H CICLISMO
- I HOCKEY
- J ATLETISMO



OBSERVO Y CONTESTO:

1. Tienes diez modalidades deportivas y diez símbolos que los representan. Une cada símbolo con su modalidad deportiva.



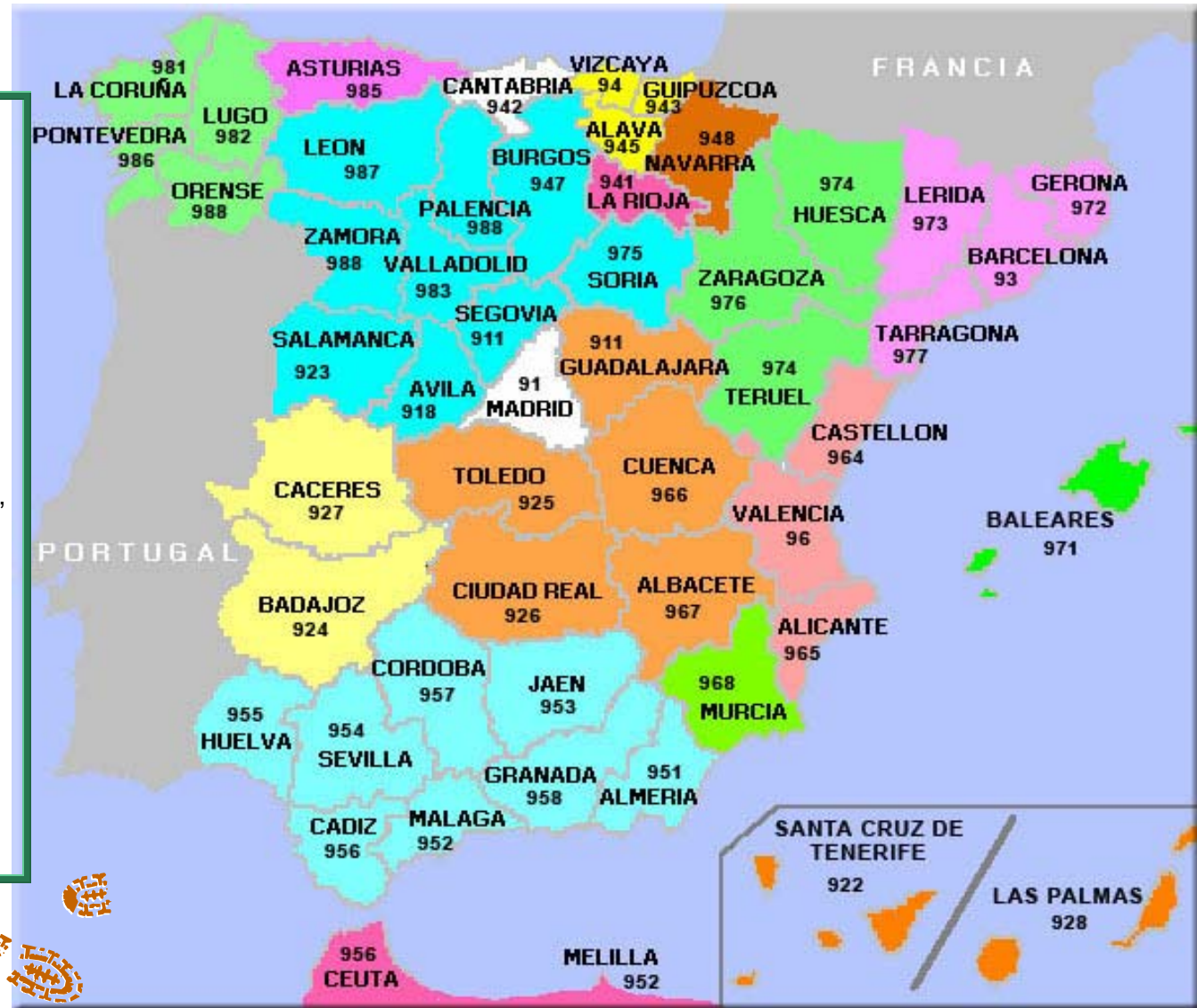
FICHA DE LECTURA Nº 49

OBSERVO Y CONTESTO:

RED AUTOMÁTICA NACIONAL

Si quiero llamar por teléfono a otra provincia, tengo que anteponer el código que corresponda a esa provincia.

1. Para llamar a un amigo de Málaga, ¿qué prefijo deberé marcar antes?
2. Quiero llamar al nº 511156 de Zamora. ¿Qué prefijo tendré que marcar antes?
3. Si marco como prefijo el 967, ¿a qué provincia estaré llamando?
4. ¿Y si marco el 91?





FICHA DE LECTURA Nº 50

Itinerario:

Covaleda, Vinuesa, Soria, Almazán, El Burgo de Osma, San Esteban de Gormaz, Peñaranda de Duero, Aranda de Duero, Roa de Duero, Peñafiel, Valladolid, Simancas, Tordesillas, Toro, Zamora.



La villa de **Peñafiel** se extiende al amparo de este castillo de alargada y estrecha planta, que semeja un airoso navío. Fundado en el siglo X por Ruy Laínez, hijo del conde castellano Laín Calvo, el castillo cayó luego en poder de Almanzor. Fue conquistado en 1013 por el conde Sancho García, que lo reconstruyó y calificó de “peña fiel”. En el siglo XVII, el rey Felipe III lo cedió al duque de Osuna concediéndole así mismo el título de marqués de Peñafiel.



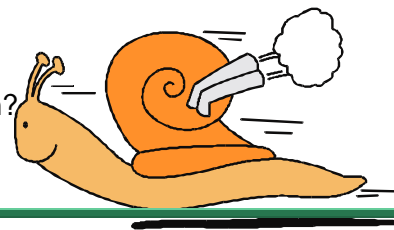
Al igual que ocurre en otras muchas localidades zamoranas, los orígenes de **Toro** se remontan a época prerromana. Repoblada por el infante D. García, hijo de Alfonso III, a fines del siglo IX, la ciudad destacó sobremanera durante los siglos XII al XVI. Fue sede real, lugar de reunión de Cortes y cuna de reyes.



En la época medieval, con la reconquista, comienza su relevancia histórica. Su situación de plaza fuerte fronteriza en la línea defensiva del Duero, la hizo ser conquistada alternativamente por musulmanes y cristianos. Destaca señalar la repoblación de Fernán González en el 915 y la conquista definitiva en el siglo XI. Sin embargo, la prosperidad de la villa de **San Esteban de Gormaz** comenzará tras la conquista de Toledo en el 1085. Mencionada en el Cantar de Mío Cid, alcanza su mayor esplendor en el siglo XIII. Será en el XV cuando comience una lenta pero progresiva decadencia.


OBSERVO Y CONTESTO:

1. ¿Cómo se denomina la ruta?
2. ¿En qué localidad comienza el itinerario? ¿y dónde termina?
3. Se habla de tres ciudades importantes, ¿sabrías decir cuáles son?
4. ¿Qué ciudad destacó durante los siglos XII al XVI?






FICHA DE LECTURA Nº 51



OBSERVO Y CONTESTO:

1. ¿Cuántos parques peninsulares tenemos?
2. ¿Y cuántos insulares?
3. ¿Qué parques naturales tenemos en Andalucía?
4. ¿Qué parque hay cerca del Mar Cantábrico?
5. ¿Dónde está el parque de Timanfaya?



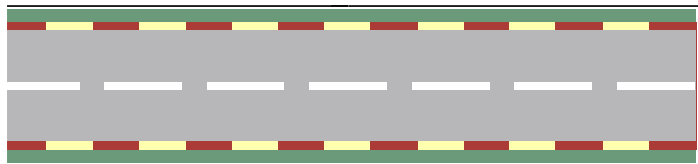
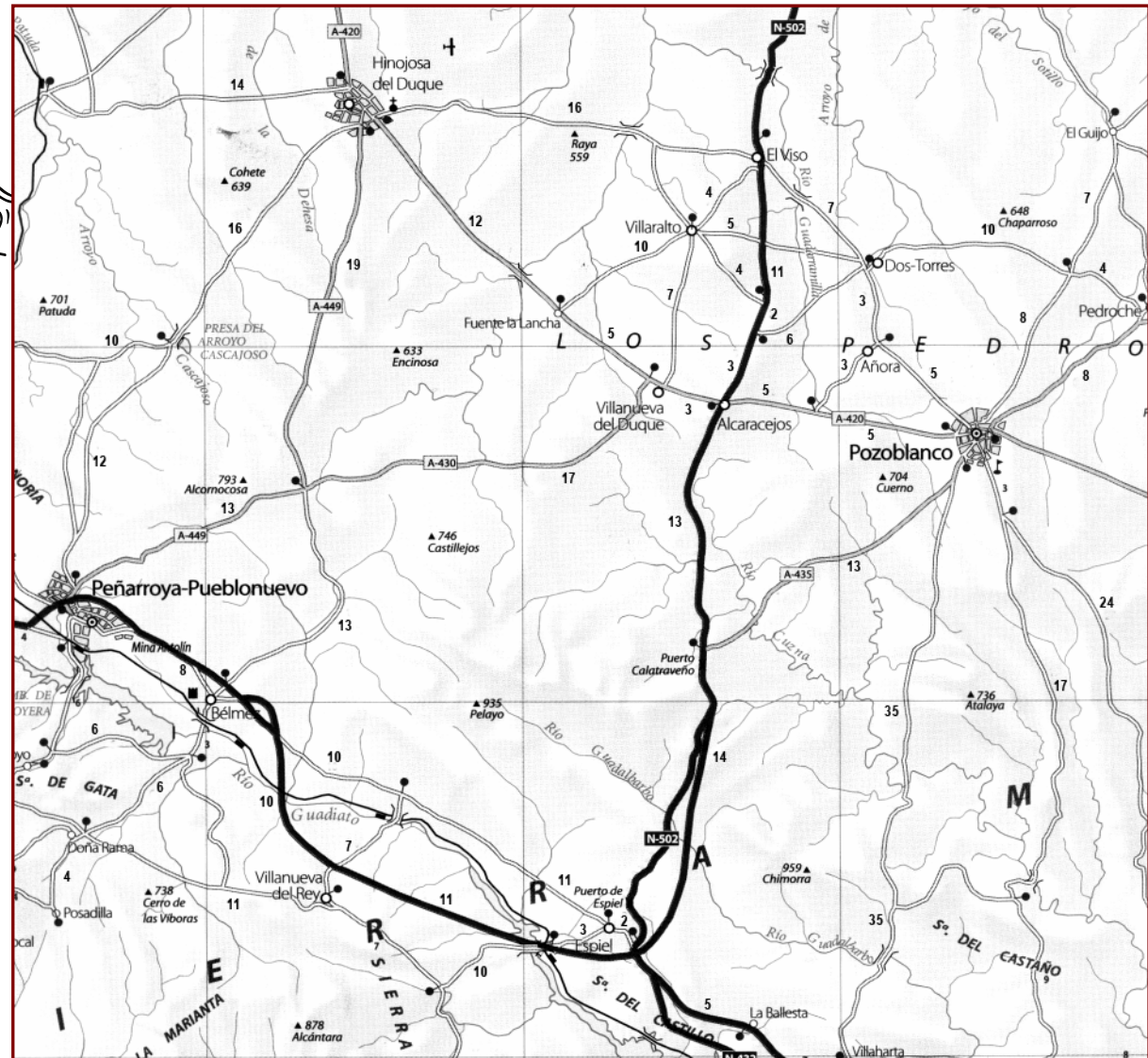


FICHA DE LECTURA Nº 52



OBSERVO Y CONTESTO:

1. Para ir de Dos Torres a Fuente la Lancha, ¿el recorrido más corto de cuántos km será?
2. ¿Y para ir de Peñarroya-Pueblonuevo a Pozoblanco?
3. ¿Y para ir de El Viso a Hinojosa del Duque?





FICHA DE LECTURA Nº 53




OBSERVO Y CONTESTO:

1. ¿Qué Comunidad Autónoma forman las provincias de Cáceres y Badajoz?
2. Galicia, ¿por qué provincias está formada?
3. Almería, ¿en qué Comunidad Autónoma se encuentra?
4. ¿Y Cuenca?
5. ¿Qué provincias forman la Comunidad Valenciana?
6. Si éste ● es el símbolo de las capitales de las Comunidades Autónomas, ¿cuál es la capital de Andalucía?



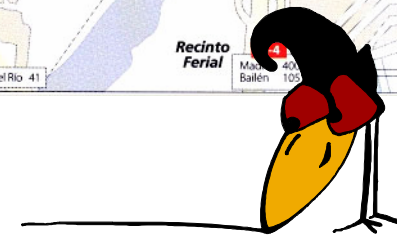
FICHA DE LECTURA Nº 54

1. Plaza de toros
2. Jardines del Duque de Rivas
3. Palacio de la Merced
4. Plaza de Colón
5. Jardines de la Victoria
6. Ayuntamiento
7. Pabellón Polideportivo
8. La Judería
9. Iglesia de Santa Victoria
10. Plaza de la Magdalena
11. Mezquita Catedral
12. Palacio Episcopal y Califal
13. Alcázar
14. Puente romano
15. Torre de la Calahorra
16. Jardín Botánico
17. Puente de San Rafael
18. Río Guadalquivir



OBSERVO Y CONTESTO:











1. La Mezquita Catedral, ¿qué número tiene?
2. ¿Qué edificio es el número 6?
3. El Puente San Rafael, ¿qué río atraviesa?
4. En la calle de J. Varela, ¿qué edificio importante tenemos?







FICHA DE LECTURA Nº 55

CUADRO DE POTENCIAS MEDIAS DE APARATOS DOMÉSTICOS USUALES

	Lámpara	60 w
	Televisor	200 w
	Taladro	650 w
	Termo	1.000 w
	Microondas	900 w
	Horno	2.000 w
	Aire acondicionado	2.000 w
	Lavadora	2.500 w
	Lavavajillas	3.000 w
	Secadora	2.700 w






OBSERVO Y CONTESTO:

1. ¿Qué aparato gasta 650 w (wattios)?
2. ¿Cuánto gasta el horno?
3. ¿Qué aparatos gastan más de 2.000 w?
4. ¿Qué aparatos gastan menos de 500 w?
5. ¿Cuántos wattios gastan estos aparatos juntos?

Microondas y Aire acondicionado

6. Completa:

Todos ellos funcionan con energía e _____





FICHA DE LECTURA Nº 56



lunes	martes	miércoles	jueves	viernes	sabado	domingo
			1	2	3	4
5	6	7	8	9	10	11
12	13	14	15	16	17	18
19	20	21	22	23	24	25
26	27	28	29	30	31	

Mayo 08

lunes	martes	miércoles	jueves	viernes	sabado	domingo
						1
2	3	4	5	6	7	8
9	10	11	12	13	14	15
16	17	18	19	20	21	22
²³ / ₃₀	24	25	26	27	28	29

Junio 08

lunes	martes	miércoles	jueves	viernes	sabado	domingo
	1	2	3	4	5	6
7	8	9	10	11	12	13
14	15	16	17	18	19	20
21	22	23	24	25	26	27
28	29	30				

Abril 08

OBSERVO Y CONTESTO:

1. ¿Qué día de Junio tendremos Luna llena?
2. ¿Qué días de Abril y Mayo habrá Luna nueva?
3. ¿Cómo estaba la Luna el día 10 de Abril?
4. ¿Cuántos días tardará la Luna en el mes de Mayo en pasar de llena a nueva?
5. ¿El tercer lunes de Abril qué día del mes era?
6. ¿Cuántos días de fiesta habrá en estos tres meses?
7. ¿El día 24 de Mayo qué día de la semana será?






FICHA DE LECTURA Nº 57

EPOCAS HABLES DE PESCA 1983

Artes	Especies	Enero	Febrero	Marzo	Abril	Mayo	Junio	Julio	Agoato	Septiembre	Octubre	Noviembre	Diciembre	Máximas capturas por pescador	La longitud ha de ser mayor de		
Únicamente con caña	Salmón	1 ^{er} DOM.		2 ^a DOM.												3	40 cms.
	Trucha	3 ^{er} DOM.			DIA 31										20	19 cms.	
	Trucha alta montaña	2 ^a DOM.				DIA 30									20	17 cms.	
	Lucio, black-bass, ciprinidos y otros	DIA 1											DIA 31	Sin limitación	Lucio, 20 cms. Black-bass, 21 cms. Barbo, 18 cms. Carpa, 18 cms. Tenca, 15 cms.		
Con caña, redes o artes especiales	Ciprinidos (con red)	DIA 28-29									DIA 16			idem			
	Angula	DIA 30												DIA 1		idem	—
	Anguila	DIA 1											DIA 31	idem	20 cms.		
	Alosa, saboga o sábalo	DIA 1											DIA 31	idem	20 cms.		
	Lamprea	DIA 1											DIA 31	idem	25 cms.		
	Esturión	DIA 1											DIA 31		idem	Macho, 70 cms. hembra, 110 cms.	
Reteles	Cangrejo	(Jueves, sábados y festivos) DIA 21 DIA 31													80 (8 reteles)	8 cms.	



OBSERVO Y CONTESTO:

1. ¿Qué especies se pudieron pescar con caña?
2. ¿Qué especies se pudieron pescar todo el año?
3. ¿Cuántos salmones se podían pescar por pescador?
4. ¿Qué longitud como mínimo debe tener la anguila pescada?
5. ¿Cuándo termina la temporada de la pesca del esturión?





FICHA DE LECTURA Nº 58



OBSERVO Y CONTESTO:

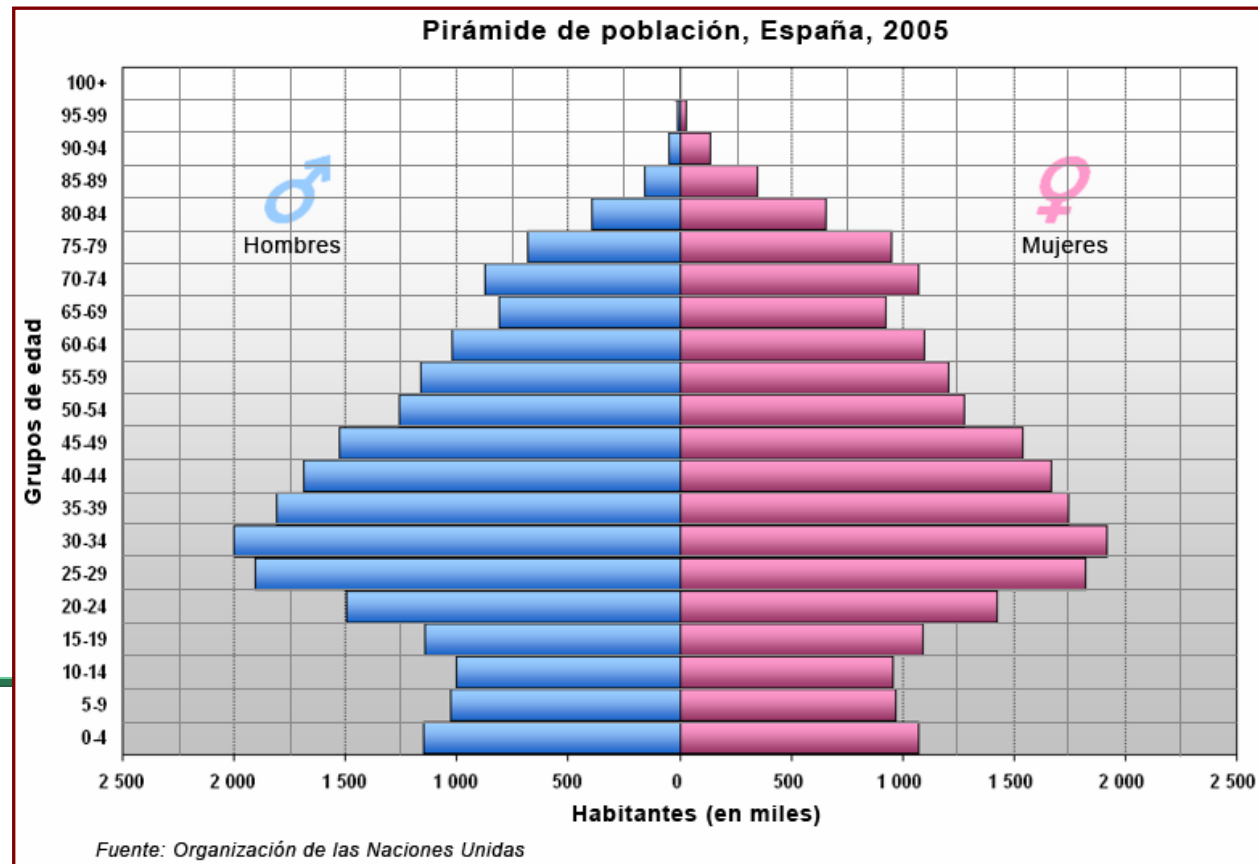

1. ¿Qué temperatura máxima tuvo ayer Córdoba?
2. ¿Qué temperatura mínima se espera hoy en Jaén?
3. ¿Qué ciudad tendrá hoy la temperatura más elevada?
4. ¿Y la temperatura más baja?
5. ¿Cómo está el día hoy en Sevilla?
6. ¿Cuáles son la máxima y la mínima de Madrid?
7. ¿Llovió ayer en Hinojosa?

LAS TEMPERATURAS DE AYER EN LAS ESTACIONES DE LA PROVINCIA				
	MÁXIMA	MÍNIMA	CIELO	LLUVIA
■ CÓRDOBA	22,8°	12,5°		
■ HINOJOSA	20,3°	8,8°		0,1 litros
■ VILLANUEVA C.	18,8°	8°		0,2 litros
■ DOÑA MENCÍA	18,5°	8°		0,5 litros





FICHA DE LECTURA Nº 59




OBSERVO Y CONTESTO:

1. ¿Qué representa la pirámide?
2. ¿Quién la ha elaborado?
3. Aproximadamente, ¿cuántos hombres entre 20 y 24 años se manifiestan?
4. ¿Y niñas entre 5 y 9 años?
5. ¿Cuál es la población de menor número reflejada?
6. ¿A qué Comunidad Autónoma se refiere esta gráfica?




FICHA DE LECTURA Nº 60



OBSERVO Y CONTESTO:

1. ¿Dónde comienza esta etapa del Tour de Francia del año 2.007?
2. ¿Cuántos puertos de montaña tiene?
3. De los puertos que tiene, ¿cuántos son de 1ª categoría?
4. ¿Cuántos KM tiene la etapa?
5. ¿Cuántos metros de altitud tiene el Col de Tamié?
6. ¿Cómo se llama el Col que tiene 843 m. de altitud?



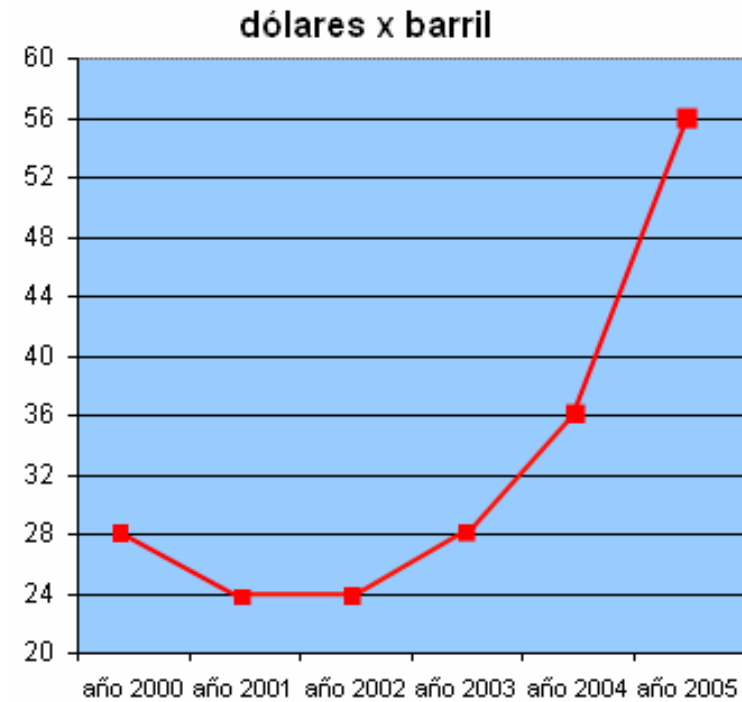


FICHA DE LECTURA Nº 61



OBSERVO Y CONTESTO:

1. ¿Cuántos dólares costaba el barril de petróleo en el año 2002?
2. ¿Y en el año 2005?
3. ¿Cuántos dólares subió entre el año 2001 y el 2004?





FICHA DE LECTURA Nº 62

NUMERO DE PRESTAMO		CAPITAL CONCEDIDO		FECHA FORMALIZ.	VENCIMIENTO	PERIODO DE LIQUIDACION	
599.0124092000.7		21.035,42 E		17.06.1998	17.02.2008	DEL 17.01.2008 AL 17.02.2008	
CONCEPTOS				IMPORTES		RESUMEN LIQUIDACION	
CUOTA DE CAPITAL VTO.				161,91		CAPITAL 161,91 E	
INTERES VTO. 6,950% S/ 7468,94, 1 MES				43,26		INT. DEUDORES 43,26 E	
COMISIONES						DEMORAS	
SUBVENCIONES						TOTAL ADEUDADO	
TITULAR DEL PRESTAMO				30.427.355K		205,17 E	
ANTONIO MARTÍNEZ LUENGO						34.137 P	
C.C.C.				FORMA DE PAGO			
2024 0054 2 3				3045025358			
ENTIDAD OFICINA D.C.				NUM. CUENTA			
SALDO ANTERIOR				SALDO POSTERIOR			
7.468,94 E				7.307,03 E			
1.242.727 P				1.215.787 P			

El total de la presente liquidación ha sido pagado con esta fecha en la forma que se indica.

CajaSur

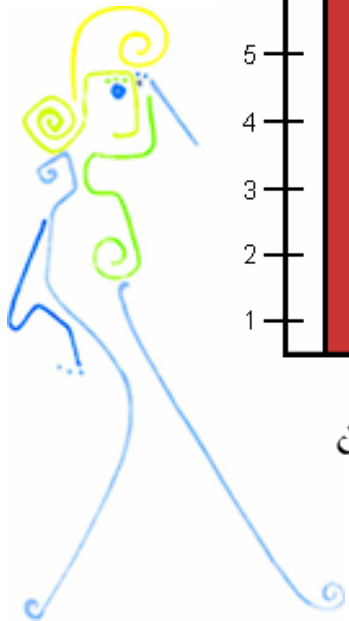
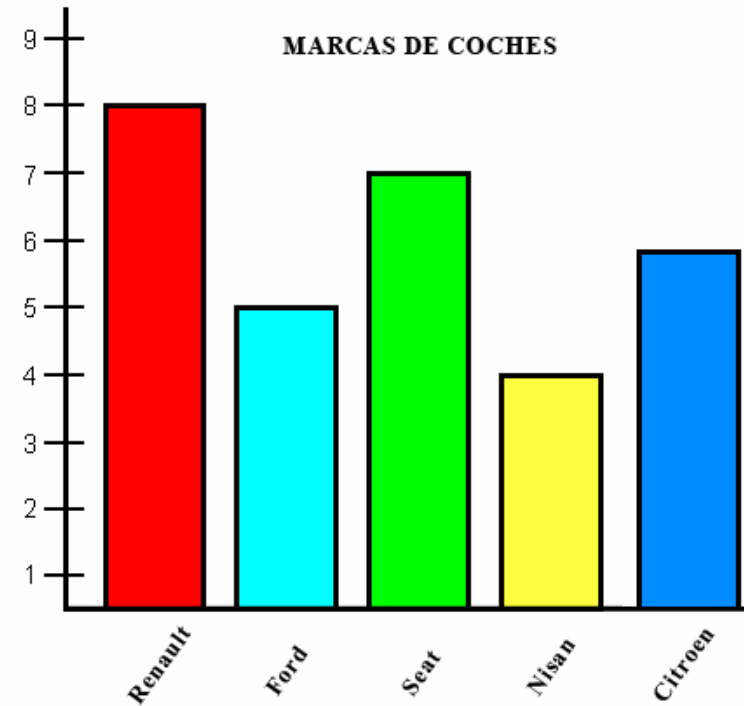
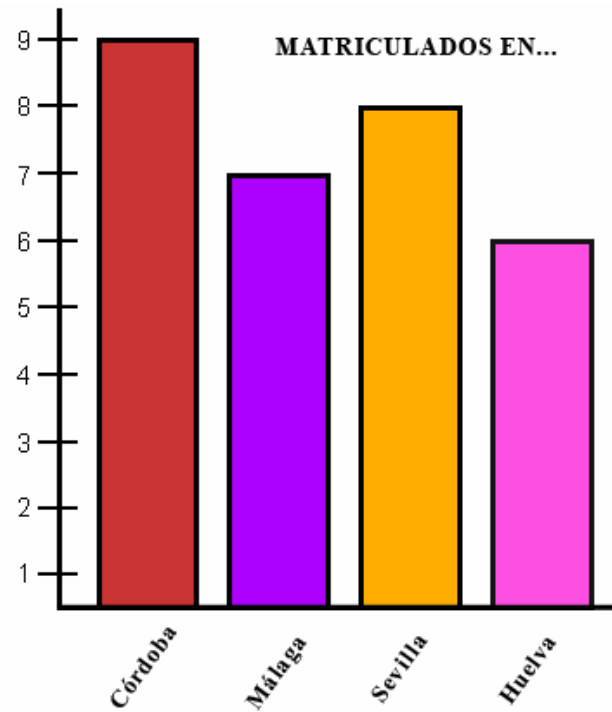
Ref. 91.0294

OBSERVO Y CONTESTO:

1. ¿Quién es el titular de este préstamo hipotecario?
2. ¿A cuánto asciende el capital concedido?
3. ¿Qué cantidad hemos pagado por este recibo?
4. ¿Y cuánto nos queda aún por pagar del préstamo?



FICHA DE LECTURA Nº 63



Los coches de mi calle



OBSERVO Y CONTESTO:

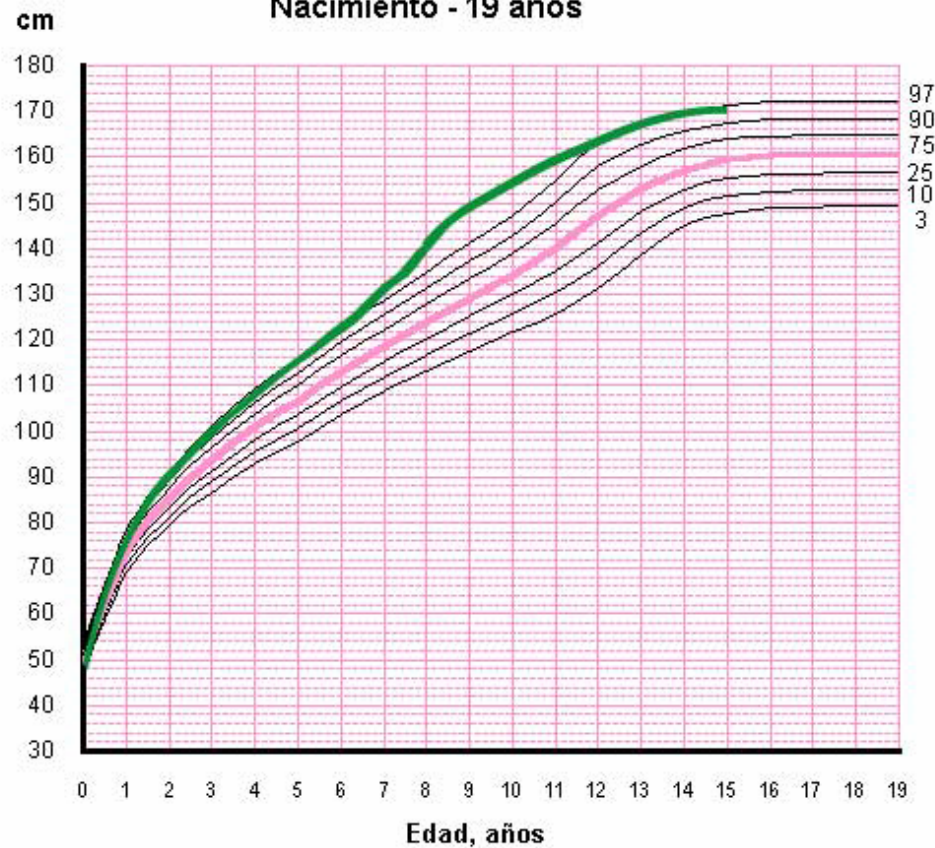

1. ¿Cuántos coches hay en mi calle?
2. ¿Qué ciudad de matrícula es la que más abunda?
3. ¿Qué marca es la que menos abunda?
4. Ordena de mayor a menor las marcas de los coches.





FICHA DE LECTURA Nº 64

Talla Niñas Nacimiento - 19 años



OBSERVO Y CONTESTO:

- ¿Cuál era la altura de Alicia?:
 - al nacer
 - a los 6 años
 - a los 9 años
 - a los 11 años
- ¿A qué edad medía 133 cm.?
- ¿A qué edad Alicia dobló la altura que tenía al nacer?
- ¿Cuál fue el año que creció menos?
- ¿Qué año creció más?
- El crecimiento de Alicia es superior o inferior a la media de crecimiento de las niñas?

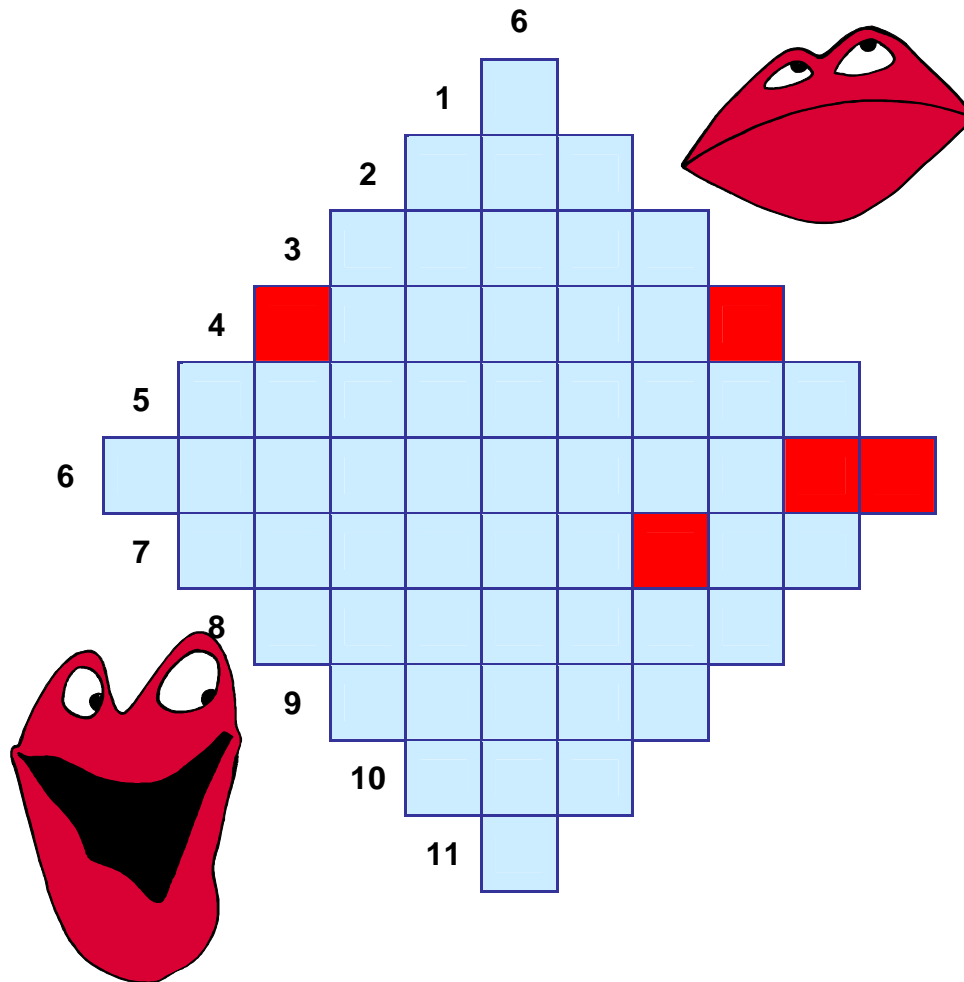
Este gráfico indica, en rosa, el crecimiento medio de las niñas de los 0 a los 19 años. En verde muestra el crecimiento de Alicia de los 0 a los 15 años.

Crecimiento de Alicia	Años	0	1	2	3	4	5	6	7	8	9	10	11	12	13	14	15
	Altura en cm.		50	76	92	100	108	116	123	133	142	150	155	160	164	167	170



FICHA DE LECTURA Nº 65

Crucigrama



OBSERVO Y CONTESTO:

VERTICALES:

6. Dueña de una propiedad

HORIZONTALES:

1. Letra número 19 del abecedario

2. Metal precioso utilizado en joyería

3. Saboreó, gustó, cató

4. Material con que se elaboran los libros

5. Mano contraria a la derecha

6. La mitad de cien


7. Vegetal que crece en la tierra. Negación

8. Animal con concha en espiral que vive en el campo

9. Divide con tijera


10. Período de tiempo que dura 24 horas

11. Primer vocal






FICHA DE LECTURA Nº 66



OBSERVO Y CONTESTO:

1. ¿Qué materiales nos hace falta para construir el acuascopio?
2. ¿Para qué nos puede servir el acuascopio?
3. ¿Qué diámetro debe tener el tubo de plástico?
4. ¿Dónde hay que colocar el disco de plástico transparente?
5. Cuando deterioramos el ambiente, ¿qué estamos destruyendo?

TALLER DE EXPERIMENTOS



Un Ecosistema Acuático

Por ejemplo puedes visitar un río, lo más fácil! una poza de agua en donde podrás observar la vida animal y vegetal subacuática. Si visitas un río debe ser de cauce lento para que el oleaje no perturbe tu investigación, para hacerlo debes crear un **acuascopio**.


¿Cómo se hace un acuascopio?

1. Consigue un tubo de plástico para cañerías de 8 cm de diámetro, además un trozo de plástico transparente de unos 0.5 cm de espesor. Corta un círculo del tamaño de la dimensión interna del tubo.



2. Aplica un adhesivo para plástico al interior del tubo y también al borde del círculo, coloca la ventana (círculo) en posición.

3. Coloca una cinta adhesiva alrededor del exterior del tubo, dejando que sobresalga medio centímetro más allá del extremo del tubo. Pega esa parte de la cinta a la "ventana" para lograr un sello hermético.



4. En el otro extremo del tubo, en donde colocarás tus ojos, lima los bordes para darle suavidad, hazle un rebaje para acomodar la nariz ante el tubo. Ahora la parte final... arrodíllate al borde del agua e introdúcelo suavemente en ella, podrás observar la vida acuática.


El acuascopio es un ejemplo entre muchos que puedes utilizar para observar la vida que hay en algunos ecosistemas, cuando deterioramos el ambiente en que vivimos no sólo dejamos feo el lugar sino que estamos destruyendo a las especies que allí habitan.



ACUASCOPIO



FICHA DE LECTURA Nº 67



OBSERVO Y CONTESTO:

1. ¿En la plaza de qué ciudad se celebró el festejo?
2. ¿Cuál es el calendario de las corridas?
3. ¿Qué día es la corrida de rejonos?
4. ¿A qué hora torea Manuel Díaz "El Cordobés"?
5. ¿Con qué motivo se celebran los festejos?
6. ¿Alberto Durán es novillero o torero?
7. ¿Qué concurso se realizará el día 1?



FICHA DE LECTURA Nº 68


EL DIÁBOLO

Es un juego fácil de hacer, pero difícil de dominar. Empieza por su construcción. Compra dos embudos de plástico del mismo tamaño. Corta las asas y los dos tubos inferiores, dejando un trocito de unos tres milímetros. Busca un taco de madera que puedas encajar en las bocas más pequeñas y con un poco de pegamento unta la parte interior de los embudos e introduce el taco. Una

vez seco, unta con pegamento una tira de neumático y apriétalo muy fuerte. Vas a necesitar dos aros de madera del mismo diámetro que la boca ancha del embudo y de un grosor de 1,5 centímetros aproximadamente para dar un poco de consistencia a esa zona. Ajusta los aros y pégalos a su alrededor. Sólo falta darle un poco de color con pintura plástica. Con este elemento, dos palos de 50 centímetros de largo y 1,5 centímetros de diámetro y un metro de cuerda flexible de algodón puedes iniciarte como malabarista.

OBSERVO Y CONTESTO:

1. ¿Qué le tengo que cortar a los embudos?
2. ¿Con qué tengo que unir los embudos?
3. ¿Qué diámetro deben tener los aros de madera?
4. ¿Qué longitud deberán tener los palos?
5. ¿Cómo tiene que ser la cuerda? (Rodea lo correcto)
flexible – rígida – de lana – de algodón – de hilo
6. ¿Qué longitud debe tener la cuerda?





FICHA DE LECTURA Nº 69

Elaborado el martes, 20 noviembre 2007 Válido para el miércoles, 21 noviembre 2007 de 0 a 24 horas

OBSERVO Y CONTESTO:

1. ¿Cómo estará el cielo en las Canarias?
2. En Andalucía, ¿tendremos calor o frío?
3. ¿Qué temperatura habrá en la frontera con Francia?
4. ¿Qué tiempo se espera que haga en el Norte?
5. En el centro de la Península Ibérica ¿estará el día soleado o nublado?
6. ¿Qué símbolo representa la tormenta?







SIMBOLOS MAPA SIGNIFICATIVO

LEYENDA

Despejado	Nuboso	Muy Nuboso	Cubierto
Llovizna	Lluvia	Chubasco	Tormenta
Granizo	Nieve	Bruma	Niebla
Calima	Flojo	Moderado	Fuerte
Muy Fuerte	Rizada	Marejadilla	Marejada
Fuerte Marejada	Gruesa	Muy Gruesa	Arbolada
Montañosa	Mar de Fondo		
	Altura en m.		

C = Mucho calor
 c = calor
 T = Templado
 f = frío
 F = Mucho frío





FICHA DE LECTURA Nº 70

Elaborado el lunes, 25 febrero 2008 Válido para el martes, 26 febrero 2008 de 0 a 24 horas

SIMBOLOS MAPA SIGNIFICATIVO


LEYENDA

Despejado	Nuboso	Muy Nuboso	Cubierto
Llovizna	Lluvia	Chubasco	Tormenta
Granizo	Nieve	Bruma	Niebla
Calima	Flojo	Moderado	Fuerte
Muy Fuerte	Rizada	Marejadilla	Marejada
Fuerte Marejada	Gruesa	Muy Gruesa	Arbolada
Montañosa	Mar de Fondo	Altura en m.	



OBSERVO Y CONTESTO:

1. ¿Qué tiempo hará en Sevilla?
2. ¿Cómo estará el mar en el Estrecho de Gibraltar?
3. ¿En qué provincias se prevee nuboso en ciertas zonas?
4. ¿En qué provincias se prevee que el día esté despejado?
5. ¿Dónde se prevee que el cielo esté muy nuboso?





FICHA DE LECTURA Nº 71

Índice analítico

A

Abedul, árbol de las betuláceas, 58, 59.
Abeto, árbol de las coníferas, 11, 58, 67, 68, 69.
Acacia, árbol de las leguminosas, 58.
Acónito, planta de las ranunculáceas, 51, 52.
Achicoria, planta de las compuestas, 28, 29, 35.
Agave, planta de las amarilidáceas, 57.
Agrios, frutos del grupo de las rutáceas, 15, 37.
Aguate, planta exótica de frutos parecidos a peras, 45.
Albaricoque, fruta de un árbol perteneciente a las rosáceas, 42.
Alcachofa, planta de las compuestas, 28.
Alcornoque, árbol de las cupulíferas, 31, 59, 63.
Alerce, planta de las coníferas, 70.
Algarroba-o, fruto y árbol pertenecientes a las leguminosas, 45.
Algas, grupo de plantas criptógamas, 5, 6, 8, 14, 49, 72, 76, 78, 85, 86-88.
Algodón, planta de las malváceas, 40, 41.
Aliso, árbol de las betuláceas, 5, 59.
Alnus rostaniana, tipo de aliso fósil, 5.
Aloe, planta de las liliáceas, 56.
Amanita caesarea, hongo comestible, 80.
Amanita muscaria, hongo venenoso, 81.
Amanita pantherina, hongo venenoso, 81.
Amanita phalloides, hongo venenoso, 81.
Amapola, planta de las papaveráceas, 16, 67.
Angiospermas, clase de plantas con gineceo completo, 18.
Apio, planta de las umbelíferas, 34, 35.
Arboles enanos, 60.
Arnica, planta de las compuestas, 28.
Arroz, planta de las gramináceas, 27.
Avena, planta de las gramináceas, 26.
Azolla, helecho acuático, 75.

B

Bacilos, bacterias, microbios, 90.
Bacterias, microbios, 18, 72, 89, 90.
Bambú, planta de las gramináceas, 10, 22, 60.
Basilico, planta de las labiadas, 30.
Beleño, planta medicinal de las solanáceas, 51, 52.
Belladona, planta de las solanáceas, 51, 52.
Berenjena, planta de las solanáceas, 34, 35.
Betónica, planta de las labiadas, 31.
Blastófaga, avispa, 44.
Boletus edulis, hongo, 80.

C

Cabrahigo, higuera silvestre, 44.
Cacahuete, planta de las leguminosas, 67.
Cacao, planta de las esterculiáceas, 47.
Cactáceas, familia de plantas fanerógamas, 56.
Café, planta de las rubiáceas, 46, 47, 85.
Calamites, plantas fósiles, 6.
Callipteris affinis, planta fósil, 5.
Canela, planta de las caneláceas, 53.
Caña de azúcar, planta de las gramináceas, 23.
Cáñamo, planta de las moráceas, 41.
Cardo, planta de las compuestas, 28.
Cassia o sen, planta de las leguminosas, 52.
Castaño, planta de las cupulíferas, 44, 59, 75.
Catleya, planta de las orquidáceas, 19.
Caulerpa, alga, 86.
Cebada, planta de las gramináceas, 26.
Cebolla, planta de las liliáceas, 34, 35.
Cedro del Líbano, árbol de las coníferas, 63.
Centeno, planta de las gramináceas, 26.
Cereales, grupo de gramináceas alimenticias, 24, 27.
Cereus, planta de las cactáceas, 56.
Cerezo-o, fruta y árbol de las rosáceas, 15, 43.
Chaetophora, alga verde, 86.
Chaulmoogra, aceite útil para curar la lepra, que se extrae de algunas plantas exóticas, 52.
Chondrus crispus, alga, 87.


Ciclamino, planta de las primuláceas, 16.
Cladonia rangiferina, líquen, 78.
Cladoxilon scoparium, planta fósil, 6.
Col, hortaliza de la familia de las crucíferas, 34, 35.
Coliflor, hortaliza de la familia de las crucíferas, 34, 35.
Compuestas, familia de plantas fanerógamas, 28, 29.
Coníferas, familia de plantas fanerógamas, 18, 55, 58, 60, 67, 68, 69, 70, 71, 79.
Corcho, corteza del alcornoque, 54, 55.
Cornezuelo de centeno, hongo microscópico, 84, 85.
Criptógamas, plantas sin flores, óvulos ni semillas, 72, 73.
Crisantemo, planta de las compuestas, 29.
Crotoneurum commutatum, musgo, 76.
Cryptostroma corticale, hongo, 85.
Cyripedium, planta de las orquidáceas, 19.

D

Diatomeas, algas unicelulares, 88.
Diente de león, planta de las compuestas, 16.
Digital, planta medicinal de las escrofulariáceas, 50, 51.
Diónea, planta carnívora, 48.
Drosera, planta carnívora, 48.

E

Ebano, madera dura y negra que se extrae de algunas plantas de África y la India, 63.
Echinocactus, planta de las cactáceas, 56.
Endibia, planta de las compuestas, 28, 34, 35.
Esfagno, musgo, 77.
Espárrago, planta de las liliáceas, 35.
Espiego, planta de las labiadas, 31, 43, 65.
Eucalipto, árbol de las mirtáceas, 8, 71.
Euglena, alga, 88.
Evernia, líquen, 79.



OBSERVO Y CONTESTO:

Busquemos la información en el índice de los libros.

1. ¿En qué páginas nos hablan del Eucalipto?
2. ¿Cuántas clases de Amanita vienen en este índice?
3. ¿Qué es el Chaulmoogra?
4. Estoy buscando información sobre el corcho, ¿en qué páginas la encontraré?





FICHA DE LECTURA Nº 72

OBSERVO Y CONTESTO:

1. ¿Cómo se llama la colección de libros?
2. ¿A partir de qué edad podemos leer "Mi hermana Clara y el charco"?
3. ¿Qué tamaño tienen los libros?
4. ¿Qué libros ha escrito Dimiter Inkiow?
5. ¿Es conveniente leer "Un colegio redondo de cristal" a los 6 años?
6. ¿Quién es el autor de: "BASTIÁN y la palabra mágica"?



COLECCION **La Torre y la Flor**



Estos son tus libros si has cumplido los 6 años:

Sacha, el pequeño elefante
Cha-Ca-Pun

Serie "Tu aventura"

A bordo de la lanzadera espacial
El misterio de las burbujas rosas
Misterio en el hotel de las montañas




Serie "Mi hermana Clara y yo"

Mi hermana Clara y el tiburón
Mi hermana Clara y el charco
Mi hermana Clara y el Ángel de la Guarda
Mi hermana Clara y la cola del león
Mi hermana Clara y los fantasmas
Mi hermana Clara y su secreto
Mi hermana Clara y el muñeco de nieve
Mi hermana Clara y el dichoso dinero
Mi hermana Clara y la gran excursión
Mi hermana Clara y la cocina

Si has cumplido ya los 9 años puedes leer también:

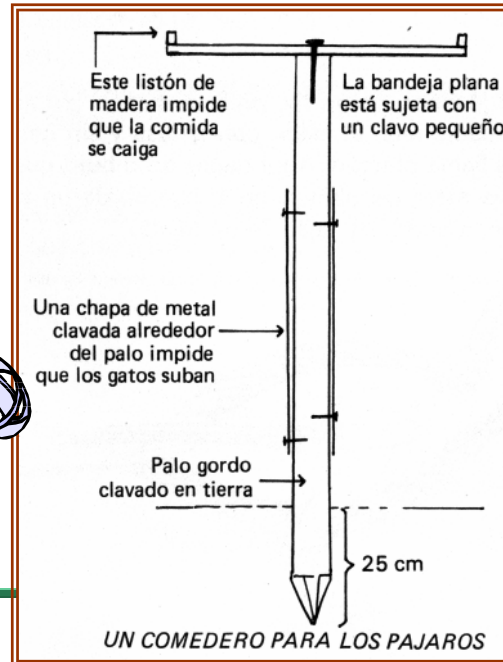
La Flauta Mágica
Bastían y la palabra mágica
La Liebre Feliz y veintiséis cuentos más
Rie y aprende con los gigantes
Un colegio redondo de cristal

Volúmenes de 11 x 17 cm profusamente ilustrados a la pluma.




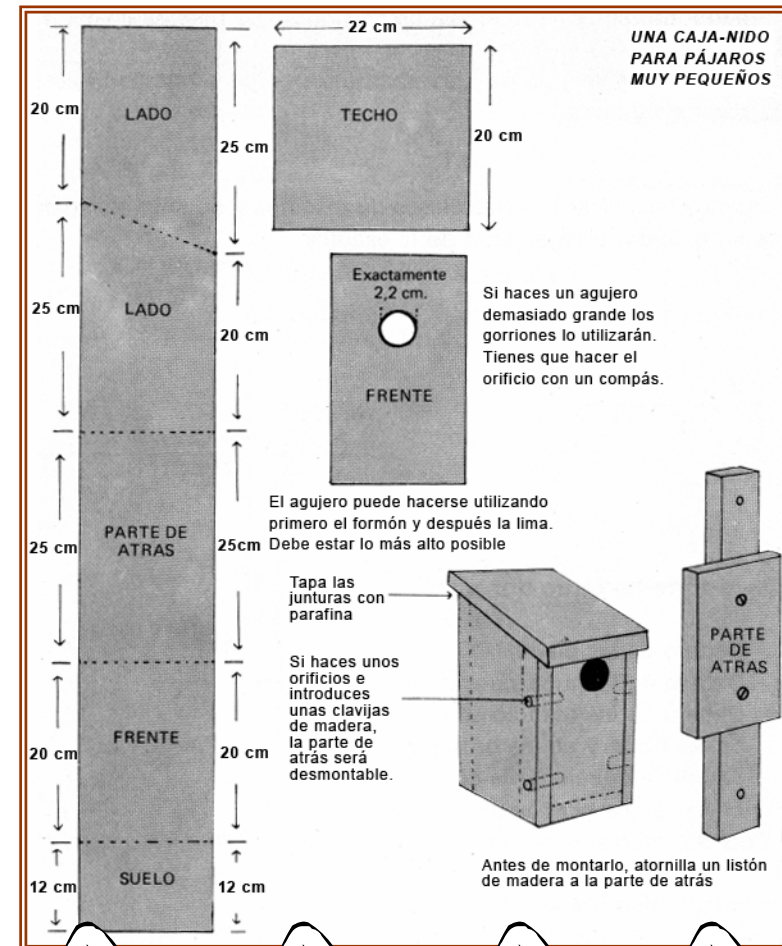


FICHA DE LECTURA Nº 73



OBSERVO Y CONTESTO:

1. Con estos dos diseños, ¿qué podemos realizar?
2. ¿Qué impide que la comida se caiga?
3. Para que no se caiga el comedero, ¿qué tendremos que hacer?
4. Para hacer el agujero de la caja-nido, ¿qué dos herramientas usaremos?
5. ¿Qué altura tiene la parte frontal de la caja-nido?
6. ¿Qué haremos para que pueda ser desmontable?





FICHA DE LECTURA Nº 74

cornisa. f. *Arq.* Coronamiento compuesto de molduras, o cuerpo voladizo con molduras, que sirve de remate a otro. || *Arq.* Parte superior del cornisamento de un pedestal, edificio o habitación. || Faja horizontal estrecha que corre al borde de un precipicio o acantilado.

cornisamento. m. *Arq.* Conjunto de molduras que coronan un edificio o un orden de arquitectura. Ordinariamente se compone de arquitrabe, friso y cornisa.

cornisamiento. m. *Arq.* **cornisamento.**

cornisón. m. **cornijón**

corniveleto, ta. adj. Dícese del toro o la vaca cuyos cuernos, por ser poco curvos, quedan altos y derechos.

cornizo. m. **cornejo.**

cornio. m. **cornejo.**

cornio² m. Nombre común a varios instrumentos músicos de la familia del oboe. || **inglés.** Oboe de mayor tamaño que el ordinario y de sonido más grave.

cornucopia. f. Cierta vaso de figura de cuerno, del que rebosan frutas y flores, con que en la antigüedad se significaba la abundancia. || Espejo de marco tallado y dorado, que suele tener en la parte inferior uno o más brazos para poner bujías cuya luz reverbera en el mismo espejo.

cornudilla. f. **pez martillo.**

cornúpeto. adj. poét. y *Numism.* Dícese del animal que está en actitud de acometer con los cuernos. || m. Animal dotado de cuernos y por antonom., el toro de lidia.

cornúpeto. m. Forma popular de **cornúpeto**, toro de lidia.

coro¹ m. Conjunto de personas reunidas para cantar, regocijarse, alabar o celebrar alguna cosa. || Conjunto de actores o actrices que, en los intervalos de los actos, explicaban con el canto su admiración, su te-

mor, su deseo u otros afectos, nacidos de lo que se había representado. Algunas veces hablaba también el coro en las mismas escenas por boca del corifeo. También hubo **coro** en las comedias, el cual daba reglas de moral acomodadas al lance representado. || Cada una de las partes de la tragedia antigua o moderna puestas en boca del conjunto de personas a que se da este mismo nombre. || Unión o conjunto de tres o cuatro voces, que son ordinariamente un primero y un segundo tiple, un contralto, un tenor y un bajo. || Conjunto de personas que en una ópera u otra función musical cantan simultáneamente una pieza concertada. || Esta misma pieza musical. || Composición poética que le sirve o puede servirle de letra. || Conjunto de personas, especialmente mujeres, que en revistas o espectáculos teatrales similares, cantan y bailan. || Conjunto de eclesiásticos, religiosos o religiosas, congregados en el templo para cantar o rezar los divinos oficios. || Rezo y canto de las horas canónicas, asistencia a ellas y tiempo que duran. || Cada una de las dos bandas, derecha e izquierda, en que se divide el **coro** para cantar alternadamente. || Paraje del templo, donde se junta el clero para cantar los oficios divinos. || Sitio o lugar de los conventos de monjas en que se reúnen para asistir a los oficios y demás prácticas devotas.

coro² m. **cauro**, viento noroeste. Es voz que solo se usa en poesía.

coro³ m. Medida de áridos entre los hebreos, que aproximadamente equivale a 6 fanegas o 33 decalitros.

coro⁴ (de). loc. adv. De memoria. Usase regularmente con los verbos *decir*, *saber* o *tomar*.

corocha¹ f. Vestidura antigua a manera de casaca, pero larga y hueca.

corocha² f. Zoo!. Gusano de color negro verdoso, de un centímetro escaso de largo, que vive sobre la vid y devora los pámpanos y los racimillos tiernos. Es la larva del escarabajuelo.

corografía. f. Descripción de un país, de una región o de una provincia.

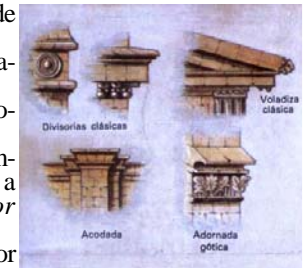
corográficamente. adv. m. Según las reglas de la corografía.

corográfico, ca. adj. Perteneciente a la corografía.

corógrafo. m. El que entiende o escribe de corografía.

coroideo, a. adj. Zoo!. Aplicase a ciertas membranas muy ricas en vasos y a lo perteneciente a ellas. *Membrana COROIDEA del ojo*; *humor COROIDEO*; *venas COROIDEAS*.

coroides. f. *Anat.* Membrana delgada, de color pardo más o menos oscuro, situada entre la esclerótica y la retina de los ojos de los vertebrados. Tiene una abertura posterior que da paso al nervio óptico, y otra más grande, en su parte anterior, cuyos bordes se continúan con unos repliegues que rodean la cara interna del iris.



OBSERVO Y CONTESTO:


1. ¿En esta página del diccionario encontramos información sobre el término **corola**?
2. ¿Cuántos significados tiene la palabra **cornisa**?
3. ¿Qué términos aparecen entre **corografía** y **coroideo**?
4. ¿Cuántas acepciones tiene la palabra **corocha**?
5. ¿Qué significa el término **corógrafo**?



FICHA DE LECTURA Nº 75

OBSERVO Y CONTESTO:

N	F	R	D	K
S	G	A	H	Ñ
X	B	P	Y	L
E	M	C	J	I
V	P	Q	W	U



3	9	2	4	9
2	5	8	6	0
8	1	3	1	4
6	3	2	5	2
4	1	8	2	6

co	sp	mb	rz	kl
tr	mñ	hd	sp	uo
fj	wd	ai	td	wd
ab	sp	rz	mb	fj
xv	ol	wd	ol	sp

1. ¿Qué letra se repite dos veces?

2. Hay un número que no se repite.
¿Cuál es?


3. Un grupo de letras está repetido
cuatro veces. ¿Cuál es?

mt	cb	pc	xñ	ad
lx	sn	xñ	uh	eg
eg	ir	ad	mt	vs
vs	pc	eo	cb	sn
td	uh	td	eo	ir

4. Hay un grupo de letras que no se
repite. ¿Cuál es?

nt	ao	bc	mn	hr
sp	hr	kh	pb	xy
mn	ue	ño	nt	jr
ls	nt	wt	sp	ao
zd	mb	uf	wt	cg

5. Un grupo de letras está repetido tres
veces. ¿Cuál es?




IN	SAL	BRU	MO	BA
FA	BA	TI	PLA	FA
ER	TRI	SU	TI	BRU
TRI	BRA	MO	ER	SAL
BRA	SU	TRI	BRA	IN

6. Una sílaba aparece una sola vez.
¿Cuál es?



FICHA DE LECTURA

Nº 76



TRENES

AVE

► Sevilla-Córdoba-Madrid

Salida de Córdoba	Llegada a Madrid	Circulación
07.29	09.15	Lunes a viernes
06.58	08.50	Lunes a viernes
08.03	09.55	Diario
08.58	10.45	Lunes a sábados
09.29	11.15	Diario
10.28	12.20	Lunes a sábados
11.29	13.15	Diario
12.29	14.15	Diario
13.28	15.20	Diario
15.29	17.15	Diario, excepto sábados
16.29	18.15	Diario
17.00	18.50	Diario (destino Barcelona)
17.29	19.15	Viernes y domingos
18.29	20.15	Diario
19.29	21.15	Diario, excepto sábados
20.29	22.15	Diario
21.29	23.15	Diario
22.28	00.20	Diario

► Madrid-Córdoba-Sevilla

Salida de Córdoba	Llegada a Sevilla	Circulación
08.44	09.30	Lunes a viernes
09.44	10.30	Lunes a viernes
10.14	11.00	Lunes a sábados
10.52	11.35	Diario
11.44	12.30	Lunes a sábados
12.44	13.30	Diario
13.44	14.30	Diario
14.52	15.35	Diario
15.44	16.30	Diario
17.44	18.30	Diario
18.52	19.35	Diario
19.44	20.30	Diario
20.52	21.35	Diario, excepto sábados
21.14	22.00	Diario
22.44	23.30	Diario
23.52	00.35	Diario

► Madrid-Córdoba-Pte. Genil-Málaga

Salida de Córdoba	Salida de Puente Genil	Llegada a Málaga	Circulación
08.25	08.49	09.30	Lunes a viernes
11.27		12.23	Diario
12.19		13.15	Lunes a sábados
14.27	14.49	15.30	Diario
16.19		17.15	Diario
18.19		19.15	Diario
19.27		20.23	Diario, excepto sábados
23.27	23.49	00.30	Diario

► Málaga-Pte. Genil-Córdoba-Madrid

Salida de Puente Genil	Salida de Córdoba	Llegada a Madrid	Circulación
07.14	07.39	09.32	Lunes a viernes
	08.56	10.40	Lunes a viernes
	09.56	11.47	Diario
	11.56	13.40	Diario
	12.56	14.40	Diario
	14.56	16.40	Diario
15.39	16.04	17.55	Diario
17.39	18.04	19.48	Diario (destino Barcelona)
	20.02	21.45	Viernes y domingos
21.38	22.04	23.55	Diario

ALTARIA

► Córdoba-Madrid

Salida de Córdoba	Llegada a Madrid	Circulación
09.09	11.21	Miércoles a sábados
10.02	12.10	Diario
10.34	12.47	Diario
11.44	13.57	Diario
18.34	20.50	Diario
20.31	22.48	Diario

► Córdoba-Sevilla

Salida de Córdoba	Llegada a Sevilla	Circulación
12.09	13.18	Diario
18.25	19.34	Diario

Aviso: El horario de los trenes puede cambiar sin previo aviso al periódico. Para más información pueden buscar en la página web de Renfe: WWW.RENFE.ES.

Teléfono de información y reservas de Renfe: **902 24.02.02.**

LANZADERAS AVE

► Córdoba-Sevilla

Salida de Córdoba	Llegada a Sevilla	Circulación
06.50	07.35	Lunes a viernes
08.00	08.45	Lunes a viernes
10.20	11.05	Diario
12.55	13.40	Lunes a viernes
15.40	16.25	Diario
17.25	18.10	Lunes a viernes
19.20	20.05	Diario
21.25	22.10	Diario

► Sevilla-Córdoba-Pte. Genil-Málaga

Salida de Córdoba	Salida de Puente Genil	Llegada a Málaga	Circulación
07.40	08.03	08.45	Lunes a viernes
08.50	09.13	09.55	Lunes a viernes
10.10	10.33	11.15	Sábados y domingos
13.20	13.43	14.25	Diario
16.30	16.53	17.35	Diario
18.45	19.08	19.50	Lunes a viernes
20.25	20.48	21.30	Diario

► Sevilla-Córdoba

Salida de Sevilla	Llegada a Córdoba	Circulación
06.50	07.35	Lunes a viernes
08.00	08.45	Lunes a viernes
09.25	10.10	Diario
12.30	13.15	Lunes a viernes
15.35	16.20	Diario
17.35	18.20	Lunes a viernes
19.35	20.20	Diario
21.35	22.20	Diario

► Málaga-Pte. Genil-Córdoba-Sevilla

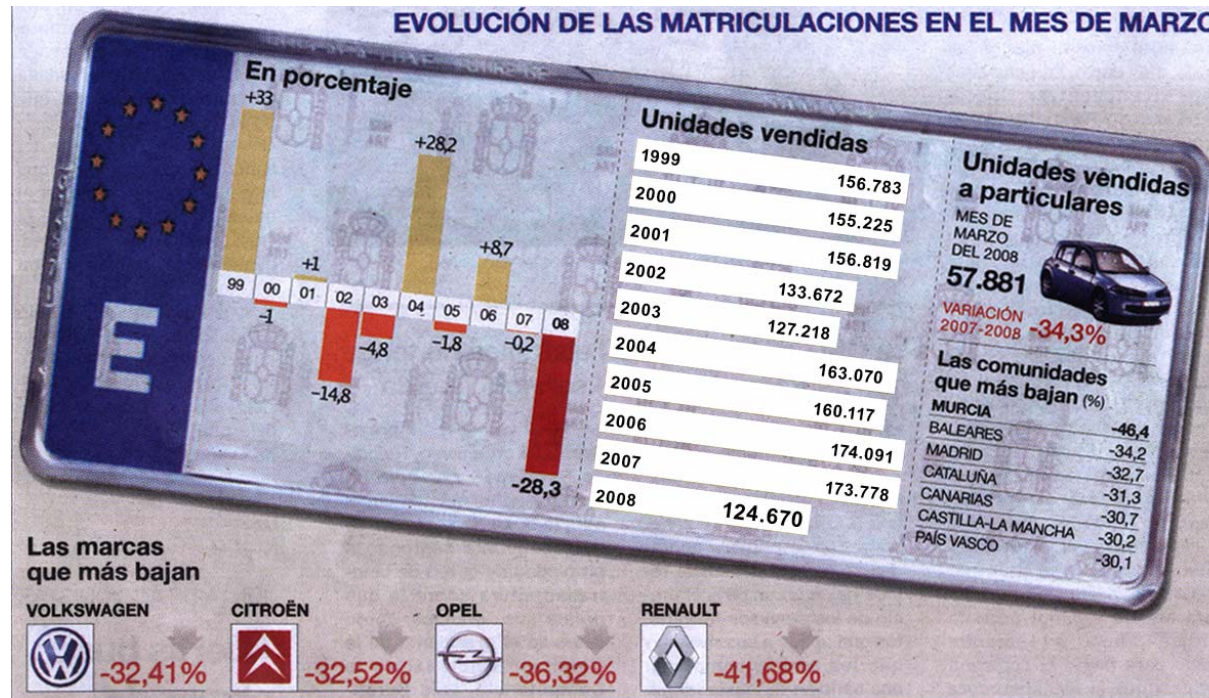
Salida de Puente Genil	Salida de Córdoba	Llegada a Sevilla	Circulación
	06.50	07.35	Lunes a viernes
07.25	07.55	08.40	Lunes a viernes
	07.55	08.40	Sábados y domingos
09.50	10.20	11.05	Diario
	12.55	13.40	Lunes a viernes
15.10	15.40	16.25	Diario
16.55	17.25	18.10	Lunes a viernes
18.50	19.20	20.05	Diario
20.55	21.25	22.10	Diario

OBSERVO Y CONTESTO:

1. ¿A qué hora sale el último tren que hace el recorrido Córdoba-Madrid?
2. ¿Si un domingo quiero ir de Córdoba a Madrid, podré coger el AVE que llega a su destino a las 12,20 h.?
3. ¿A qué hora llega a Málaga la lanzadera del AVE que sale de Córdoba a las 16,30 h.?



FICHA DE LECTURA Nº 77



El desplome de las ventas de coches llega al 28% en marzo


- Murcia, Baleares, Madrid y Cataluña, registran caídas superiores al 30%
- El concesionario tarda ahora una media de 80 días en vender un turismo

Las previsiones más pesimistas respecto a las ventas de coches en marzo se han quedado cortas. Los casi 125.000 vehículos matriculados durante el mes pasado suponen un descalabro del 28% respecto a marzo del 2007 -el mayor desde 1993-, lo que ha encendido las luces de alarma en el sector.

El único matiz de las cifras es el "efecto estacional" derivado del adelanto de la Semana Santa al mes de marzo. Sin embargo, la Federación de Concesionarios (Faconauto) indicó que únicamente es imputable a los tres días laborales menos un descenso del 10% que puede "explicar parcialmente, aunque no justificar" la caída vertiginosa del mercado.

Las explicaciones del secretario de Economía, David Vegara, de que el desplome es "coyuntural" no convencieron sin embargo al presidente de la Asociación de Fabricantes (Anfac), Juan Antonio Fernández Sevilla, que reclamó un nuevo plan Prever. Después de una caída del 15,3% en el primer trimestre, los importadores prevén un descenso del 6% al 8% en el 2008.

Solo seis marcas de las 30 principales se salvaron el mes pasado del desplome. Entre ellas destaca, por el volumen de unidades, Mercedes, que registró un 11% más de matriculaciones (4.864) el mes pasado y subió en 8,76% a lo largo de los tres primeros meses. Junto a ella, Nissa, Smart, BMW, Mini y Honda registran aumentos.


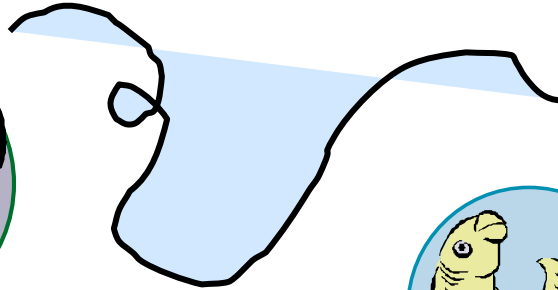


OBSERVO Y CONTESTO:

1. ¿Qué comunidades autónomas registran caídas superiores al 30%?
2. De entre las marcas que bajan, ¿cuál es la que más desciende?
3. ¿Cuántos vehículos se vendieron en el año 2005?
4. ¿Qué solución propone el presidente de la Asociación de Fabricantes?
5. ¿Qué marca destaca por las ventas realizadas?

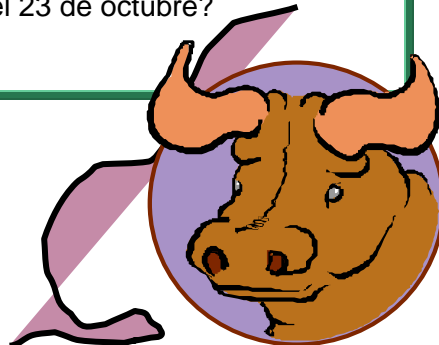


FICHA DE LECTURA Nº 78



OBSERVO Y CONTESTO:

1. Si he nacido el 12 de Diciembre, ¿a qué signo del zodiaco pertenezco?
2. ¿Quiénes son del signo Tauro?
3. ¿Quién es el autor de las previsiones del horóscopo?
4. ¿Qué símbolo termina el 23 de octubre?



Horóscopo

Aries



21/3 al 19/4

Día de calma. Aprovecha el descanso para disfrutar de la vida hogareña y acercarte a tu pareja. Alimenta el romanticismo de la relación y vuelve a despertar la pasión perdida. Cena a la luz de las velas.

Leo



23/7 al 22/8

Día de armonía y paz interior. Realizas un balance de tu vida y llegas a la conclusión de que todo marcha de acuerdo a lo planeado. Los pequeños inconvenientes adquieren su justa dimensión. Relájate y disfruta.

Sagitario



22/11 al 21/12

Encuentro amoroso largamente esperado. Concretas una cita con la persona de tus sueños. No dejes pasar esta oportunidad de demostrarle lo que sientes. Hoy todo puede suceder. La suerte te sonríe y tiene su cara.

Tauro



20/4 al 20/5

Encuentro no deseado. Vuelves a cruzarte con alguien que habías alejado de tu vida en circunstancias problemáticas. Mantén la calma y recuerda los motivos que te llevaron a decidir esa distancia. Trágame tierra.

Virgo



23/8 al 23/9

Acércate más a tus seres queridos. Las personas que te rodean tratan de llegar a ti sin conseguirlo. Dedicar una parte de tu vida a cultivar las relaciones familiares y a renovar el vínculo afectivo con aquellos que te aprecian. Tu familia espera.

Capricornio



22/12 al 19/1

Novedades en Día de arreglos domésticos. Cálculo de gastos, remodelaciones, mudanzas y pequeñas tareas domésticas se volverán tus prioridades. Aprovecha estas horas de tranquilidad para ordenar tu hogar y disfrutarlo.

Géminis



21/5 al 21/6

Ten cuidado al realizar actividades que requieran esfuerzo físico. Dolores musculares y problemas menores pueden presentarse en cualquier momento. Debes controlar tu dieta y volver a realizar ejercicios periódicamente. No corras tanto.

Libra



24/9 al 23/10

Inicias proyectos largamente desarrollados. Dejas la teoría y pasas a la práctica con la energía y la fe necesarias. Piensa que todo sacrificio tiene su recompensa. Ya podrás disfrutar de lo que siembras con tanto esfuerzo.

Acuario



20/1 al 18/2

Día de espectáculos. Cine, teatro y recitales captarán tu atención. Disfruta del arte y comparte con tus seres queridos estas manifestaciones artísticas que tanto placer te brindan. Cine y palomitas, una opción espectacular.

Cáncer



22/6 al 22/7

Conflictos de pareja. Surgen pequeños detalles que habías pasado por alto. La convivencia puede no ser como la habías imaginado. Plantea la situación con delicadeza y trata de llegar a un acuerdo que beneficie a ambas partes.

Escorpio



24/10 al 21/11

Día de gran creatividad y energía. Reanudas una obra que habías abandonado por falta de perspectivas. Esta nueva mirada te permite vislumbrar posibilidades impensadas poco tiempo atrás.

Piscis



19/2 al 20/3

Un amigo te sorprenderá con una confesión. Se revelan secretos largamente guardados. Comprendes que pocas cosas son tan importantes como una gran amistad. Es tu turno de brindar ayuda.



FICHA DE LECTURA Nº 79

RUTA MADRID, PARÍS Y AMSTERDAM 9 DÍAS

1. MADRID

Llegada al aeropuerto de Madrid y traslado al hotel Praga o Velada 4*. Alojamiento. Por la tarde completa visita panorámica de la ciudad. Por la noche traslado al área de la Plaza Mayor una de las zonas de mejor ambiente. Podrá disfrutar en los mesones del Viejo Madrid. Regreso al hotel.

2. MADRID-TOLEDO-MADRID

Desayuno. Por la mañana haremos una excursión a la histórica ciudad de TOLEDO, protegida por el río Tajo. Sus calles medievales nos hablan de historias de cristianos, judíos y musulmanes. Tarde libre. Por la noche disfrutaremos de un tablao flamenco.

3. MADRID-SAN SEBASTIÁN-BURDEOS

Desayuno. Saldremos desde Madrid para recorrer Castilla y el País Vasco. En SAN SEBASTIÁN tendremos tiempo libre para pasear por la playa de la Concha y tomar algún vino en su casco viejo. Continuaremos a Francia, para llegar a BURDEOS. Alojamiento en el hotel Mercure Meriadec, 3*.

4. BURDEOS-CHAMBORD-PARÍS

Desayuno. Tierras de vinos y coñac nos llevan a la región del Loira. Pararemos en CHAMBORD, para apreciar el más espectacular castillo del Valle del Loira. Continuaremos hacia PARÍS. Alojamiento en el hotel Novotel o Adagio City, 3*.

5. PARÍS

Desayuno. Traslado a VERSALLES, con tiempo libre para visitar su inmenso palacio y sus hermosos jardines. Regreso a París y visita panorámica de la ciudad para apreciar la esencia de esta monumental ciudad. Resto del día libre. Por la noche traslado al barrio bohemio de Montmartre, para recorrerlo y pasar momentos agradables. Regreso al hotel.

6. PARÍS

Desayuno. Día libre para que siga disfrutando de la ciudad. Podrá visitar el Museo del Louvre, subir a la Torre Eiffel y dar un paseo en barco por el río Sena. Por la noche podrá presenciar alguno de los espectaculares shows que la ciudad ofrece, como el Lido o Moulin Rouge.

7. PARÍS-BRUJAS-PURMEREND

Desayuno. Saldremos hacia Calais para cruzar en ferry el Canal de la Mancha y llegar a Bélgica. Conoceremos BRUJAS encantadora ciudad medieval, flamenca y romántica. Continuaremos hacia Holanda para llegar al pintoresco pueblo de VOLENDAM, en las proximidades de Amsterdam. Alojamiento en el hotel Golf, 3*.

8. AMSTERDAM

Desayuno. Visita panorámica de la ciudad de Ámsterdam, para apreciar los edificios que rodean a sus estrechos canales, la plaza del Dam, el Palacio Real, su activo "barrio rojo". Por último se verá la técnica utilizada en la talla de diamantes, una actividad ancestral en la ciudad. Tarde libre.

9. AMSTERDAM

Desayuno. Tiempo libre. Fin de viaje.



OBSERVO Y CONTESTO:

1. ¿Cuántos días dura el viaje?
2. ¿En qué ciudad comienza el tour?
3. ¿Cuánto cuesta el viaje por persona?
4. ¿El viaje incluye la visita al castillo del Valle del Loira?
5. ¿Cuánto pagaremos por las comidas?
6. ¿En qué ciudad veremos la técnica de la talla de diamantes?

EL VIAJE INCLUYE

Alojamiento en hoteles de turista superior y primera estándar.
Impuestos de alojamiento.
Desayuno diariamente.
Traslado aeropuerto/hotel, al inicio del tour.
Recorrido en autobús de turismo, según itinerario.
Guía acompañante.
Visitas panorámicas según se detallan.
Traslado diurno a Versalles y nocturnos en Madrid y París.
Manejo de 1 maleta por persona.
Seguro básico y pequeña bolsa de viaje.

PRECIOS POR PERSONA

Habitación doble, temporada media	1.130 €
Habitación doble, temporada alta	1.175 €
Suplemento 9 comidas	607 €
Descuento tercera persona 15% en habitación triple.	
Descuento 1 menor de 3 a 8 años en plan familiar: 50 %	
Descuento 1 menor de 9 a 15 años en plan familiar: 25 %	



FICHA DE LECTURA Nº 80

MONOPOLY

BREVE DESCRIPCIÓN DEL JUEGO

La idea del juego es comprar, alquilar o vender Propiedades, para obtener grandes beneficios, de forma que uno de los jugadores llegue a ser el más rico y, por consiguiente, el ganador. Partiendo de la casilla de “SALIDA”, mueve tu peón alrededor del tablero según la puntuación que obtengas en los dados. Cuando caigas sobre una Propiedad que nadie posea todavía, puedes comprársela a la Banca.

Si decides no comprarla, la Banca la vende en subasta al mejor postor. Los jugadores que tienen Propiedades cobran un alquiler a los demás jugadores que caen en ellas. Edificar Casas y Hoteles aumenta considerablemente el alquiler que debe pagarse, por lo que es muy conveniente construir sobre el mayor número de Solares.

Si necesitas ganar más dinero, la Banca puede darte una hipoteca sobre tus Propiedades. Debes seguir siempre las instrucciones que te den las cartas de Caja de Comunidad y de Suerte. A veces te mandarán a la cárcel.

REGLAS DEL JUEGO

PREPARACIÓN

1. Coloca las Casas, Hoteles, Títulos de Propiedad y el dinero (ordenado según su valor) en los espacios separados en la bandeja del juego.

2. Separa las cartas de Caja de Comunidad y de Suerte, barájalas y ponlas boca abajo sobre el correspondiente lugar del tablero.

3. Cada jugador elige un peón para jugar y lo sitúa en la casilla de “SALIDA”.

4. El Banquero y la Banca

Se elige a un jugador para que sea Banquero. Si existen más de cinco jugadores, el Banquero puede decidir dedicarse sólo a llevar la Banca. El Banquero da a cada jugador 1.500 € repartidos de la siguiente manera:

2 billetes de 500€	4 billetes de 100€	1 billete de 50€
1 billete de 20€	2 billetes de 10€	1 billete de 5€
5 billetes de 1€		

5. Los jugadores tiran los dos dados. El jugador con la puntuación más alta es el primero y el turno pasa al de la izquierda.

EL JUEGO

Cuando sea tu turno, tira los dos dados y avanza alrededor del tablero en la dirección de la flecha. La casilla sobre la que caigas determinará lo que debes hacer. Más de un peón puede estar a la vez sobre la misma casilla. Puedes hacer una de las siguientes cosas dependiendo de la casilla sobre la que hayas caído:

- Comprar Solares u otras Propiedades
- Pagar alquileres por haber caído en la Propiedad de otro jugador
- Pagar impuestos
- Coger una Carta de Suerte o Caja de Comunidad
- Ir a la Cárcel
- Aparcar gratuitamente
- Cobrar 200€
- Estar en la cárcel de visita



OBSERVO Y CONTESTO:

1. ¿Cuál es la idea del juego?
2. ¿A quién se le compran las Propiedades?
3. ¿Cuánto dinero reparte el Banquero a cada jugador?
4. ¿Cuántos dados hay?
5. ¿Tendrás que pagar impuestos si caes en una determinada casilla?



FICHA DE LECTURA Nº 81

Datos del ejemplar

Signatura: 82-33 - PUN - isl
Ejemplar: 002119A
ISBN: 84-372-1936-1
Título: La isla de la Bruma
Autor: Puncel, María
Editorial: Altea
Ciudad Pub.: Madrid
Año Pub.: 1986
Tipo ejemplar: NORMAL
Ubicación:

Argumento:


Una isla, la de la Bruma, aparece y desaparece en medio del mar... El feroz pirata Duratesta y su tripulación capturan un misterioso barco donde viajan siete enanos deformes y un mago. A cambio de la vida y la embarcación, el mago ofrece a Duratesta un seguro escondite para él y su tesoro: la isla de la Bruma, donde abundan los escondrijos, el alimento y el agua. Los piratas esconden el tesoro en una profunda caverna de la isla, y tras unas horas, cuando bajan a gozar de la vista de sus tesoros, se encuentran con que éstos han desaparecido bajo el mar; la isla navega a la deriva y será la eterna nave en la que los piratas navegarán por los mares; nunca más podrán atacar a los pacíficos barcos mercantes que surcan los mares.

Otros títulos del autor:

Altea Benjamín Lecturas
15 El cuadrado y sus cosas.
16 El círculo y sus cosas.
17 El rectángulo y sus cosas.
18 El triángulo y sus cosas.


OBSERVO Y CONTESTO:

1. ¿Qué signatura tiene el libro?
2. ¿Cuál es el título?
3. ¿Quién es su autor?
4. ¿Qué editorial lo ha editado?
5. Escribe el título de otros dos libros de la misma autora.
6. Cita los personajes que aparecen en la obra.





FICHA DE LECTURA Nº 82



La trampa del sur

La odisea de cruzar media Europa en busca de las zonas cálidas del sur la viven las aves migratorias, todos los años con los primeros fríos del invierno. Millones de avejillas menudas bajan por la península para encontrar alimentos y temperaturas más suaves. Millones de avejillas que encuentran la muerte en las redes y trampas puestas en las cercanías de los arroyos, a donde acuden a beber.

En esta época del año, la alimentación de las aves insectívoras se complementa con las semillas de los matorrales, debido a la escasez de mosquitos e insectos, propios de la temporada veraniega. Pero hasta esta acción tan simple de comerse las semillas de los matorrales se convierte en un elemento fundamental para conservación de la naturaleza: se dispersan las semillas y crece nueva vegetación en lugares donde la desertización por falta de raíces que retengan el manto fértil de la tierra avanza inexorablemente.

El sur, que es para las aves migratorias una fuente de calor y vida, se convierte así en la trampa mortal. Lo mismo sucede en otros "sures", donde también se les abate a millones: Italia, Chipre y España levantan una barrera muchas veces infranqueable en su lucha por la vida.

José F. Bejarano

OBSERVO Y CONTESTO:

1. ¿Cuál es el título de este artículo?
2. ¿Quién es el autor del artículo?
3. ¿El autor está a favor o en contra de que se maten los pajaritos?
4. ¿En qué época del año bajan las aves al sur?
5. ¿Para qué emigran las aves a nuestras tierras?



FICHA DE LECTURA Nº 83 EL PAÍS, martes, 29 de julio de 1986

La crecida del Segura provoca la prohibición del baño y cortes de agua en pueblos de Alicante

JOAQUIN GENIS. Alicante
El aumento del caudal del río Segura ha obligado al Ayuntamiento de Guardamar del Segura a prohibir el baño en unos 12 kilómetros de sus playas, en previsión de los posibles riesgos por

contaminación. En Murcia, el presidente de la comunidad autónoma, Carlos Collado, ha asegurado que la cifra de 3.000 millones de pesetas en pérdidas de la agricultura es muy baja, y la Consejería de Agricultura de la Generalitat va-

lenciana valoró ayer en 2.500 millones de pesetas los daños registrados en Alicante y Valencia. Guardamar y otras poblaciones de la Vega Baja sufrían ayer cortes en el suministro de agua potable.

El río arrastra barro, troncos de árboles, cañas y materias orgánicas. Para el alcalde de Guardamar, el socialista Manuel Aldeguer, "es inaplazable una mayor vigilancia en el cauce del río, que evite el vertido de residuos sólidos y orgánicos". Aldeguer señaló la necesidad de que se ponga en marcha el plan de descontaminación y recuperación integral del Segura elaborado por la Consejería de Obras Públicas. "A la vez", dijo, "se ha de evitar a todo costa el vertido incontrolado en el cauce del río y la puesta en marcha de talas periódicas de cañas y matorrales en todo su cauce.

Actualmente, unas 500.000 personas veranean en Guardamar y las urbanizaciones de sus playas. Tendrán que renunciar por unos días al baño precisamente en una zona donde todavía se puede hablar de playas casi vírgenes. "Si la marea negra [el término lo utilizaba el alcalde guardamarino por el aspecto de

las aguas que el río aporta al mar] continúa desplazándose hacia el sur, Torre Vieja puede sufrir sus efectos cuando está en puertas el mes de agosto, el más fuerte de ocupación turística. Actualmente, unas 100.000 personas residen en Torre Vieja pasando sus vacaciones.

Daños en la agricultura

Las pérdidas ocasionadas por la riada en Murcia son difíciles de evaluar, según el presidente de la comunidad autónoma, Carlos Collado, informa. **Paloma Revorte**. Collado añadió que "la cifra de 3.000 millones de pesetas es mínima, ya que sólo en Murcia, según un informe: de los técnicos municipales, alcanza los 1.000 millones". La cifra de 3.000 millones apuntada por el delegado del Gobierno, Eduardo Ferrera, se refería sólo a los daños en la agricultura. El presidente del ejecutivo murciano pedirá a los ministros de Agricultura y Obras Públicas que

visiten las zonas afectadas. El Consejo de Gobierno se reunió ayer con los alcaldes de las 15 localidades que han sufrido mayores pérdidas tanto en la agricultura como en infraestructura. En algunos pueblos los agricultores habían comenzado a pagar ahora los créditos concedidos tras las inundaciones de 1982.

Jumilla, Yecla, Lorquí, Alguazas, Molina de Segura, Moratalla, Calasparra, Murcia, Archena, Abarán, Cieza, Ojos, Ceutí, Beniel y Ulea son los municipios que se han visto afectados en mayor medida por el desbordamiento del río y las tormentas de lluvia y granizo. En Jumilla, una persona perdió una cosecha de 160.000 kg de melocotones. En la misma localidad no sólo se ha perdido la fruta, sino que gran parte del arbolado cayó al suelo arrastrado por el agua. En Yecla, según las zonas, se ha perdido entre el 60% y el 100% de los cultivos de uva y manzana.

OBSERVO Y CONTESTO

1. ¿Qué periódico presenta esta noticia?
2. ¿Quién escribe el artículo?
3. ¿Qué río es el protagonista de la noticia?
4. ¿Qué ha obligado a prohibir el baño?
5. ¿Qué posibles riesgos existían?
6. ¿Qué Ayuntamiento tomó la decisión?
7. ¿A cuánto ascendieron los daños en agricultura?
8. ¿Qué arrastra el río?





FICHA DE LECTURA Nº 84



Como el capitán Nemo

Es de poder viajar en submarino debe ser fantástico. Navegar a 100 metros de profundidad, surcando las siempre inquietantes y misteriosas aguas de los mares y océanos, con la monótona compañía del latir del sonar, puede resultar una experiencia inolvidable. Sobre todo para un niño.

En el Museo de la Ciencia de Barcelona hay expuesto permanentemente un auténtico submarino, “un submarino de los de verdad”, como dicen los chavales al contemplarlo.

El submarino, bautizado con el nombre de *Barcelona*, fue construido en la factoría de la Empresa Nacional Bazán en Cartagena con carácter experimental. En noviembre de 1964 fue botado, y en 1966 realizó su única singladura: Cartagena – Barcelona. En 1979 fue dado de baja. Ahora, completamente restaurado y acondicionado para que sea posible visitarlo, permanece expuesto en el citado museo, siendo uno de sus principales atractivos.

En el *Barcelona* uno puede adentrarse, conocer las principales partes de un submarino y *jugar* con sus válvulas, el radar, el radioteléfono, el periscopio –no podía faltar el periscopio- o las escotillas.

Paralelamente a lo que los chavales puedan crear en sus febriles imaginaciones, como antaño hiciera el genial Verne, una exposición sobre la navegación submarina les explica detalladamente los principios científicos de este tipo de navegación.

El submarino no se sumergirá nunca más. Pero seguro que los chavales que van a visitarlo viven entre ellos historias tan alucinantes como las del capitán Nemo. ■

OBSERVO Y CONTESTO:

1. ¿Dónde está expuesto el submarino?
2. ¿Qué nombre tiene?
3. ¿Dónde fue construido?
4. ¿En qué año se construyó?
5. ¿Cuál fue su único viaje?
6. Escribe aparatos que tiene el submarino.





FICHA DE LECTURA Nº 85

AUTOBUSES Teléfono de información: 957 40 40 40

Horarios de salida a localidades de la provincia desde la estación de autobuses de Córdoba.
Las empresas de autobuses pueden cambiar estos horarios sin previo aviso al periódico.

AUTO TRANSPORTES LÓPEZ Y LISETUR

Teléfono: 957.76.70.77.

Alcaracejos	11.25, 14.30 (16.30, 19.30, viernes escolar)
Sábados	11.25, 16.30
Festivos	14.15, 20.00
Belalcázar	07.00, 11.25, 14.30 16.30 (viernes escolar), 19.30
Sábados	11.25, 16.30
Festivos	14.15, 20.00
Belmez	07.00, 10.00, 12.00, 12.55, 14.45 16.30, 18.55, 19.55
Sábados	10.00, 14.45, 19.55
Festivos	10.00, 14.45, 19.55
Cerro Muriano	07.00, 11.25, 12.55, 14.30, 19.55
Sábados	11.25, 16.30, 19.55
Festivos	20.00
Cruce Villaharta	07.00, 10.00, 11.25, 12.00 12.55, 14.30, 14.45, 16.30, 18.55, 19.30, 19.55
Sábados	10.00, 11.25, 14.45, 19.55
Festivos	10.00, 14.15, 14.45, 19.55, 20.00
El Vacar	07.00, 10.00, 11.25, 12.00, 12.55 14.45, 16.30, 18.55, 19.30, 19.55
Sábados	10.00, 11.25, 14.45, 16.30, 19.55
Festivos	10.00, 14.15, 14.45, 19.55, 20.00
Espiel	07.00, 10.00, 12.00, 12.55, 14.45 16.30, 18.55, 19.55
Sábados	10.00, 14.45, 19.55
Festivos	10.00, 14.45, 19.55
Est. Obejo	07.00, 11.25, 12.55, 14.30, 19.55
Sábados	11.25, 16.30, 19.55
Festivos	14.15, 19.55
Fuente La Lancha	11.25, 14.30 16.30 (viernes escolar), 19.30
Sábados	11.25, 16.30
Festivos	14.15, 20.00
Fuente Obejuna	10.00, 12.00, 14.45 16.30 (viernes escolar), 18.55
Sábados	10.00, 14.45
Festivos	10.00, 14.45
Hinojosa	07.00, 11.25, 14.30 16.30 (viernes escolar), 19.30
Sábados	11.25, 16.30
Festivos	14.15, 20.00
La Granjuela	12.00, 16.30
Los Blázquez	12.00, 16.30
Peñarroya-Pueblonuevo	07.00, 10.00, 12.00 12.55, 14.45, 16.30, 18.55, 19.55
Sábados	10.00, 14.45, 19.55
Festivos	10.00, 14.45, 19.55
Valsequillo	12.00, 16.30
Villanueva del Duque	11.25, 14.30 (16.30, viernes escolar), 19.30
Sábados	11.25, 16.30
Festivos	14.15, 20.00
Villanueva del Rey	07.00, 10.00, 12.00, 12.55 14.45, 16.30, 18.55, 19.55
Sábados	10.00, 14.45, 19.55
Festivos	10.00, 14.45, 19.55

LINESUR

Teléfono: 957.27.81.00. y 957.42.15.85

Adamuz	12.00, 13.30, 15.30, 18.00, 20.00
Sábados	13.30, 18.00, 20.00
Festivos	17.30, 20.00
Alcaracejos	06.15, 10.30, 13.00, 15.30 17.00, 18.30, 20.00
Sábados	06.15, 10.30, 13.00, 17.00, 20.00
Festivos	06.15, 10.30, 13.00, 20.00
Algallarín	13.30, 18.00
Añora	13.00, 17.00
Sábados	13.00, 17.00
Festivos	13.00, 20.00
Cerro Muriano	10.30, 13.30, 19.00
Sábados	10.30, 14.00
Festivos	10.30
Conquista	17.00
Dos Torres	13.00, 17.00
Sábados	13.00, 17.00
Festivos	13.00
El Vacar	10.30, 13.30, 19.00
Sábados	10.30, 14.00
Festivos	10.30
El Viso	13.00, 17.00
Sábados	13.00, 17.00
Festivos	13.00
Est. Obejo	10.30, 13.30, 19.00
Sábados	10.30, 14.00
Festivos	06.15, 10.30, 13.00, 20.00
Hosp. Comarcal Pedroches	06.15, 13.00, 20.00
Pozoblanco	06.15, 10.30, 13.00, 15.30 17.00, 18.30, 20.00
Sábados	06.15, 10.30, 13.00, 17.00, 20.00
Festivos	06.15, 10.30, 13.00, 20.00
Santa Eufemia	13.00, 17.00
Sábados	13.00, 17.00
Festivos	13.00
Villaharta	17.00
Sábados	17.00
Festivos	20.00
Villanueva de Córdoba	10.30, 13.00, 15.30 17.00, 18.30, 20.00
Sábados	10.30, 13.00, 17.00, 20.00
Festivos	10.30, 13.00, 20.00


Teléfonos: 957.40.44.79 y 957.40.03.94

Villafraanca	12.00, 13.30, 15.30, 18.00, 20.00
Sábados	13.30, 18.00, 20.00
Festivos	17.30, 20.00
Villaviciosa	13.30, 19.00
Sábados	14.00

TRANSPORTES UREÑA

Teléfono: 957.40.45.58

Bujalance	07.30, 10.00, 12.00, 13.30 15.30, 17.15, 19.00, 20.00
Sábados	07.30, 10.00, 13.00, 17.15, 20.00
Festivos	10.00, 14.00, 19.15
Cañete	07.30, 10.00, 12.00, 13.30, 15.30 17.15, 19.00, 20.00
Sábados	07.30, 10.00, 13.00, 17.15, 20.00
Festivos	10.00, 14.00, 19.15
Maruanas	07.30, 10.00, 12.00, 13.30 15.30, 17.15, 19.00, 20.00
Sábados	07.30, 10.00, 13.00, 17.15, 20.00
Festivos	10.00, 14.00, 19.15
Valenzuela	17.15
Sábados	13.00



OBSERVO Y CONTESTO:

1. ¿A qué estación de autobuses corresponden estos horarios?
2. Si quiero ir a Dos Torres, ¿qué empresa de transportes usaré?
3. ¿Cuál es el teléfono de información de Transportes Ureña?
4. ¿Qué horarios de salida tiene el autobús que hace el recorrido Córdoba – Hinojosa los días festivos?





FICHA DE LECTURA Nº 86

OBSERVO Y CONTESTO:

1. ¿A qué pueblo se refiere esta breve monografía?
2. Surge como la unión ¿de qué dos municipios?
3. La ermita de San Sebastián, ¿de qué siglo es?
4. Los artísticos dinteles labrados, ¿a qué edificios pertenecen?
5. ¿Cuáles son los postres típicos?



Perfil

Villa situada al norte de la provincia, en los Pedroches, a 585 metros de altitud. La población 2.564 habitantes. Su distancia a Córdoba es de 83 kilómetros. El término tiene 144,1 kilómetros cuadrados, y limita con los de Villaralto, El Viso, Santa Eufemia, El Guijo, Pedroche, Pozoblanco, Añora, Alcaracejos y Villanueva del Duque, y con la provincia de Ciudad Real. Gentilicio: usías.

Pincelada histórica

Con su nombre actual, Dos Torres surgió en 1839, fruto de la unión en un municipio de Torre-franca y Torremilano. La paulatina concentración de vecinos hacia finales del siglo XV en torno a Torre del Milano –fortaleza aislada hasta entonces–, dio lugar a una población en la frontera de la jurisdicción de Córdoba y el señorío de Santa Eufemia. El titular de ese señorío designó con el nombre de Torre-franca al barrio situado en su territorio, aunque no logró extender los dominios al resto de Torremilano, población realenga componente de las Siete Villas de los Pedroches, que entre 1660 y 1747 pertenecieron al Marquesado del Carpio a raíz de su venta por Felipe IV.

Piedra sobre piedra

La **parroquia de la Asunción** es de estilo gótico y se inició en la segunda mitad del siglo XV, época a la que corresponden sus tres naves, la central con artesonado mudéjar; de finales del XVI son ya tanto la cabecera, cubierta por bóveda estrellada, como las capillas góticas. En el distrito de Torre-franca pervive el edificio de la **antigua parroquia de Santiago**, de una nave, sustentada por arcos transversales de ladrillo. Abundan las **ermitas** en el perímetro urbano, casi todas del XVI; la más vistosa es la de la patrona, **Nuestra Señora de Loreto**, con bella portada del XVIII; las otras están dedicadas a **San Bartolomé**, **San Roque**, **Cristo de la Caridad** y **San Sebastián**. Algunas **casas** antiguas, de los siglos XV y XVI, conservan artísticos dinteles labrados en granito.

Mesa y diversión

A mediados de agosto dedica Dos Torres a su patrón San Roque la Feria mayor, cuyo programa incluye festejos taurinos. El Domingo de Pentecostés se festeja la Virgen de Guía –que posee también aquí una hermandad de organización paramilitar–, y el primer domingo de mayo a la patrona, la Virgen de Loreto.

Plato típico de Dos Torres son las migas *tostás*, pero no hay que olvidar su chacinería casera derivada del cerdo. Entre los postres, roscos de anís y vino, hojuelas y perrunas. El lunes de Pascua se toma el hornazo en las tradicionales excursiones campestres.



FICHA DE LECTURA Nº 87

I		D
E	1	I
L	2	P
S	3	T
C	4	LL
H	5	G
U	6	X
Y	7	B
Ñ	8	Z
CH	9	Q
R	10	D
O	11	N
I	12	V
A	13	M
K	14	F

OBSERVO Y CONTESTO:

- Sigue la correspondencia de letras que tienes en el recuadro y podrás descubrir la frase oculta.
- Cada letra está indicada por un número, columna central, y una letra D (derecha), I (izquierda).

(1, I) (2, I) (1, I) (13, D) (1, I) (11, D) (3, D) (13, I) (2, I)

i _____

(13, D) (1, D)

(9, D) (6, I) (1, I) (10, I) (1, D) (10, D) (11, I)

(1, I) (6, I) (3, I) (3, D) (13, I) (9, D) (6, I) (1, D) (11, I)

_____!

Descifra la frase

Frase: _____



FICHA DE LECTURA

Nº 88



TRADICIONES

Texto: Enrique Calduch (1.986)

Fotos : Renzo Palanca

El *trikitixa* es como llaman los vascos a un pequeño acordeón que, junto con alguna pandereta, ha servido y sirve para hacer música popular en las fiestas y en los bailes de los pueblos. La tradición de hacer este tipo de música se estaba perdiendo, pero desde hace poco tiempo algunos expertos lo están enseñando para que no se olvide, y, curiosamente, los principales alumnos son los niños pequeños.


Kepa Junkera es ya un auténtico profesional del *trikitixa*. Estudiante en el conservatorio de música de Bilbao, se reúne habitualmente con dos amigos más y participa con su instrumento en fiestas populares, bailes, bodas y todo tipo de festejos, tocando siempre melodías tradicionales. Ahora, además, en Galdácano y Durango, en Vizcaya, da clases a niños pequeños entusiasmados por aprender canciones populares.

“El *trikitixa* realmente es un acordeón diatónico muy sencillo que se cree que trajeron a Euskadi los marineros a principio de siglo”, explica Kepa “y como sólo funciona con una fila de botones, resultaba muy fácil para aprender e interpretar canciones”.

Saber tocar este instrumento está muy considerado, y los padres de cerca de los 50 alumnos que tiene el joven maestro se entusiasmaron con la posibilidad de que sus hijos aprendieran para poder transmitir la tradición. Todas las tardes Kepa les da clases.

Oláiz Zabala tiene 11 años y es de Berliz; a ella, que es una de las mayores de la clase, le gusta tocar y aprender simplemente porque el sonido es muy bonito. Quiere ser como Kepa, que a los 14 años aprendió solo y que lleva hechas hasta ahora más de 130 actuaciones. “Para ellos aprender es como jugar”, comenta el joven profesor. “Es como si fueran a practicar pelota o algo así. Lo llevan dentro y no piensan que están en una clase; se limitan a divertirse”.

Lo que saben, porque se lo han contado, es que están recuperando un instrumento y con él unas canciones populares. Se ha pasado de que sólo lo toquen los muy mayores a que lo aprendan los niños. Lo que se consideraba un instrumento de viejos acaba de coger el relevo.



(Kepa Junkera - 2007)

OBSERVO Y CONTESTO:

1. ¿Cómo llaman los vascos a este pequeño acordeón?
2. ¿Qué tipo de música se toca con él?
3. ¿Cómo aprenden los niños las melodías?
4. ¿Cómo se llama el profesor?
5. ¿Cuántos alumnos asisten a las clases?
6. ¿Por qué le gusta tocar a Oláiz Zabala?



FICHA DE LECTURA

Nº 89



OBSERVO Y CONTESTO:

1. ¿Qué Jefatura emite esta multa?
2. ¿Cómo se llama el infractor?
3. ¿En qué fecha sucede el hecho?
4. ¿Sabrías la matrícula del coche?
5. ¿Cuál es el motivo de la multa?
6. ¿Y cuál es su importe?
7. Si la pagamos antes de 30 días, ¿cuántos € nos ahorraremos?
8. ¿El conductor ha perdido puntos en su carnet de conducir?

ASUNTO:

Petición de datos al titular para identificación del conductor.

INFORMACIÓN:

LA MULTA PUEDE ABONARLA POR UNO DE LOS SIGUIENTES MEDIOS:

- a) En cualquier oficina bancaria de la entidad legalmente autorizada, actualmente SCH, presentando esta notificación.
- b) Enviando GIRO POSTAL a esta jefatura, anotando en el epígrafe 'TEXTO' del Talón para destinatario el NÚMERO DE EXPEDIENTE y la FECHA DE LA DENUNCIA arriba indicados.

	MINISTERIO DEL INTERIOR
	Jefatura Provincial de Tráfico de CÁCERES
Carretera de Porzuna, 7 CÁCERES	

1.FECHA	HORA	NÚMERO EXPEDIENTE
23/02/2008	18:30	12-005-235.180-3

2. PRECEPTO INFRINGIDO		
Artículo 48	REGLAMENTO GENERAL DE CIRCULACION	Importe total multa 100 EUROS
3. LUGAR Vía N-625 P. Klm.:144.8 sentido: TOLETO		Pendiente de pago 100 EUROS

4. HECHO QUE SE NOTIFICA

CIRCULAR A 121 KM/H, TENIENDO LIMITADA LA VELOCIDAD A 100 KM/H. EXISTE UNA LIMITACION GENERICA EN VIA INTERURBANA. CINEMOMETRO LASERCAM NT 308 ANTENA B62421G. APROBADO EL 14/01/2002. PARA EL CALCULO DE EXCESOS DE VELOCIDAD Y SANCION APLICABLE, SE HAN TENIDO EN CUENTA LOS MARGENES DE ERROR ESTIPULADOS EN LA NORMA UNE 26444. NO SE PUDO PARAR POR SEGURIDAD VIAL.

5. DATOS VEHICULO

Matrícula....: 3146CHB
Clase.....: TURISMO
Marca.....: CITROEN
Modelo.....: C4

6. DATOS DEL INTERESADO

N313000005142800000
ANDRÉS GARCÍA ALCOY
RONDA ALTA, 25
PLASENCIA (CÁCERES)

Su vehículo ha sido objeto de denuncia por parte de un Agente encargado del servicio de vigilancia del tráfico, por los hechos detallados en la parte superior de este escrito, que suponen infracción grave a lo dispuesto en la Ley sobre Tráfico, Circulación de Vehículos a Motor y Seguridad Vial (art. 65.4 LSV). El conductor no pudo ser identificado en el momento de la infracción por razones justificadas que se hicieron constar en el boletín de denuncia (art. 77 LSV). Como titular del vehículo **tiene usted la obligación de identificar al conductor que en ese momento cometió la infracción** (art. 72.3 LSV). Para la identificación puede utilizar este mismo impreso, en los términos abajo señalados, remitiéndolo en el plazo de diez días, a contar a partir del día siguiente al de la recepción de esta comunicación, a la siguiente dirección: Jefatura Provincial de Tráfico de CÁCERES, Carretera de Porzuna, 7 CÁCERES.

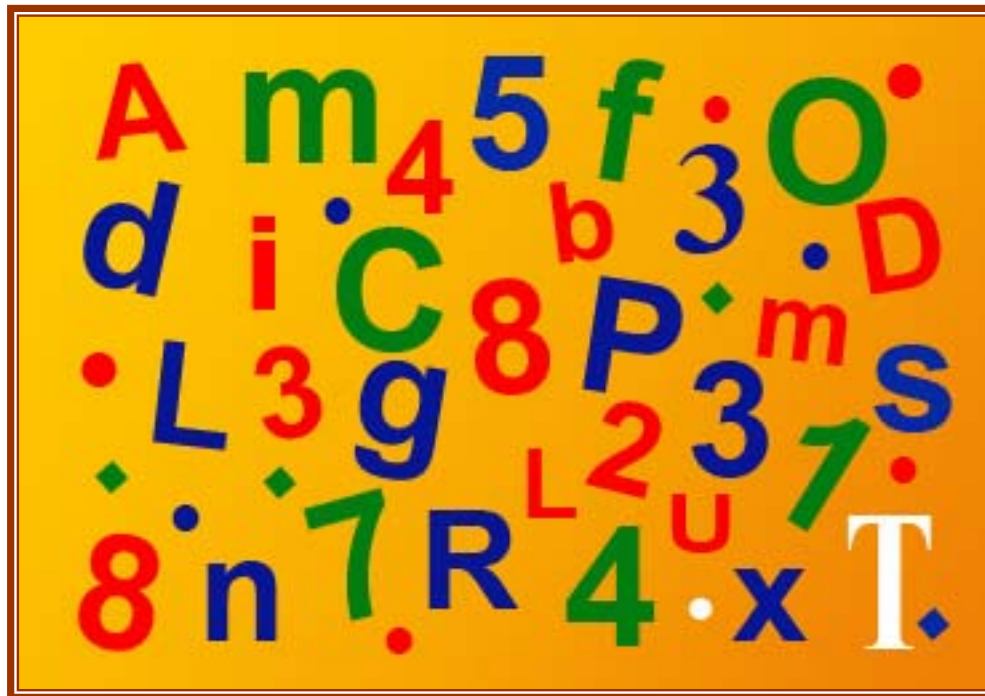
Los hechos denunciados constituyen una infracción grave a lo dispuesto en la mencionada Ley, y la sanción que procede imponer por el Órgano sancionador competente (2) es la MULTA señalada en la parte superior de esta notificación. Esta infracción **no lleva consigo ni pérdida de puntos ni suspensión** del permiso o licencia de conducción.

Si se efectúa el pago de la multa en el plazo de 30 días naturales a contar desde el día siguiente a la recepción de la presente notificación tendrá una reducción del 30% sobre el importe señalado, siendo la cantidad a abonar con tal reducción de 70 euros, dándose por terminado el presente procedimiento. (3)



FICHA DE LECTURA Nº 90

Atención y habilidad visual



OBSERVO Y CONTESTO:

Lee atentamente las preguntas del juego y
realízalas.


Controla el tiempo que tardas.

1. Falta una de las cinco vocales. ¿Cuál es?
2. ¿Qué número se encuentra tres veces?
3. Tres letras están dos veces. ¿Cuáles son?
4. Dos números están dos veces. ¿Cuáles son?

Tiempo: _____ Aciertos: _____




FICHA DE LECTURA Nº 91



OBSERVO Y CONTESTO:

1. Averigua lo que pone en la portada del cómic y escríbelo correctamente.






FICHA DE LECTURA Nº 92

Sinónimos – antónimos

SINÓNIMOS: Extender – Reciente – Acceso – Prudente – Molesto – Cercano
Quietud – Flojo – Encarcelado – Listo.

ANTÓNIMOS: Enrollar – Lejano – Viejo – Libre – Intranquilidad – Fuerte
Agradable – Necio – Salida – Insensato.



A	B	C
1. Calma		
2. Débil		
3. Preso		
4. Inteligente		
5. Próximo		
6. Entrada		
7. Insoportable		
8. Sensato		
9. Desplegar		
10. Nuevo		

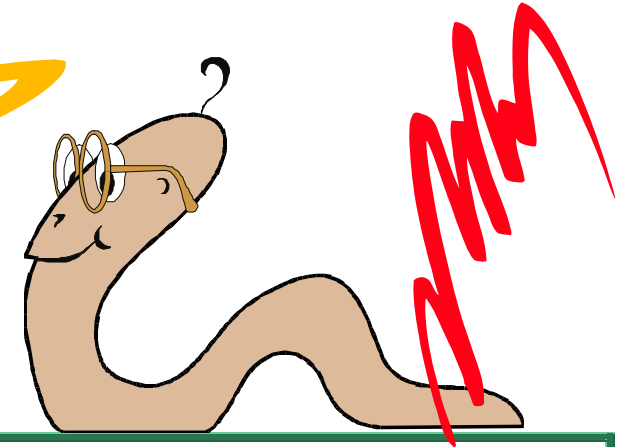
OBSERVO Y CONTESTO:

- Busca los sinónimos y antónimos de la columna A. Habrás de escribir los sinónimos en la columna B y los antónimos en la C.




FICHA DE LECTURA Nº 93

Quien así hablaba era la lombriz Eustaquio
Tenía miedo de que le rechazaran por su
torneza y por esa razón no había dicho
nada pero desde luego hubiera dado
cualquier cosa -incluso su brazo derecho de
haber tenido brazos- por acompañar al
profesor Col en su aventura



OBSERVO Y CONTESTO:

1. ¿Cómo se llamaba la lombriz?
2. ¿A qué tenía miedo la lombriz?
3. ¿Por qué tenía miedo?
4. ¿Qué hubiese dado la lombriz por acompañar al profesor?
5. ¿Qué iba a comenzar el profesor?





FICHA DE LECTURA Nº 94






OBSERVO Y CONTESTO:

1. Escribe correctamente el primer texto.
2. Completa el segundo texto con los siguientes términos:
consumo – ciclo – equilibrio – demográfico – utilizada - doblando

¿Cómo usamos el agua?

El agua ha sido considerada comúnmente como un recurso renovable, cuyo uso no se veía limitado por el peligro de agotamiento que afecta, por ejemplo, a los yacimientos minerales. Los textos escolares hablan, precisamente, del “ciclo del agua” que, a través de la evaporación y la lluvia, devuelve el agua a sus fuentes para engrosar ríos, lagos y acuíferos subterráneos... y vuelve a empezar.

Y ha sido así mientras se ha mantenido un _____ en el que el volumen de agua _____ no era superior al que ese _____ del agua reponía. Pero el consumo de agua se ha disparado: a escala planetaria el consumo de agua potable se ha venido _____ últimamente cada 20 años, debido a la conjunción de los excesos de _____ de los países desarrollados y del crecimiento _____, con las consiguientes necesidades de alimentos.





FICHA DE LECTURA Nº 95

L
o
s
pro
ble
mas
que
sur-
gen

con
e
l
agua
son
que
u
q
e
tá
es

mente desigual
da
reparti-
>
que

bre hom
el
con su
OS u

la
es
tá
nando. contami




OBSERVO Y CONTESTO:

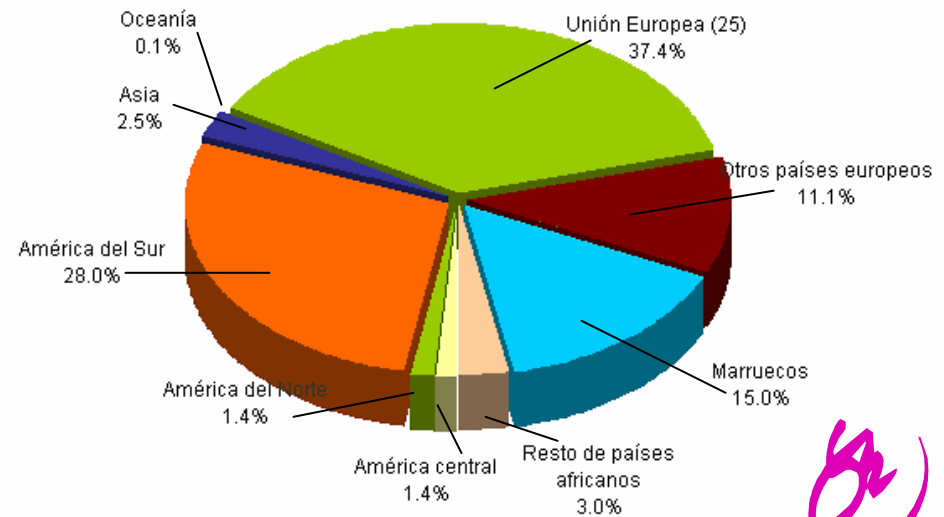
1. Escribe el texto



FICHA DE LECTURA Nº 96



Distribución de la población extranjera de 0 a 19 años según lugar de nacimiento. Andalucía 2005




Fuente: Padrón Municipal de habitantes de 2005 INE.

Elaboración: Defensor del Menor de Andalucía a partir de datos extraídos por el Observatorio de la Infancia en Andalucía

OBSERVO Y CONTESTO:

1. ¿Qué representa esta gráfica?
2. ¿Quién la ha elaborado?
3. Según se refleja, ¿de qué lugar proceden la mayor parte de la población extranjera?
4. ¿Cuántos provienen de América del Sur?
5. ¿El 15,0 % a qué población hace referencia?





FICHA DE LECTURA Nº 97

OBSERVO Y CONTESTO:

1. Uniendo elementos de A, B y C formarás frases. Fíjate bien e inténtalo.



A

B

C

1 Las aguas

5 están formados

9 y que el hombre con su uso la está contaminando.

2 La sangre, el sudor, los jugos gástricos y la orina

6 son que está desigualmente repartida

10 grandes cantidades de agua.

3 Las fábricas y las centrales eléctricas

7 se contaminan

11 por agua.

4 Los problemas que surgen con el agua

8 también utilizan

12 con las aguas sucias de los pueblos, con los vertidos de las industrias, etc.





FICHA DE LECTURA Nº 98

OBSERVO Y CONTESTO:

1. En el texto hay varias palabras que no concuerdan con el sujeto, ¿sabes cuáles son?

HAY AGUA POR TODAS PARTES

La mayor parte de nuestra Tierra está cubierta de agua. Casi tres cuartas partes de la superficie de la Tierra son océano y mares. El agua del mar es salada. También hay mucha agua en tierra firme:

estanques, arroyos, ríos, lagos y subsuelo. Esta agua proviene de la lluvia. No es salada. En nuestros cuerpos hay abundante agua así como en los animales y las plantas. Sin agua todo se moriría.





FICHA DE LECTURA Nº 99

DESGLOSE POR BLOQUES														
CONSUMO DE AGUA					ALCANTARILLADO VARIABLE					DEPURACION VARIABLE				
Blq	Limite	m³	Euro/m³	Importe	Blq	Limite	m³	Euro/m³	Importe	Blq	Limite	m³	Euro/m³	Importe
1	15	15	0,3651	5,48	1	15	15	0,0580	0,87	1	15	15	0,1472	2,21
2	36	21	0,6143	12,90	2	36	21	0,0790	1,66	2	36	21	0,1992	4,18

aqualia gestión integral del agua, S.A. A26019992 Factura nº: 14362007P0032902
C/ Jacinto Benavente nº 3 Bajo.
14.400 Pozoblanco (Córdoba)

CONCEPTOS FACTURADOS	Mº Fac	Importe	% I.V.A.	Tipo I.V.A.	Base Imponible	Importe I.V.A.	Importe Total
CONSUMO DE AGUA	36	18,38	7,00	7,00%	23,17	1,62	24,79
CUOTA SERVICIO		4,79	7,00				
TOTAL FACTURA					23,17	1,62	24,79

Excmo. Ayuntamiento de Pozoblanco P1405400A Factura nº: 14362007P0031728
Cronista Sepulveda, 2
14.400 - Pozoblanco (Córdoba)

CONCEPTOS FACTURADOS	Mº Fac	Importe	% I.V.A.	Tipo I.V.A.	Base Imponible	Importe I.V.A.	Importe Total
ALCANTARILLADO FIJO		1,52		No suje	14,92	0,00	14,92
ALCANTARILLADO VARIABLE	36	2,53					
DEPURACION FIJA		4,48					
DEPURACION VARIABLE	36	6,39					
TOTAL FACTURA					14,92	0,00	14,92

TOTAL EN EUROS
39,71



JACINTO BENAVENTE 3

Pozoblanco

14400 Córdoba

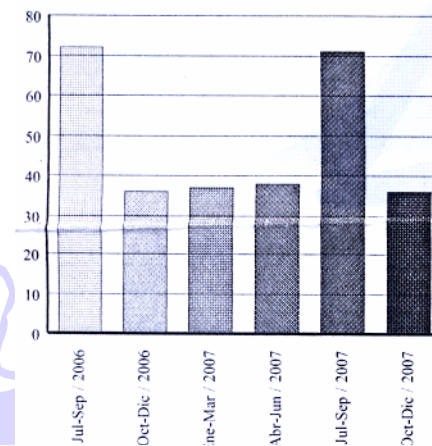
EXCELENTISIMO AYUNTAMIENTO DE POZOBLANCO.
SERVICIO MUNICIPAL DE AGUAS

FACTURACIÓN Oct - Dic / 2007

Número contador: 97124133 Calibre: 13
Tipo de contador: Individual normal
Lectura anterior: 1878 Fecha: 28/08/2007
Lectura actual: 1914 Fecha: 27/11/2007

Consumo: 36 Tipo: REAL Días cons: 91
Tarifa: DOMEST.-COMERCIAL Cat: Única
Actividad ppal: Doméstica Usuarios: 1

HISTORIAL DE CONSUMOS



OBSERVO Y CONTESTO:

1. ¿Qué empresa presenta este recibo?
2. ¿El consumo es de: teléfono, agua, butano, electricidad, basura?
3. ¿A qué período corresponde el recibo?
4. ¿Qué importe deberemos pagar?
5. ¿Qué período es el de mayor consumo?